



به نام آنکه هستی، نام از او یافت

درس ریاضی

۸








نماز و عبادت



برای هر کدام یک داستان بگو.
دور هر میز چند نفر جا می شوند؟ چند نفر نشسته اند؟
چند تا جای خالی است؟



بشمعار و
بشویب



| | | | |
|--|--|--|--|
| | | | |
| | | | |
| | | | |
| | | | |





کن الگویابی

الگوها را ادامه بده و شکلی را که تکرار می شود در ستون سمت راست بکش.
 الگوها را ادامه بده و در جاهای خالی یک الگو بساز.





A large grid-based activity area divided into two columns by a vertical orange line. The grid consists of 10 horizontal rows and 10 vertical columns. The first four rows contain patterns of colored lines (red, green, blue, yellow) that form a series of connected squares and rectangles. The first column shows the full pattern, and the second column shows the pattern starting from the second row, leaving the first row empty for the student to complete. The patterns are as follows:

- Row 1 (Red):** A series of 7 connected squares, each 1 unit wide and 1 unit high, with the top and bottom edges highlighted in red.
- Row 2 (Green):** A series of 5 connected rectangles, each 2 units wide and 1 unit high, with the top and bottom edges highlighted in green.
- Row 3 (Blue):** A series of 4 connected rectangles, each 2 units wide and 1 unit high, with the top and bottom edges highlighted in blue.
- Row 4 (Yellow):** A series of 3 connected rectangles, each 3 units wide and 1 unit high, with the top and bottom edges highlighted in yellow.

The second column contains the continuation of these patterns, starting from the second row, with the first row left blank for the student to draw the missing part of the pattern.



الگو را ادامه بده و در جاهای خالی یک الگو بساز .



هر شکل چه عددی را نشان می دهد؟

بشمار و بنویس

۴ ۴ ۴ ۴ ۴ ۴ ۴

هر شکل چه عددی را نشان می دهد .



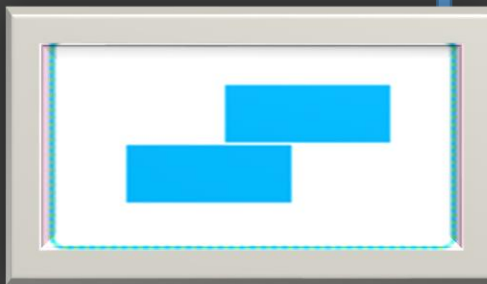
عدد مناسب هر شکل را بنویس.




۳



۲



۳



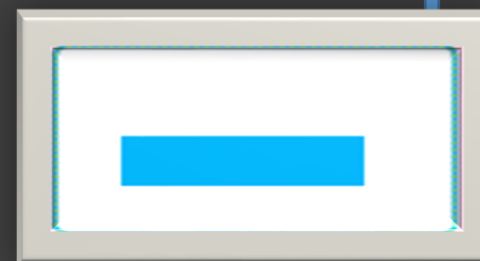
۴




۲



۱




اندازه ی هر شکل چند تا گیره است؟ کنار آن بنویس .



۴



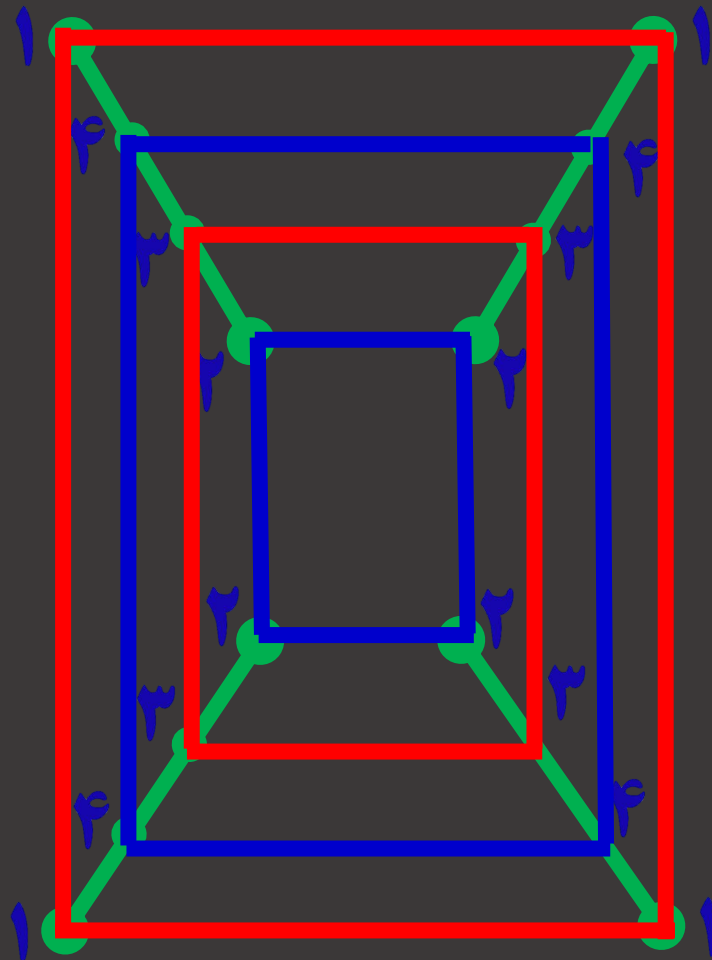
۳



۴



عددهای مثل هم را با خط کش به هم وصل کن
تا شکل سمت چپ به دست آید .



مربع های شگفت انگیز را با عددهای مناسب کامل کن .



| | | | |
|---|---|---|---|
| ۲ | ۱ | ۴ | ۳ |
| ۳ | | | ۲ |
| ۱ | | | ۴ |
| ۴ | ۳ | ۲ | ۱ |



| | | | |
|---|---|---|---|
| ۱ | ۲ | ۳ | |
| ۴ | | | ۱ |
| ۲ | ۱ | | ۳ |
| ۳ | ۴ | ۱ | ۲ |



مربع های شگفت انگیز را با عددهای مناسب کامل کن .



| | | | |
|---|---|---|---|
| ۲ | ۱ | ۴ | ۳ |
| ۳ | ۴ | ۱ | ۲ |
| ۱ | ۲ | ۳ | ۴ |
| ۴ | ۳ | ۲ | ۱ |



| | | | |
|---|---|---|---|
| ۱ | ۲ | ۳ | ۴ |
| ۴ | ۳ | ۲ | ۱ |
| ۲ | ۱ | ۴ | ۳ |
| ۳ | ۴ | ۱ | ۲ |



