

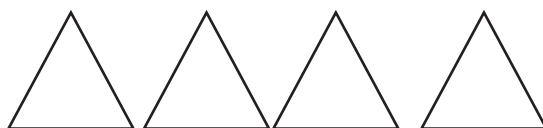


ارزیابی تم ۱ تا ۱۰



"ارزیابی تم ۱ تا تم ۱۰"



۱- به تعداد شکل های سمت چپ از شکل های سمت راست رنگ بزن.




۲- الگوی منظم را پیدا کن و رنگ بزن.



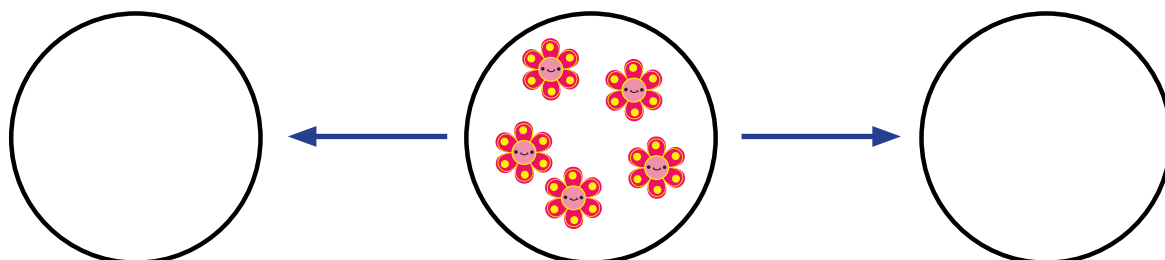

۳- به تعداد انگشتان هر دست شکل بکش.



۴- جدول شگفت انگیز را با شکل های داده شده کامل کن.





۵- یکی قبل و یکی بعد از هر دسته را با کشیدن شکل های داخل دایره نشان بده.



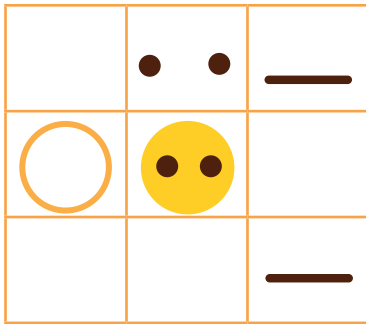
۶- الگو را ادامه بده.





۷- به هر دسته دو شکل اضافه کن. و از دایره ها رنگ بزن.



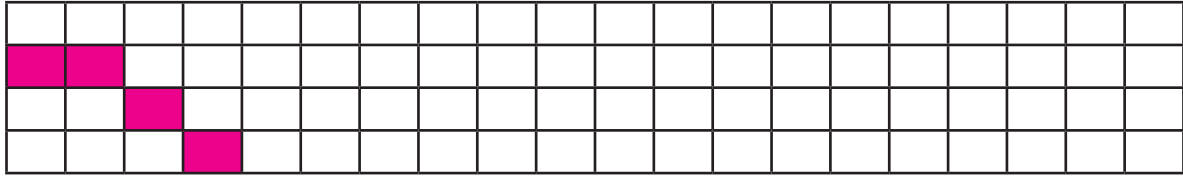
۸- جدول زیر را کامل کن.



۹- با کشیدن چوب خط حساب کن شکل های سمت چپ و راست با هم چندتا هستند.




۱۰- الگوی شطرنجی را ادامه بده.




۱۱- به تعداد شکل های سمت چپ از انگشتان باز کن. سپس به تعداد شکل های سمت راست از انگشتان خود ببند. حالا چند تا می ماند؟ به تعداد آن چوب خط بکش.



۱۲- با استفاده از خط کش شابلونی، یک ۳ گوشه، یک چهار گوشه، و یک پنج گوشه بکش.



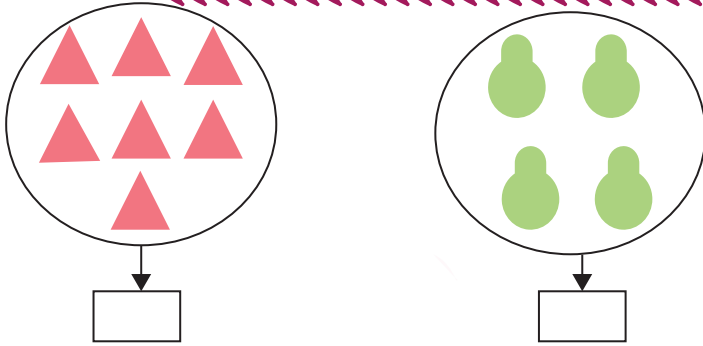
۴ ۳



۴ ۵

۱۳- دور عدد درست خط بکش. «شکل»

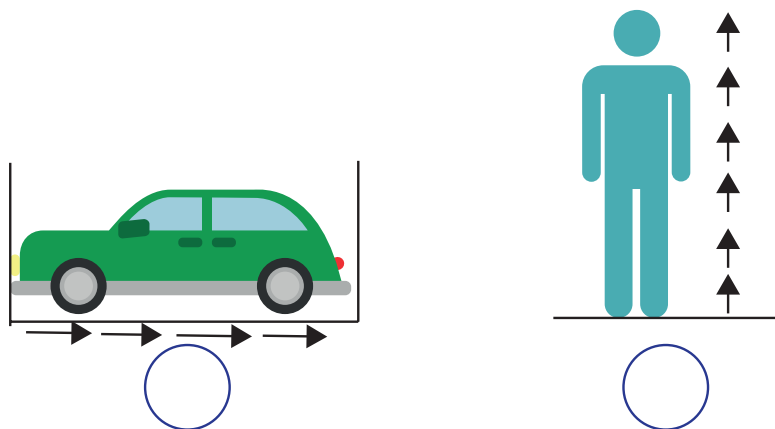
۱۴- عدد مناسب بنویس.



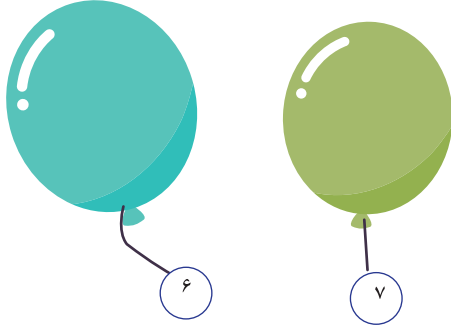
۱۵- جدول شگفت انگیز را کامل کن.

۴		۵	۶	۱	۳
	۶	۱	۴	۵	
۵	۳	۴	۲		۱
۶	۱		۵		۴
۲	۵	۳		۴	۶
۱	۴		۳	۲	۵

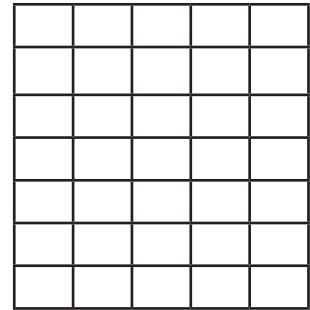
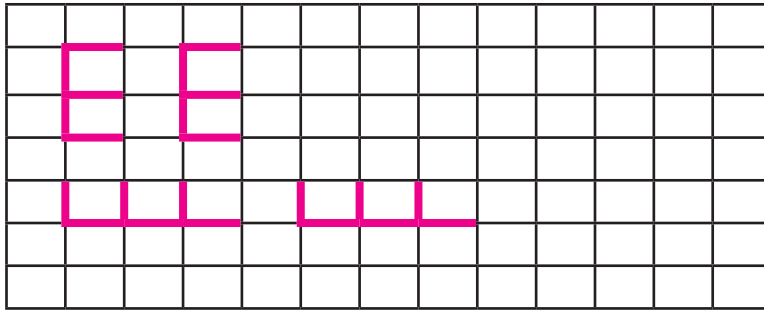
۱۶- اندازه ی هر شکل چند تا فلش است؟ عدد آن را بنویس.



۱۷- به اندازه ی عدد داده شده شکل بکش.



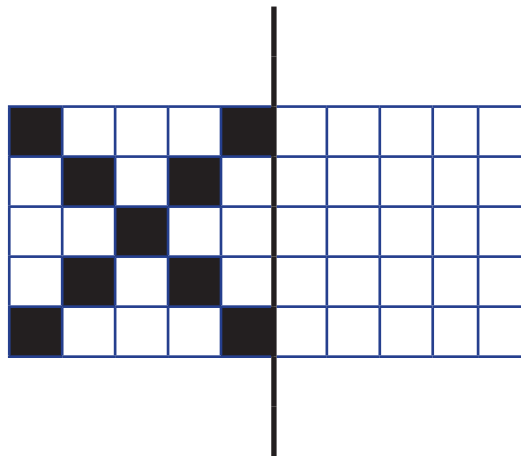
۱۸- الگو را ادامه بده و الگوی تکرار شونده را سمت راست بکش.



۱۹- قطار عددها در حال آمدن است، به ترتیب بنویس.



۲۰- نیمه ی دیگر شکل را بکش.



۲۱- در هر ردیف به تعداد عدد سمت چپ مربع ها را قرمز کن و به اندازه ی عدد سمت راست مربع ها را سبز کن و داخل \bigcirc بنویس روی هم چند مربع رنگ شده است.
«شکل»



۲۲- عدد هر دسته را بنویس و در هر قسمت، مربع بالای دسته ی بیشتر را قرمز کن.

<input type="text"/>	<input type="text"/>	<input type="text"/>	<input type="text"/>
<input type="text"/>	<input type="text"/>	<input type="text"/>	<input type="text"/>