

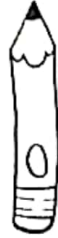
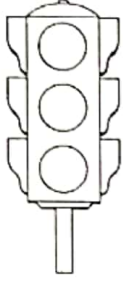

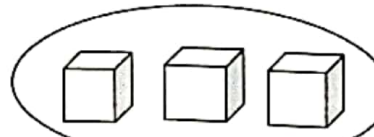
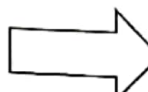
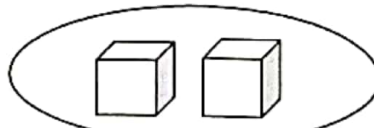
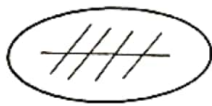
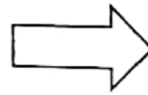
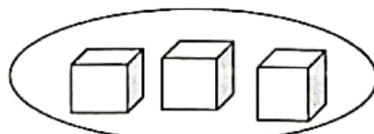


*** تمرین ۱۰ ***

۱- کدام یک از تصاویر زیر متقارن هستند؟ دور آنها خط بکش.



۲- تعداد چینه ها و تعداد چوب خط ها را باهم جمع کن و جواب را با عدد بنویس.



۳- دلبندم، اگر ۵ تا آدامس داشته باشی و دوستت هم ۲ تا آدامس به شما بدهد.

حالا چند تا آدامس داری؟

(با رسم شکل جواب را به دست بیاور)

۴- دانش آموز کوشا :

الف) جدول شگفت انگیز را کامل کن.

۲	۵		۶	۳	۴
	۴	۶	۲	۵	
۱	۲	۵		۶	۳
۴		۳	۵	۱	
۵	۱	۴		۲	۶
۶	۳		۱		۵

ب) بگو و بنویس.

۶									
---	--	--	--	--	--	--	--	--	--

۷									
---	--	--	--	--	--	--	--	--	--