

کتاب کا ریاضی علوی صفحہ ۵۷ تا ۶۱

تہیہ کنندہ: ہانیہ میر جہان




۱ به تصاویر نگاه کن و پاسخ پرسش‌های زیر را بلند بگو.

روی هر درخت چند سیب قرمز می‌بینی؟

روی هر درخت چند سیب زرد می‌بینی؟

روی هر درخت در کل چند سیب می‌بینی؟



برای تصویر زیر یک داستان بگو و به سؤالات پاسخ بده.



الف) چند شمع روی کیک می‌بینی؟ به همان تعداد در ابر روبه‌رو دایره بکش.

ب) چند شمع فوت شده و خاموش است؟ به تعداد آن از دایره‌هایی که کشیده‌ای خط بزن.

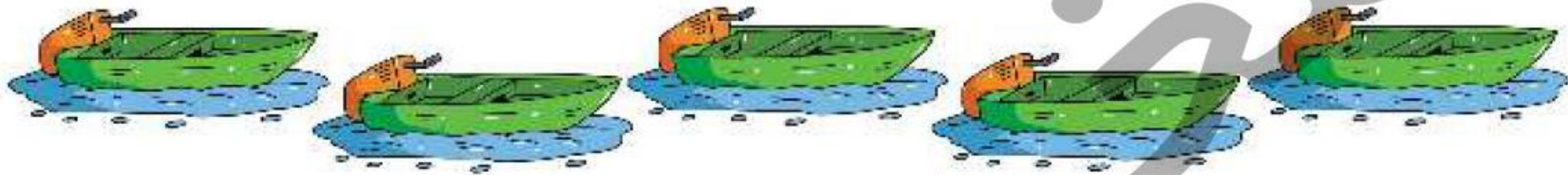

پ) چند شمع روشن روی کیک باقی مانده است؟ دور دایره‌های باقی مانده خط بسته بکش.





در هر ردیف از شکل‌ها سه تا جدا کن و دور آن خط بسته بکش.

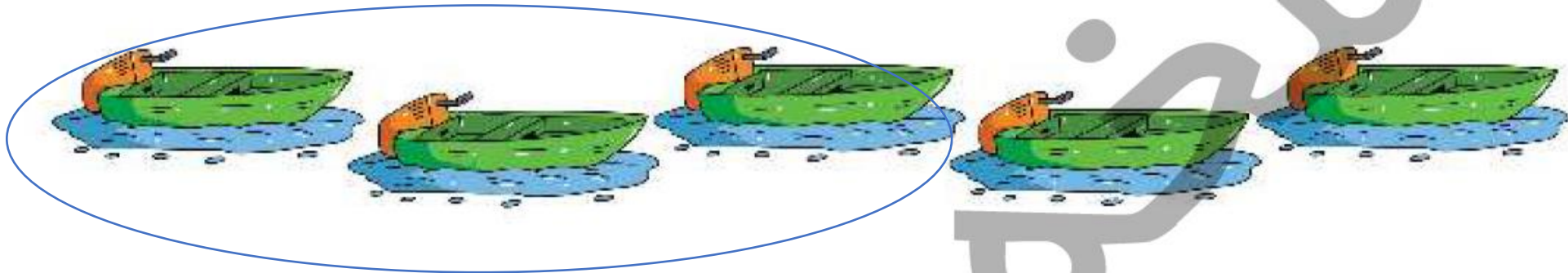

۲



نسخه

در هر ردیف از شکل‌ها سه تا جدا کن و دور آن خط بسته بکش.

۲

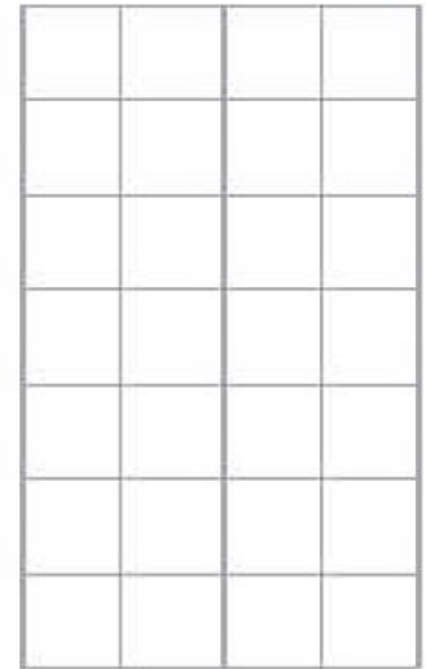
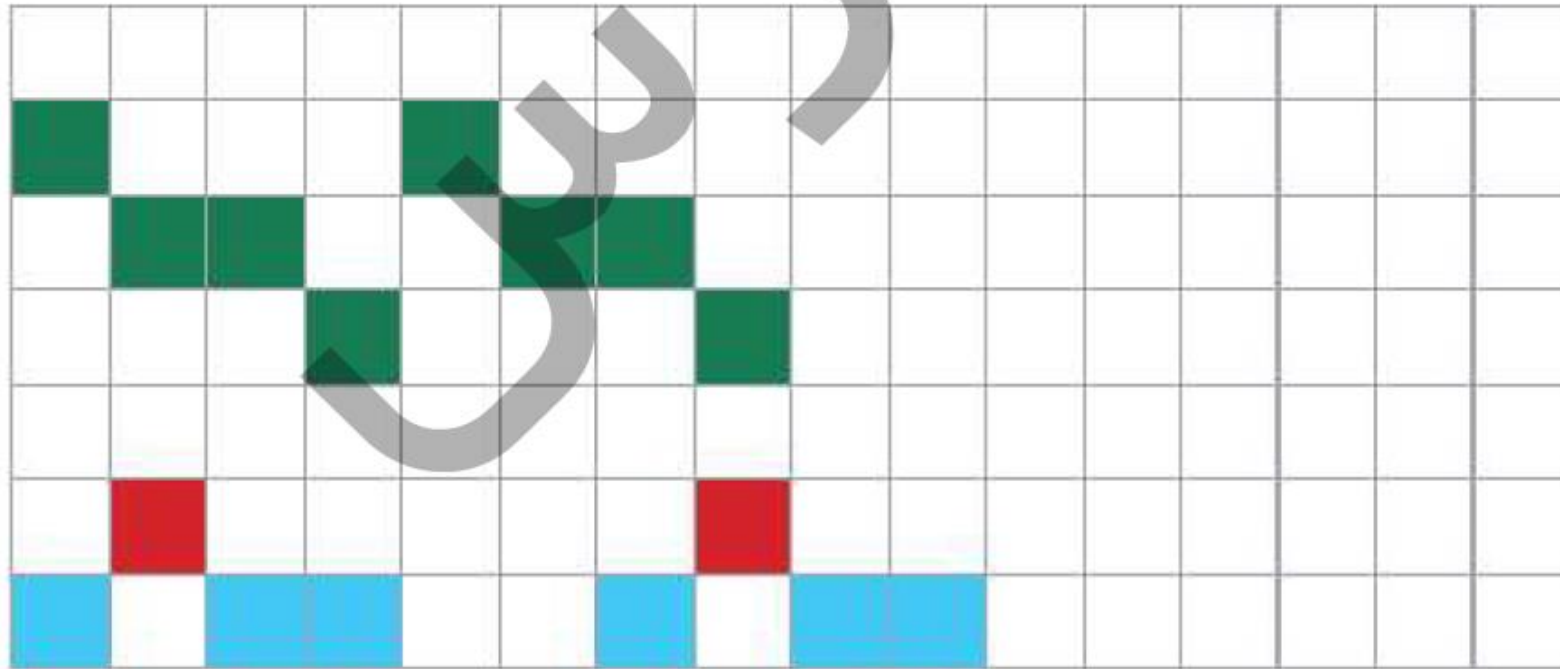


حالا عدد ۲ را بنویس و سپس در خط دوم یک بار از عدد ۱ تا ۲ را به ترتیب بنویس.


۳ ۳ ۲ ۲

۱ ۲ ۳

۴ الگوهای زیر را ادامه بده و الگویی که تکرار شده را در سمت راست بکش.



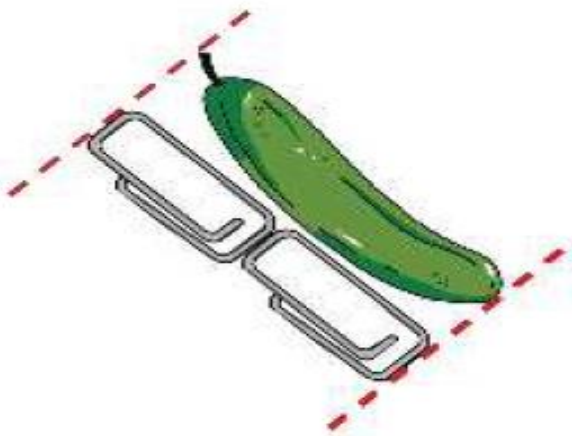
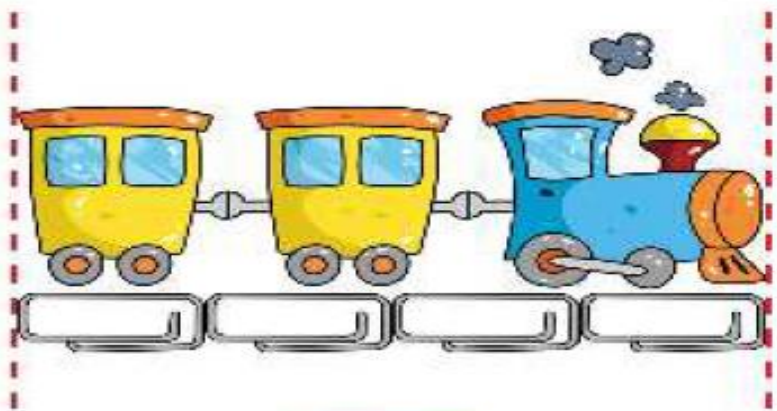


۵ برای هر یک از حیوانات زیر به تعداد لازم دست و پا بکش. کدام حیوانات ۴ تا دارند؟





هر شکل از چند گیره درست شده است؟ عدد درست را زیر آن بنویس.



م



حالا عدد ۴ را بنویس و سپس در خط دوم یک بار از عدد ۱ تا ۴ به ترتیب بنویس.

۴ ۴ ۴ ۴

۱ ۲ ۳ ۴

عدد هر دسته را بنویس.

۶



4



2



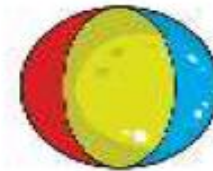
3



2



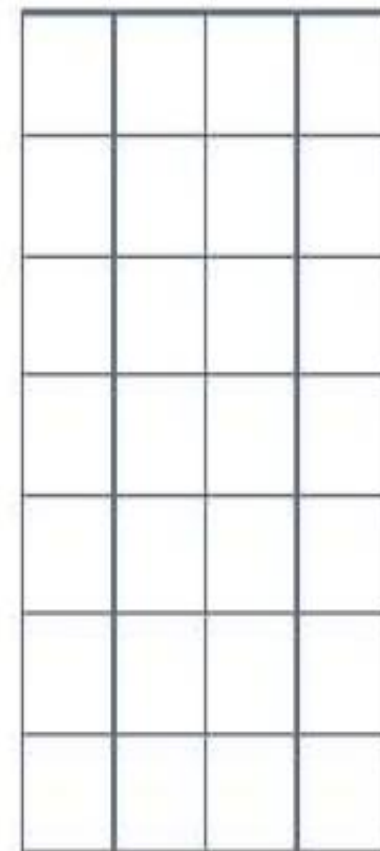
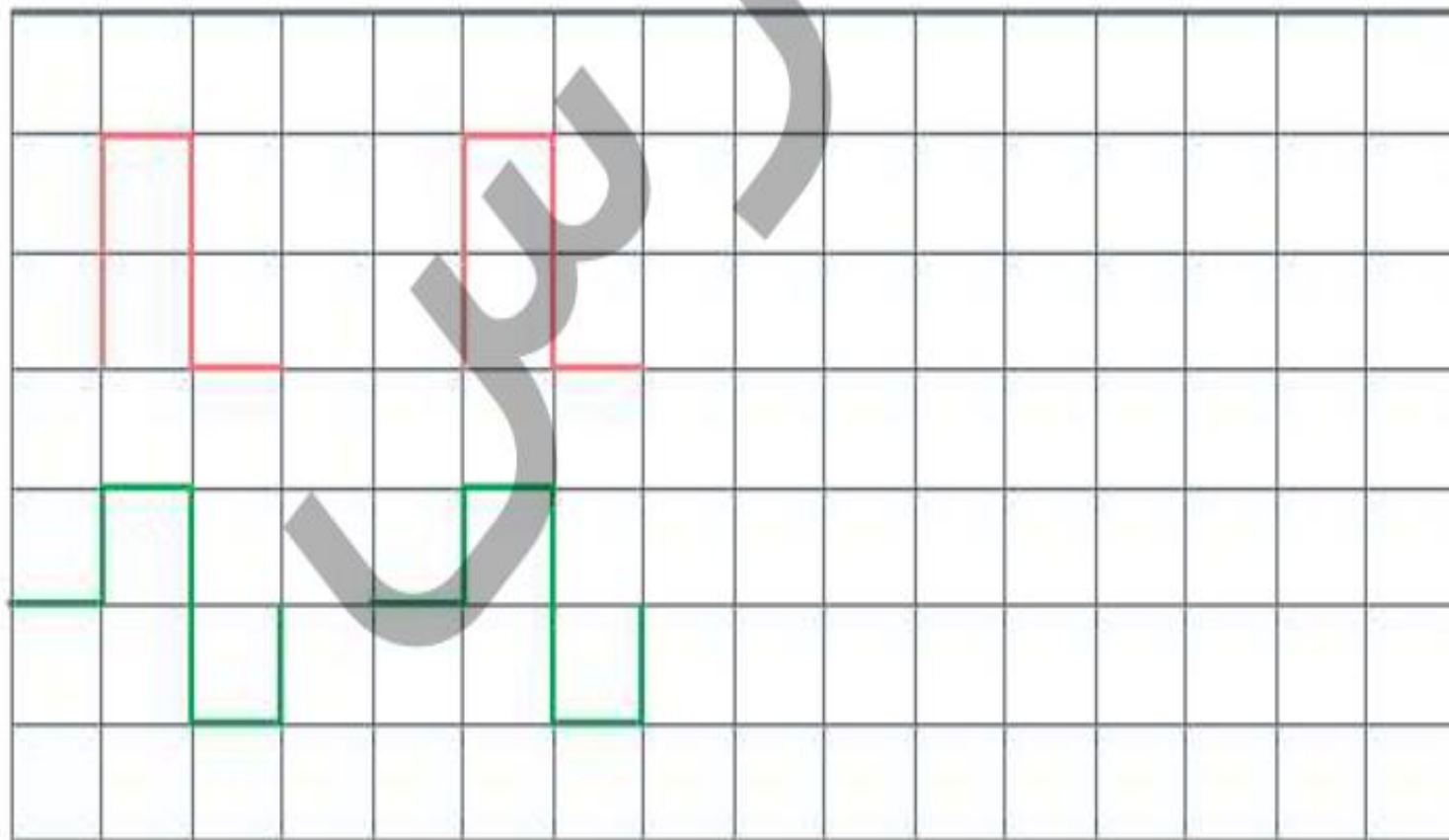
3



1

الگوها را ادامه بده و الگویی که تکرار می‌شود را در سمت راست بکش.

۸



جدول‌های شگفت‌انگیز زیر را با عددهای مناسب کامل کن.

۹

۱	۲		۴
	۴	۱	
	۳	۴	
۴			۳

۳	۴	۱	۲
۱			
۴	۲	۳	۱

	۴		۱
		۳	۴
	۳		
۴	۲	۱	



جدولهای شگفتانگیز زیر را با عددهای مناسب کامل کن.


۹

۱	۲	۳	۴
۳	۴	۱	۲
۲	۳	۴	۱
۴	۱	۲	۳

۳	۴	۱	۲
۲	۱	۴	۳
۱	۳	۲	۴
۴	۲	۳	۱

۳	۴	۲	۱
۲	۱	۳	۴
۱	۳	۴	۲
۴	۲	۱	۳

۱۰- عددهای مثل هم را با خط کش و با رنگ مناسب به هم وصل کن تا شکل سمت چپ به دست آید.



ملازمین

تعام