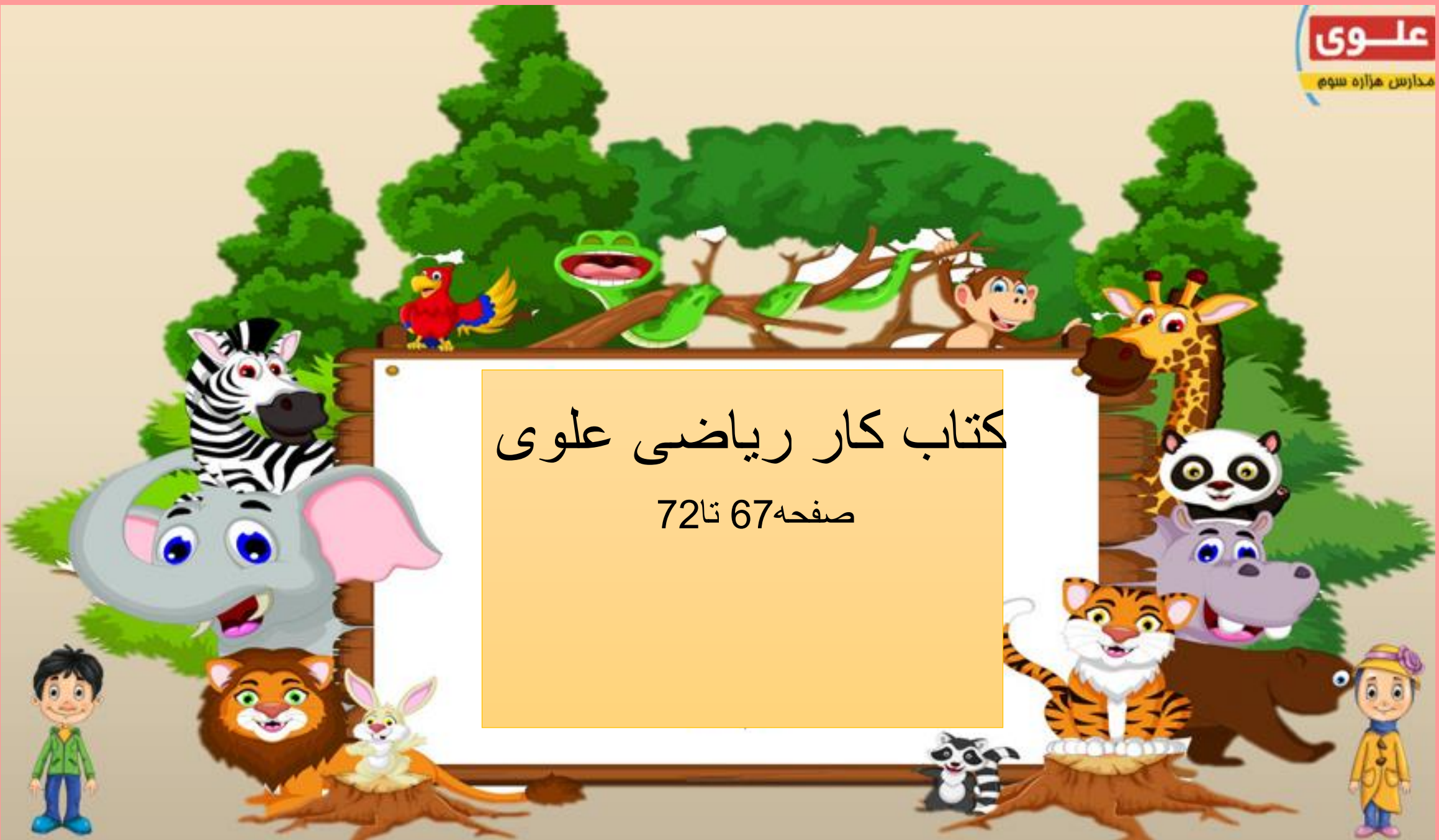


# کتاب کار ریاضی علوی

صفحه 67 تا 72

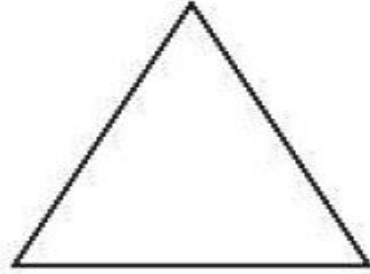


هر شکل چند گوشه دارد؟ مانند نمونه بنویس و به تعداد لبه‌های هر شکل، داخل آن شکل چوب‌خط بکش.

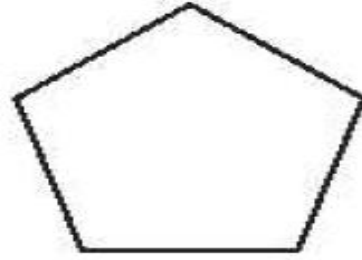
۷




۴



.....



.....



.....

تعداد هر شکل را بشمار و روی عدد نامناسب خط بزن.

۸




۲

۴



۳

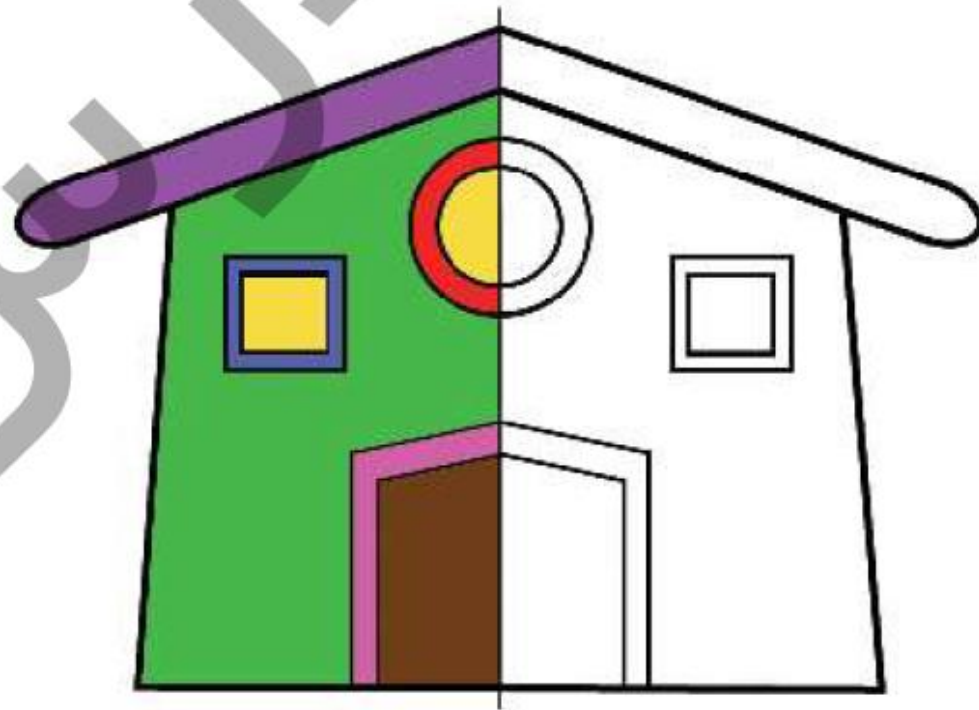
۴



۴

۵

۹ نیمه‌ی دیگر شکل را مثل نیمه‌ی رنگ شده، رنگ بزن.



دانش آموز بتواند گوشه‌ها و لبه‌های شکل‌ها را بشمارد.

دانش آموز بتواند اعداد ۱ تا ۵ را به درستی تشخیص دهد.

دانش آموز بتواند مفهوم تقارن را درک کند.


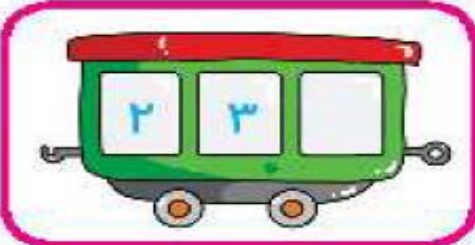
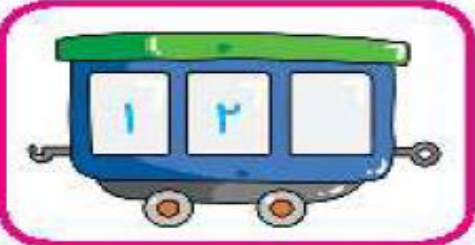



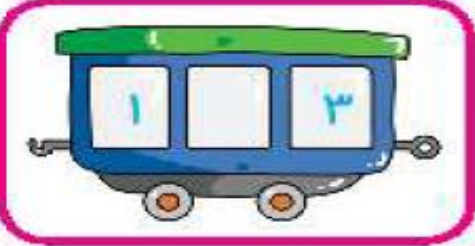
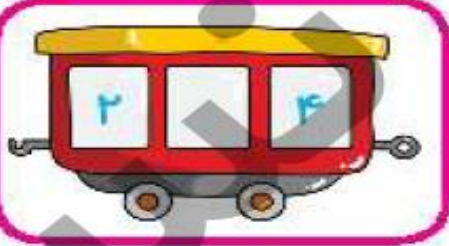

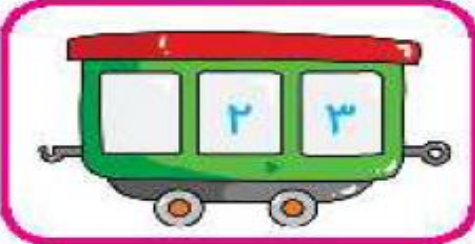




۶۷

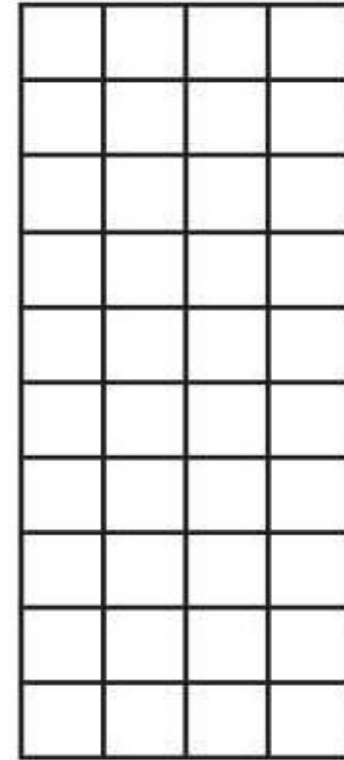
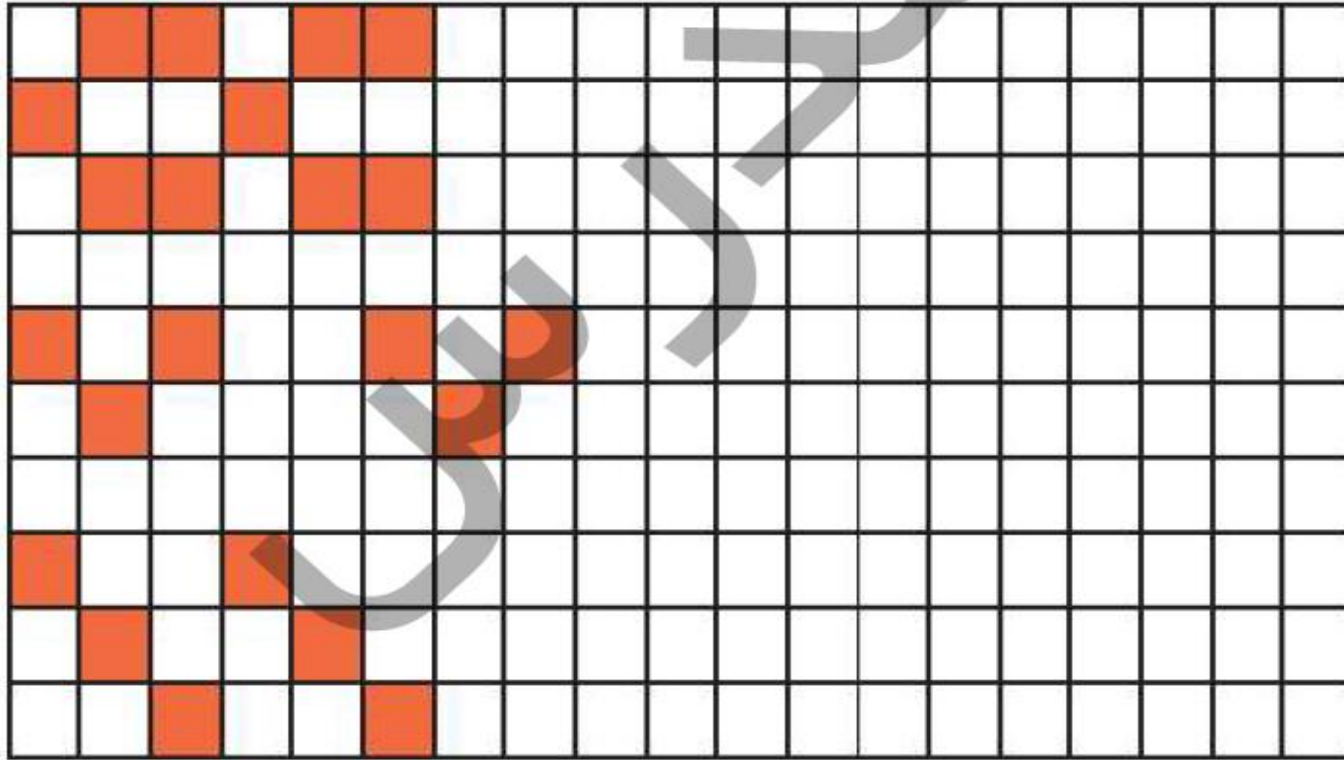


روی پنجره‌های واگن قطار عددهایی نوشته شده است. بعضی از پنجره‌ها عدد ندارند. با رعایت ترتیب، اعداد مناسب را

در پنجره‌های خالی بنویس. عددهایی را که در واگن‌ها نوشتی در مستطیل سمت چپ به ترتیب بنویس.




۱۱ الگوهای زیر را ادامه بده و الگویی که تکرار شده است را در سمت راست بکش.



- دانش آموز بتواند اعداد صفر تا ۵ را به درستی و به ترتیب بنویسد.
- دانش آموز بتواند الگو را به درستی ادامه دهد و الگوی تکرار شونده را تشخیص دهد.

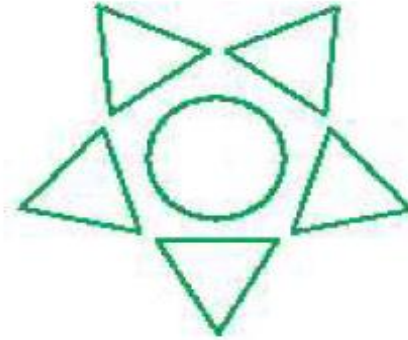
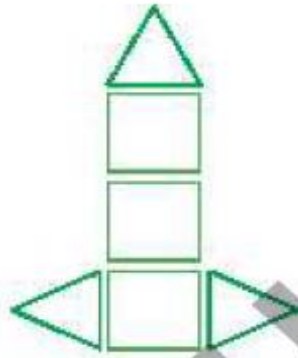
انگشتان یک دست را تا جایی که امکان دارد به دست دیگر منتقل کن و تعداد آن را با چوبخط نشان بده.

۱



۲ به تعداد هر شکل چینه‌ها را رنگ بزن. برای رنگ کردن از ۲ رنگ استفاده کن.

با چوب‌خط در مستطیل زیر تعداد کل هر شکل را نشان بده.



حالا عدد ۶ را بنویس و در خط دوم یک بار از صفر تا ۶ بنویس.

۶ ۶ ۶ ۶



تعداد شکل‌های سمت راست را داخل دایره‌ی راست و تعداد شکل‌های سمت چپ بنویس و سپس

تعداد کل هر دسته را در دایره‌ی بالا بنویس.

