




به نام خدا
درس ریاضی تم 13











رفتن به رستوران

عدد مربوط به انگشتان هر دسته را بنویس . انگشتان دست چپ را تا جایی که می شود به دست راست منتقل کن و حاصل را بنویس .




| | | | | |
|---|---|--|---|----------------------|
|  |  |  | | |
| <input type="text"/> | + | <input type="text"/> | = | <input type="text"/> |




| | | | | |
|---|---|----------------------|---|----------------------|
|  |  | | | |
| <input type="text"/> | + | <input type="text"/> | = | <input type="text"/> |




| | | | | |
|--|--|----------------------|---|----------------------|
|  |  | | | |
| <input type="text"/> | + | <input type="text"/> | = | <input type="text"/> |




| | | | | |
|--|--|----------------------|---|----------------------|
|  |  | | | |
| <input type="text"/> | + | <input type="text"/> | = | <input type="text"/> |

عدد مربوط به انگشتان هر دسته را بنویس . انگشتان دست چپ را تا جایی که می شود به دست راست منتقل کن و حاصل را بنویس .


$$۳ + ۱ = ۴$$




$$۳ + ۳ = ۶$$





$$۴ + ۳ = ۷$$




$$۴ + ۴ = ۸$$

ابتدا به تعداد شکل های هر دسته در سمت راست چوب خط بکش
 و سپس عبارت جمع را کامل کن .



+



=



..... + =




+




=



..... + =



+




=




..... + =

ابتدا به تعداد شکل های هر دسته در سمت راست چوب خط بکش
 و سپس عبارت جمع را کامل کن .



+



-




$$4 + 3 = 7$$




+




-




$$5 + 3 = 8$$



+



-



$$5 + 2 = 7$$

دو عدد را پیدا کن که جمع آن ها برابر با عددی باشد که بالای ستون نوشته شده است .



| ۳ | ۳ | ۴ | ۵ | ۶ |
|---|---|---|---|---|
| ۰ | ۳ | ۰ | ۵ | ۰ |
| ۱ | ۱ | ۱ | ۴ | ۱ |
| ۲ | ۰ | ۲ | ۲ | ۲ |
| | | ۳ | ۲ | ۳ |
| | | ۴ | ۱ | ۴ |
| | | | ۰ | ۵ |
| | | | ۵ | ۰ |
| | | | | ۶ |



سربلند و سرافراز باشی

