

به نام خدا
درس ریاضی تم 13





رفتن به رستوران

دو عدد را پیدا کن که جمع آن ها برابر با عددی باشد که بالای ستون نوشته شده است .



۳	۳	۴	۵	۶
۰	۳	۰	۵	۰
۱	۱	۱	۴	۱
۲	۰	۲	۲	۲
		۳	۲	۳
		۴	۱	۴
			۰	۵
			۵	۰
				۶

به تعداد عدد سمت چپ مربع آبی و به تعداد عدد سمت راست مربع سبز رنگ کن . چند تا مربع رنگ شده ؟ حاصل جمع را بنویس .



	$4 + 2 =$
	$2 + 3 =$
	$3 + 4 =$
	$6 + 2 =$
	$5 + 5 =$
	$4 + 6 =$
	$7 + 3 =$

به تعداد عدد سمت چپ مربع آبی و به تعداد عدد سمت راست مربع سبز رنگ کن . چند تا مربع رنگ شده ؟ حاصل جمع را بنویس .



4 blue squares	1 green square	5 empty squares
2 blue squares	3 green squares	5 empty squares
3 blue squares	2 green squares	5 empty squares
6 blue squares	1 green square	4 empty squares
5 blue squares	5 green squares	0 empty squares
4 blue squares	1 green square	5 empty squares
7 blue squares	0 green squares	5 empty squares

$$4 + 2 = 6$$

$$2 + 3 = 5$$

$$3 + 4 = 7$$

$$6 + 3 = 9$$

$$5 + 5 = 10$$

$$4 + 6 = 10$$

$$7 + 3 = 10$$

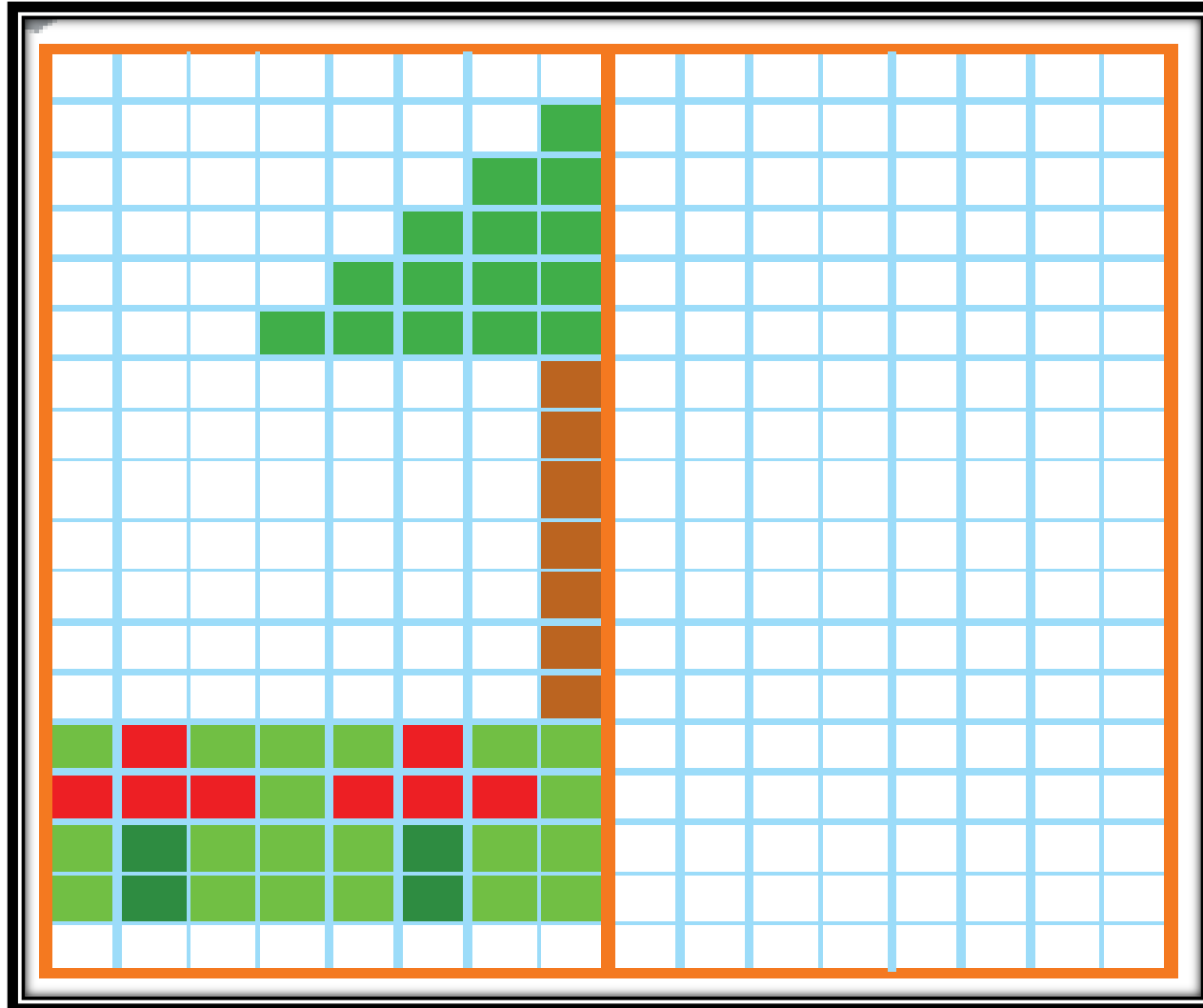


۱۰-۱۰-۱۰-۱۰

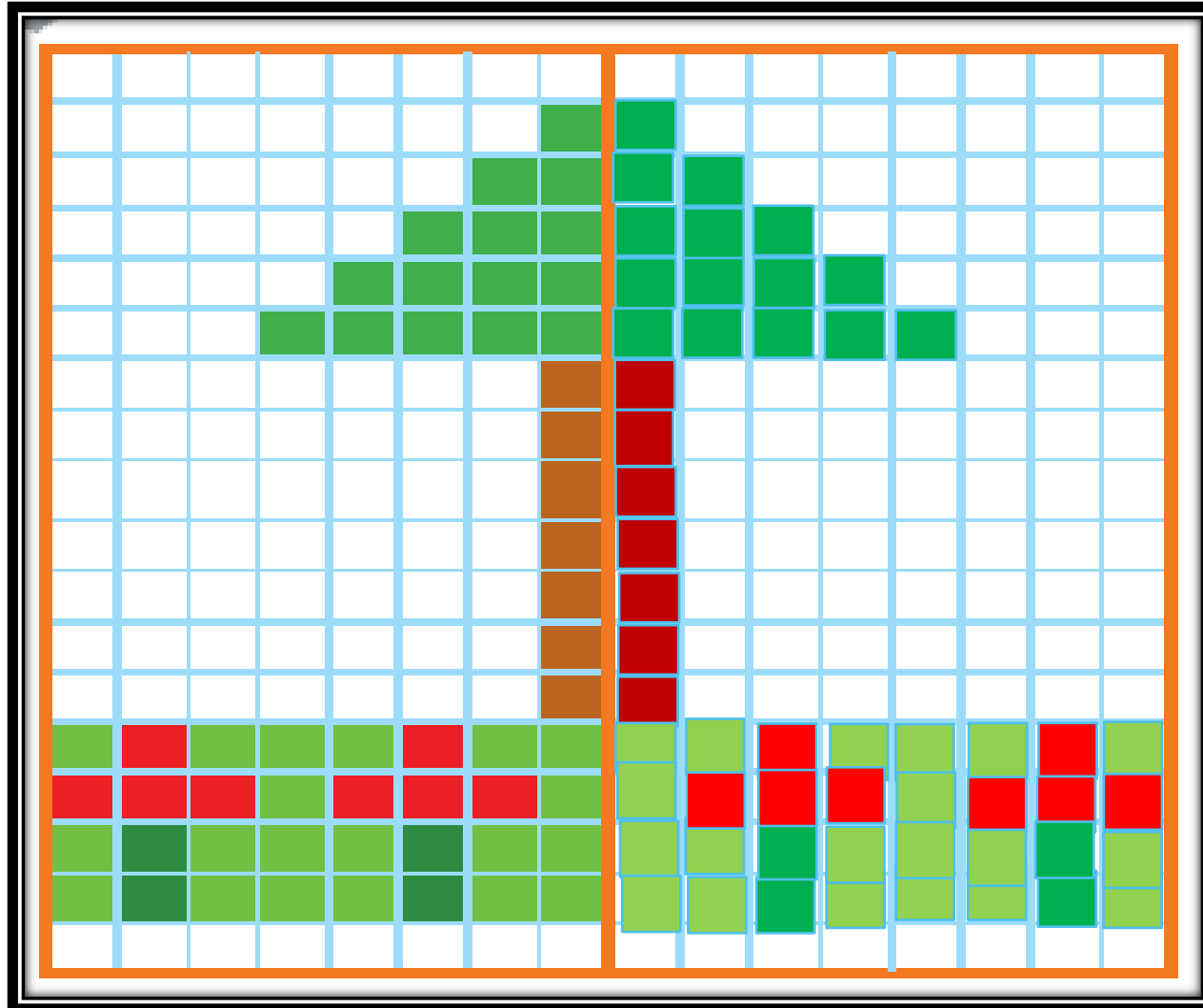
۱۰
###



نیمه ی سمت راست شکل را مثل نیمه سمت چپ آن رنگ رنگ کن .




نیمه ی سمت راست شکل را مثل نیمه سمت چپ آن رنگ رنگ کن .



مربع شگفت انگیز را کامل کن .

۴	۱	۵	۲	۶	۷	۹	۸	۳
۲	۹	۶	۵	۸	۳	۷	۴	۱
۷	۳			۹	۴		۵	۶
۱	۲			۴	۶	۵	۳	۷
۵	۸	۳	۷	۲	۹	۱	۶	۴
۶	۷	۴	۳	۱			۹	۲
۸	۵	۷	۴	۳			۲	۹
۳	۶	۱	۹	۵	۲	۴	۷	۸
۹	۴	۲	۶	۷	۸	۳	۱	۵



مربع شگفت انگیز را کامل کن .

۴	۱	۵	۲	۶	۷	۹	۸	۳
۲	۹	۶	۵	۸	۳	۷	۴	۱
۷	۳	۸	۱	۹	۴	۲	۵	۶
۱	۲	۹	۸	۴	۶	۵	۳	۷
۵	۸	۳	۷	۲	۹	۱	۶	۴
۶	۷	۴	۳	۱	۵	۸	۹	۲
۸	۵	۷	۴	۳	۱	۶	۲	۹
۳	۶	۱	۹	۵	۲	۴	۷	۸
۹	۴	۲	۶	۷	۸	۳	۱	۵

