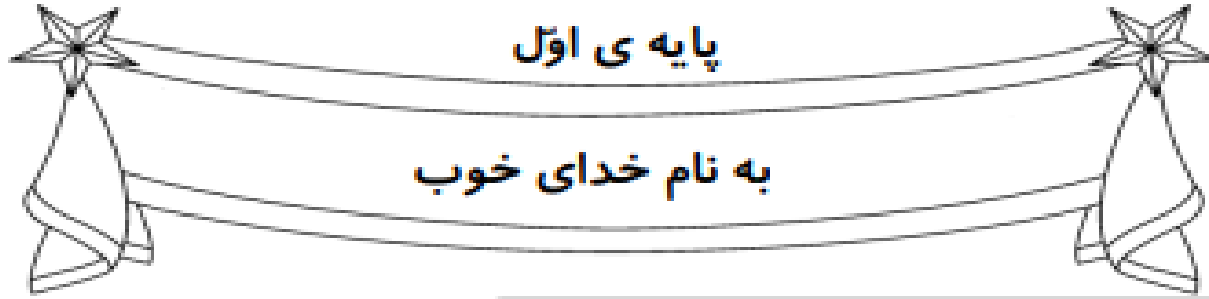


به نام خالق زیبایی ها

تحریر و تدریس تم 13

ریاضی اول دبستان



پایه ی اول

به نام خدای خوب



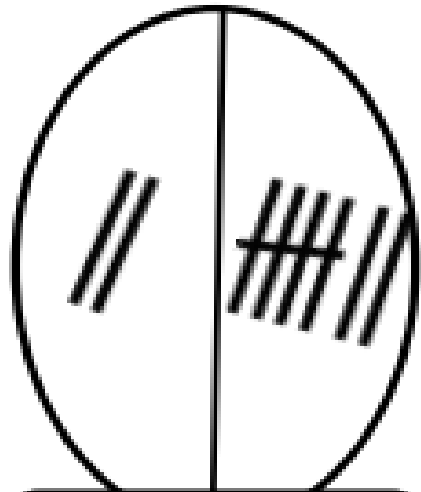
تکلیف
ریاضی

تم ۱۳

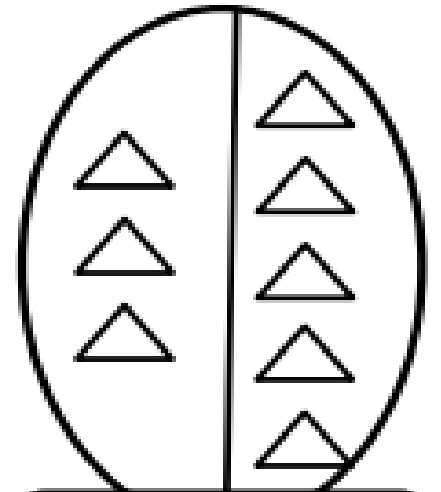
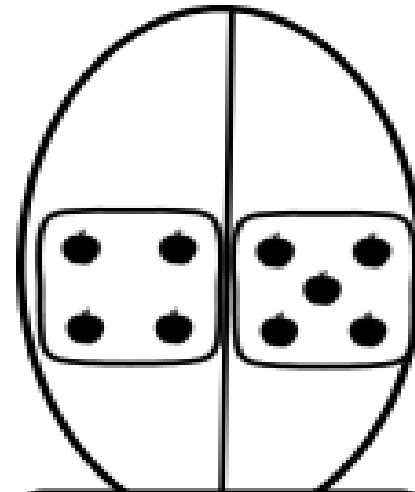
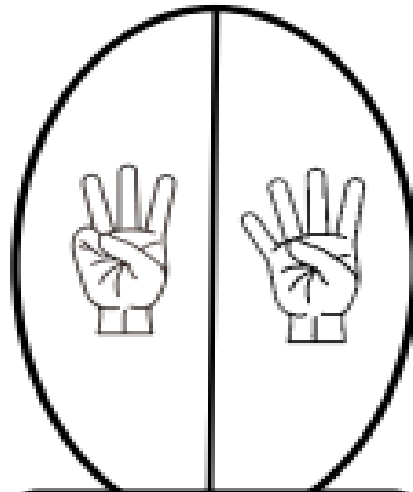
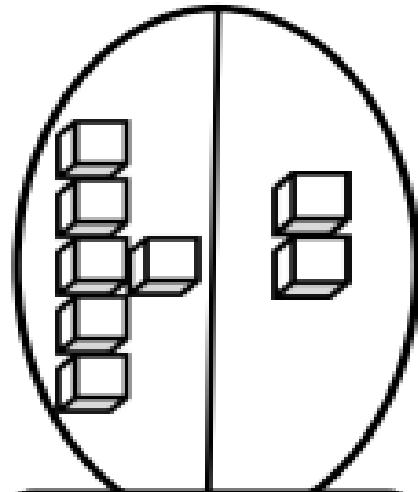
نام زیبای من:

تاریخ:

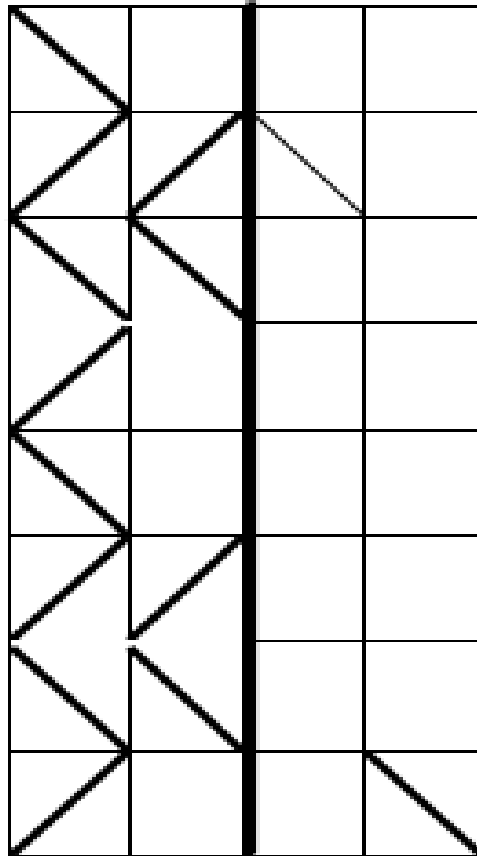
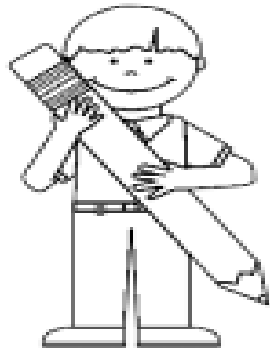
۱- برای شکل های زیر جمع بنویس.



$$۲ + ۷ =$$



۲- ابتدا مربع شگفت انگیز را کامل کن و سپس درجدول سمت چپ خانه ها را طوری کامل کن که دو نیمه مثل هم باشند.

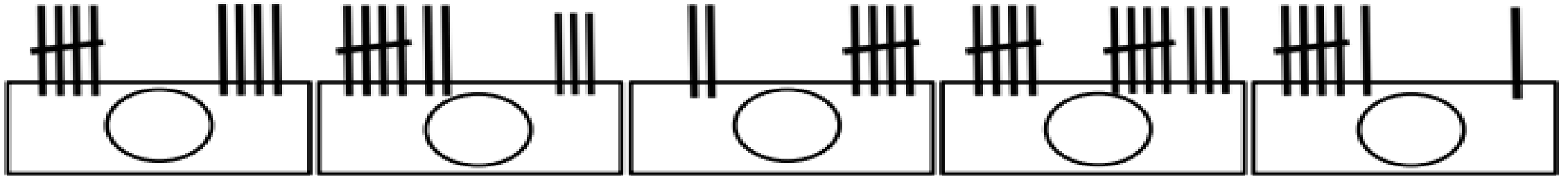


۸	۷	۴	۵		۲	۳	۶	۱
۶		۱	۳	۷	۴	۸		۹
۳	۵		۸	۱	۶		۴	۲
۹	۶	۷	۴	۲	۵	۱	۸	۳
	۳	۵		۸		۴	۲	
۲	۴	۸	۷	۳	۱	۵	۹	۶
۴	۹		۱	۵	۳		۷	۸
۵		۳	۹	۶	۷	۲		۴
۷	۱	۶	۲		۸	۹	۳	۵

۳- دور عدد های بیشتر از ۶ خط بکش.



۴- برای چوب خط ها عدد بنویس و بین دو عدد علامت کمتری یا بیشتری (<) بگذار.



۵- بین اعداد به طور مناسب علامت کمتری یا بیشتری (>) قرار بده.

۱ ○ ۴ ۲ ○ ۵ ۸ ○ ۱ ۴ ○ ۳ ۶ ○ ۳

۶- حاصل جمع های زیر را با کمک رنگ کردن چینه ها به دست آورید. (عدد اول، رنگ آبی - عدد دوم قرمز)



$$۵ + ۴ = \bigcirc$$




$$۴ + ۴ = \bigcirc$$



$$۲ + ۵ = \bigcirc$$




$$۶ + ۳ = \bigcirc$$



۷- از ۰ تا ۹ به ترتیب بنویس.

۸- الگوهای زیر را ادامه بده.



۷	۸	۸	۷								
---	---	---	---	--	--	--	--	--	--	--	--

نام دانش آموز آزمونک ۵ سوالی ریاضی هدف : تقویت مفاهیم جمع

۱- در هر ردیف دو عدد بنویس که جمع آن عدد بالای جدول باشد

۸	۹	۶	۵

۲- برای شکل ها جمع بنویس



$$\dots + \dots = \dots$$


$$\dots + \dots = \dots$$

نام دانش آموز آزمونک ۵ سوالی ریاضی هدف : تقویت مفاهیم جمع

۱- در هر ردیف دو عدد بنویس که جمع آن عدد بالای جدول باشد

۸	۹	۶	۵

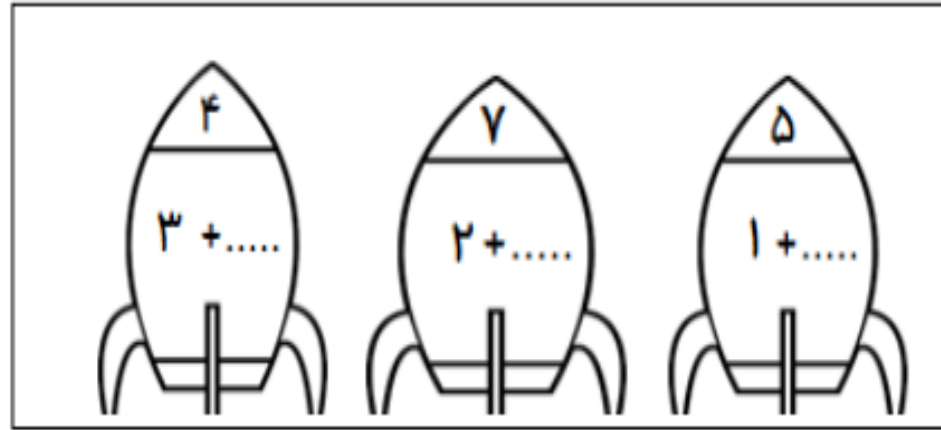
۲- برای شکل ها جمع بنویس



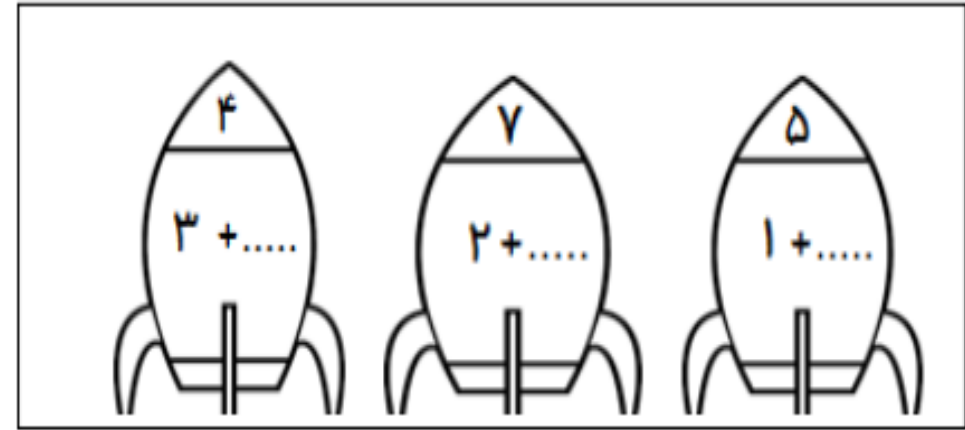
$$\dots + \dots = \dots$$

$$\dots + \dots = \dots$$


۳- در موشک ها عدد مناسب بنویس



۳- در موشک ها عدد مناسب بنویس



۴- با توجه به عدد عروسک ها در دست او جمع بنویس



۴- با توجه به عدد عروسک ها در دست او جمع بنویس

