
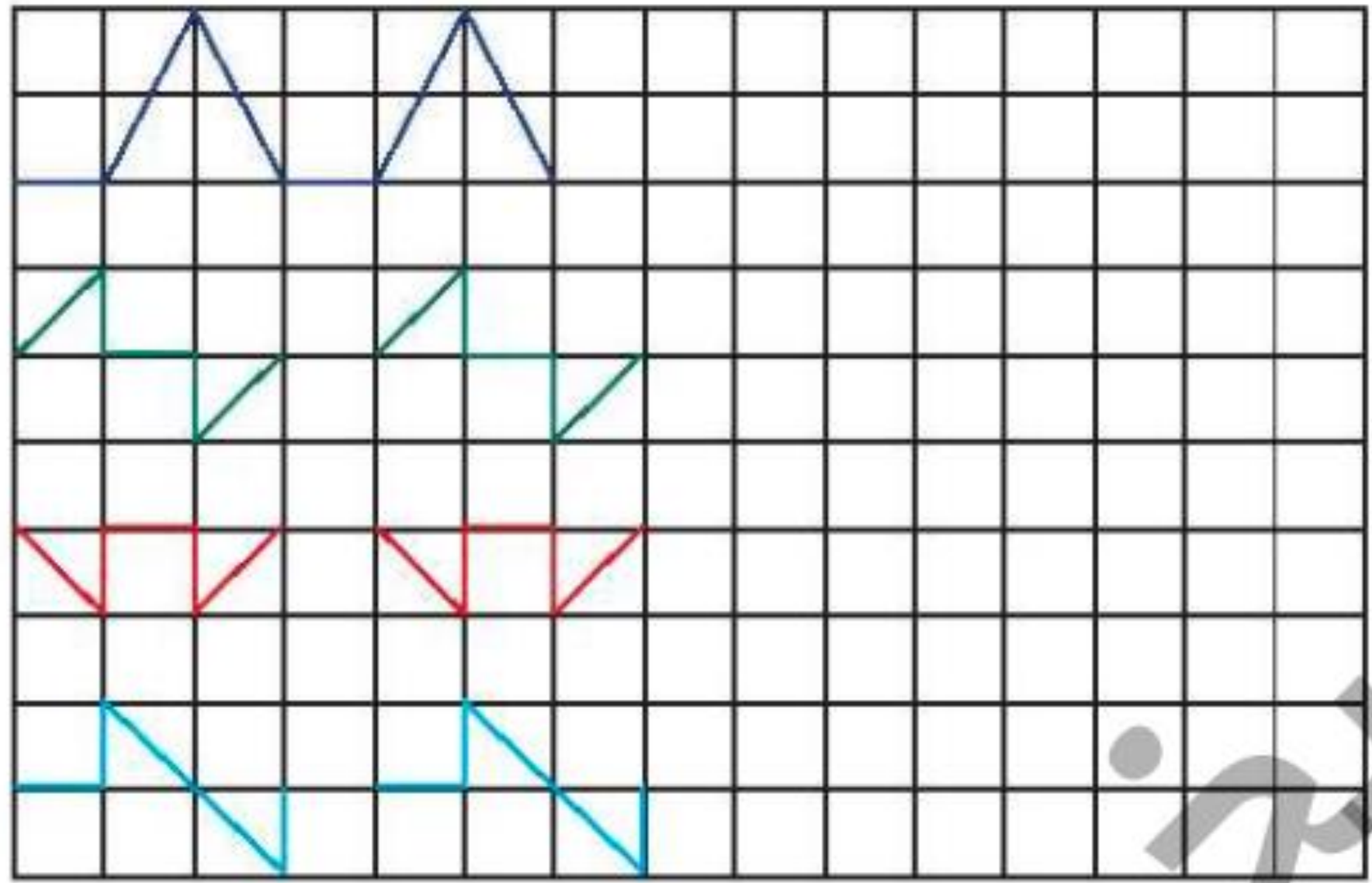


به نام ایزد دانا

کتاب کار ریاضی صفحه ۸۷ تا ۹۲

۲۰ - ۲۱ - ۲۲ - ۲۳ - ۲۴ - ۲۵ - ۲۶ - ۲۷ - ۲۸ - ۲۹ - ۳۰ .

الگوهای زیر را ادامه بده و الگویی را که تکرار شده در سمت راست بکش.



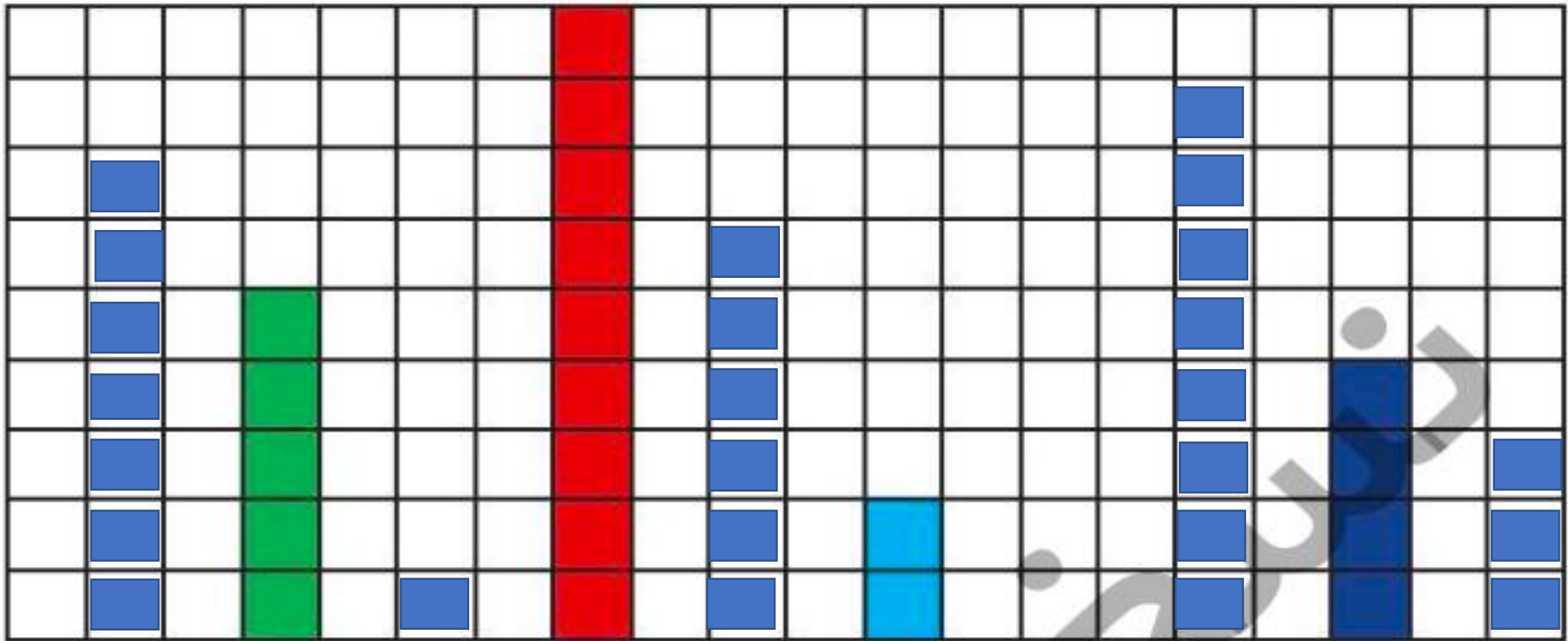
۳		۲	۸	۹	۵	۴	۷	
۵	۶		۱	۴	۷	۳		۲
۴	۸	۷	۲	۶		۵	۱	۹
	۵		۷		۶		۴	۸
	۲	۸	۵	۱	۴	۶	۹	۳
۶	۳	۴		۸	۲	۱	۵	۷
۲	۴	۵	۶	۷	۹	۸		۱
۱		۶	۳	۵	۸	۹	۲	۴
۸	۹		۴	۲		۷	۶	۵

۳	۱	۲	۸	۹	۵	۴	۷	۶
۵	۶	۹	۱	۴	۷	۳	۸	۲
۴	۸	۷	۲	۶	۳	۵	۱	۹
۹	۵	۱	۷	۳	۶	۲	۴	۸
۷	۲	۸	۵	۱	۴	۶	۹	۳
۶	۳	۴	۹	۸	۲	۱	۵	۷
۲	۴	۵	۶	۷	۹	۸	۳	۱
۱	۴	۶	۳	۵	۸	۹	۲	۴
۸	۹	۳	۴	۲	۱	۷	۶	۵

با توجه به عدد نوشته شده از مربع‌های هر ستون رنگ بزن و عدد ستون‌های رنگ شده را بنویس.

۷

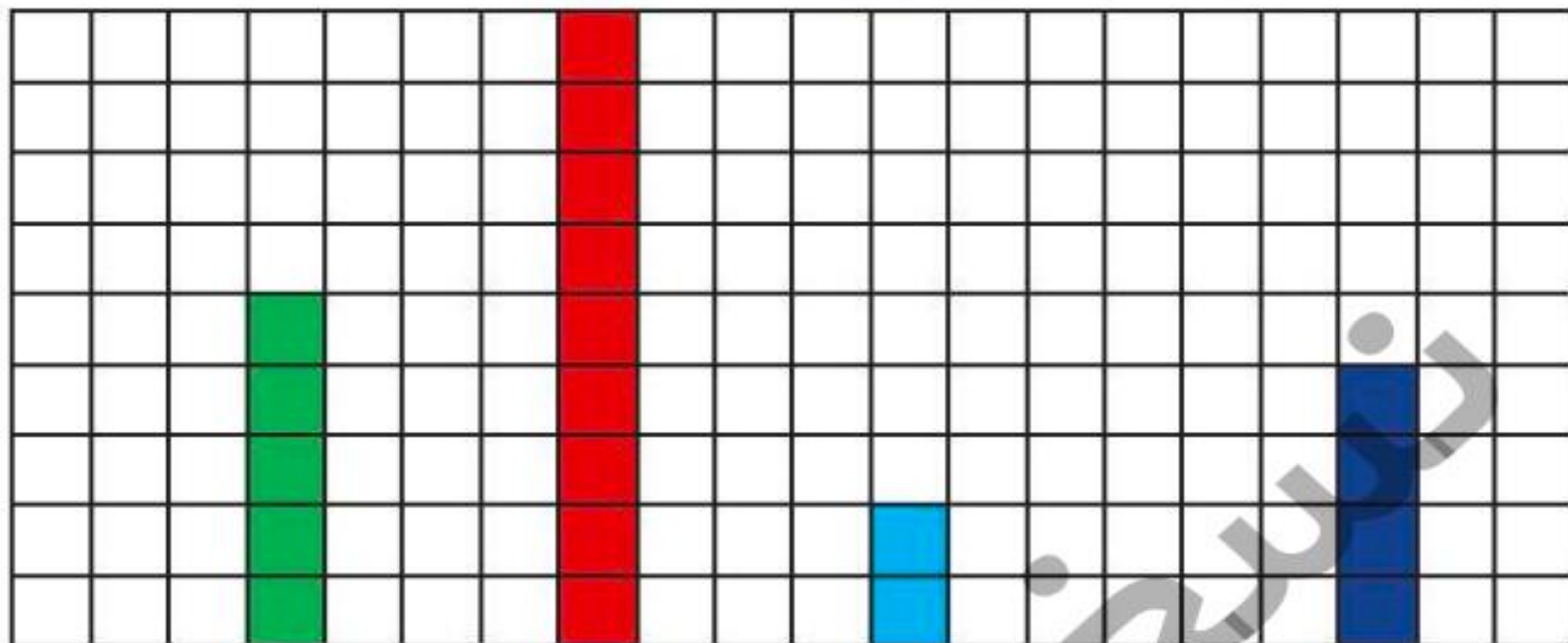
سپس عددهای کنار هم را با هم مقایسه کن و در علامت مناسب (< = >) بگذار.



۷ ۵ ۱ ۹ ۶ ۲ ۰ ۸ ۴ ۳

۷ با توجه به عدد نوشته شده از مربع‌های هر ستون رنگ بزن و عدد ستون‌های رنگ شده را بنویس.

سپس عددهای کنار هم را با هم مقایسه کن و در علامت مناسب (< = >) بگذار.



۷	<input type="text"/>	<input type="text"/>	۱	<input type="text"/>	<input type="text"/>	۶	<input type="text"/>	<input type="text"/>	۰	<input type="text"/>	۸	<input type="text"/>	<input type="text"/>	۳
---	----------------------	-------	----------------------	---	----------------------	-------	----------------------	---	----------------------	-------	----------------------	---	----------------------	---	----------------------	-------	----------------------	---

۸ با توجه به عددهای داده شده، در دو طرف علامت‌ها، عددهای مناسب بنویس.

$2 > 6$

$9 < 5$

$7 > 8$

$8 = 8$

$4 < 6$

$3 > 1$

با توجه به عددهای داده شده، در دو طرف علامت‌ها، عددهای مناسب بنویس.

$6 > 2$

۲
۶

$5 < 9$

۹
۵

$8 > 7$

۷
۸

$8 = 8$

۸
۸


$4 < 6$

۴
۶

$3 > 1$

۳
۱

۹ با توجه به تصویر، اندازه‌ی قد هر حیوان را در زیر شکل آن بنویس و قد حیوانات را با هم مقایسه کن و علامت مناسب < = > را در دایره بگذار.

















عدد مربوط به انگشتان هر دست را بنویس و با کمک انتقال حاصل را پیدا کن.



.....

+

.....

-

.....



.....

+

.....

-

.....



.....

+

.....

-

.....



.....

+

.....

-

.....

نسخه

عدد مربوط به انگشتان هر دست را بنویس و با کمک انتقال حاصل را پیدا کن.



۴



۴

۸



۲



۳

۵



۵



۴

۹



۲



۵

۷

نسخه

نیمه‌ی دیگر شکل را کامل کن.

