

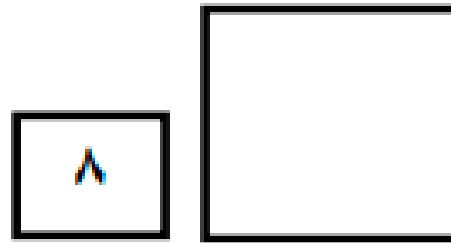
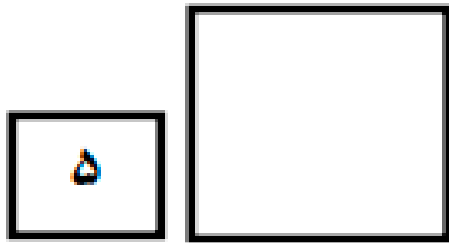


سوالات ریاضی برای
تمرین و تکرار بیشتر




۱. الگو را با شابلون ادامه بدهید.



۲. با توجه به هر عدد چوب خط بکشید.



۳. عدد هر دسته را بنویس.




۴. علامت مناسب $< = >$ بگذارید.



۵. بلندی فلش اندازه است.



۶. با توجه به خط تقارن کامل کنید.








۷. اعداد را بنویس.

		۴						۱۰
--	--	---	--	--	--	--	--	----


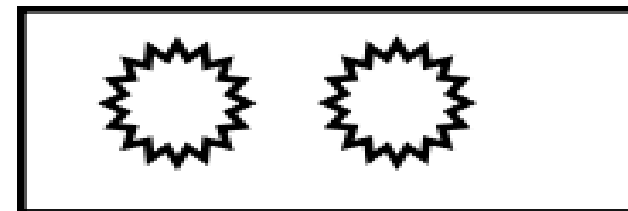


۸. مربع شگفت انگیز را کامل کنید.

۳	۱	۲		۹	۵	۴	۷	۶
۵		۹	۱		۷	۳	۸	۲
۴	۸	۷	۲	۶		۵	۱	۹
۹	۵	۱	۷		۶		۴	۸
۷	۲	۸	۵	۱	۴	۶		۳
۶	۳	۴	۹	۸	۲	۱	۵	
	۴	۵	۶		۹	۸	۳	
۱		۶	۳	۵	۸	۹	۲	۴
۸	۹		۴	۲	۱	۷	۶	۵


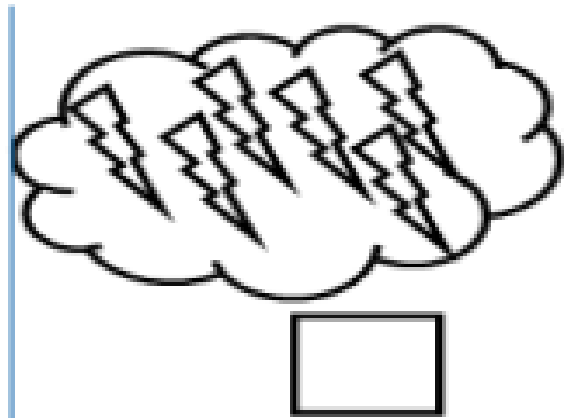
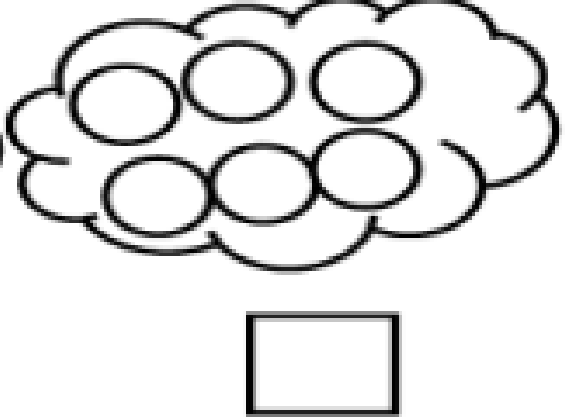

عزیزم جدول را کامل کنید.






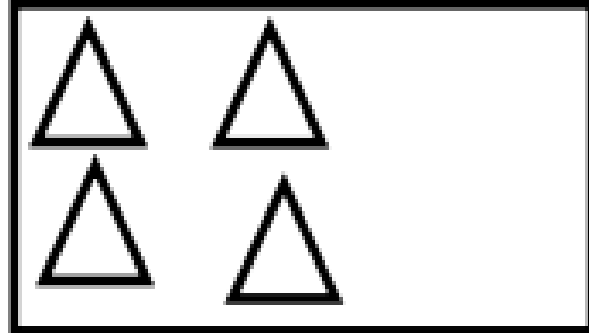

۹. گلم عدد هر دسته را بنویس اگر تعداد هر دسته برابر است علامت $=$ بگذارید.



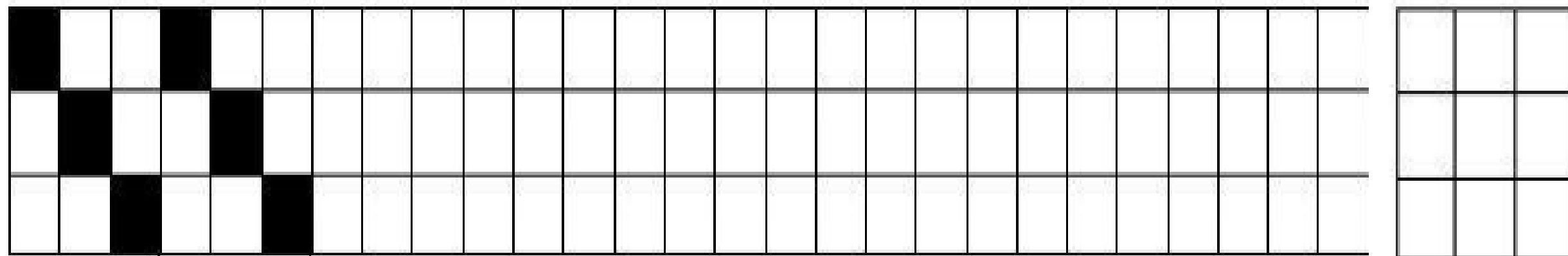
۱۰. گلم عدد مربوط به هر دسته را زیر آن بنویسید سپس در هر قسمت دسته ای که شکل بیشتری دارد را رنگ کنید



۱۱. عزیزم در هر قسمت در سمت راست آن قدر شکل بکش که تعداد آن با دسته های سمت چپ برابر شود.



مانند نمونه شطرنجی ها را ادامه بده و الگو را کامل کن و الگو تکرار کننده را بکشید.



نوگلم شکل را طوری کامل کنید که دو نیمه ی آن مثل هم باشد.

