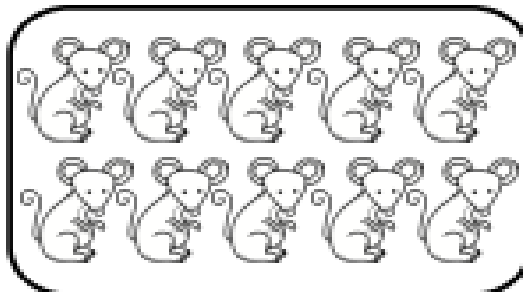



تاریخ:

نام زیبای من:

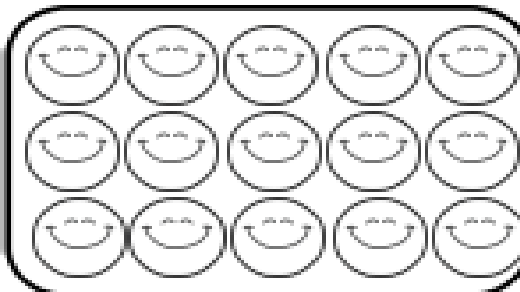
۱- ابتدا دسته بندی کن و بعد جاهای خالی را با عدد مناسب کامل کن.



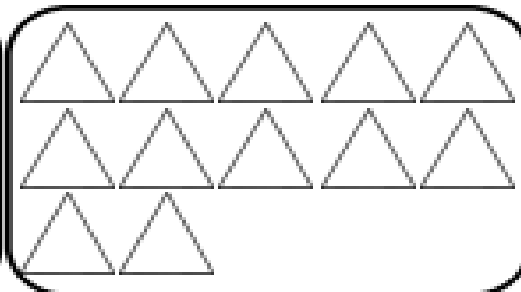
دسته ی ۳ تایی و
یکی



دسته ی ۹ تایی و
یکی



دسته ی ۶ تایی و
یکی

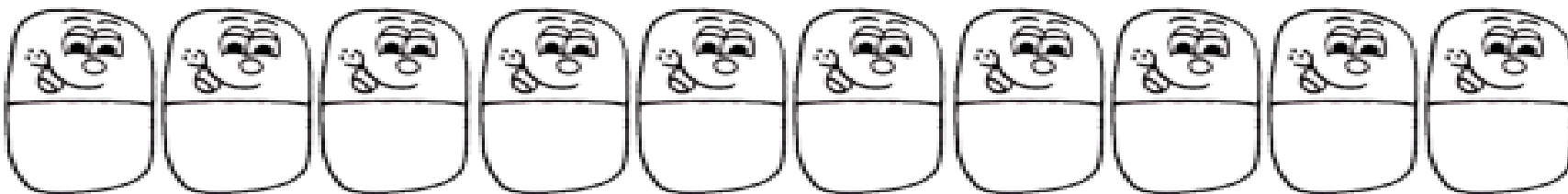


دسته ی ۵ تایی و
یکی

۲- ابتدا مربع شگفت انگیز را کامل کن و سپس در جدول سمت چپ خانه ها را طوری رنگ کن که دو نیمه مثل هم باشند.

			■
		■	
			■
		■	■
			■
		■	
			■

۹	۱	۸	۵	۶	۳	۲	۷	۴
۷		۶		۲		۳		۸
۴	۲	۳	۷	۱	۸	۹	۵	۶
۲	۶	۵	۱	۸	۴	۷	۹	۳
۸		۱		۳		۴		۲
۳	۴	۹	۶	۷	۲	۱	۸	۵
۱	۳	۲	۸	۹	۶	۵	۴	۷
۶		۴		۵		۸		۱
۵	۸	۷	۳	۴	۱	۶	۲	۹



۳- اعداد ۱۰ تا ۱۹

را به ترتیب بنویس.

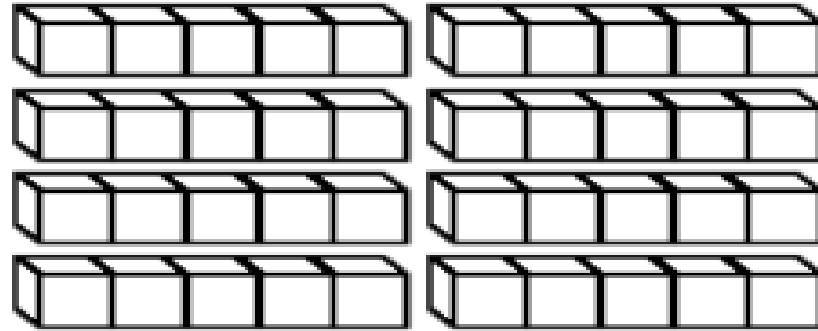
۴- جمع و تفریق‌ها را روی شکل نشان بده. (برای جمع‌ها از ۲ رنگ و برای تفریق‌ها از یک رنگ استفاده کن.)

$$7 + 1 = \text{----}$$

$$8 + 2 = \text{----}$$

$$9 - 4 = \text{----}$$

$$6 - 5 = \text{----}$$



۵- الگوهای زیر را ادامه بده.

۵ ۱۰ ۵



تامی شود.

سا س ش



پ

۶- حاصل جمع‌ها و تفریق‌های زیر را به دست بیاور.

$$9 - 5 = \bigcirc$$

$$5 - 0 = \bigcirc$$

$$9 + 0 = \bigcirc$$

$$2 + 7 = \bigcirc$$

$$10 - 3 = \bigcirc$$

$$4 - 4 = \bigcirc$$

$$8 + 2 = \bigcirc$$

$$4 + 4 = \bigcirc$$

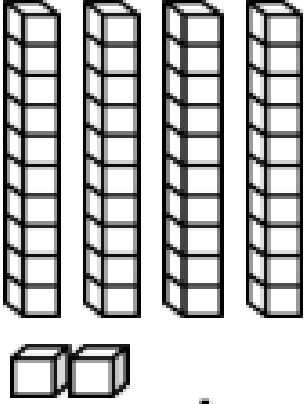
$$6 - 1 = \bigcirc$$

$$4 - 2 = \bigcirc$$

$$5 + 1 = \bigcirc$$

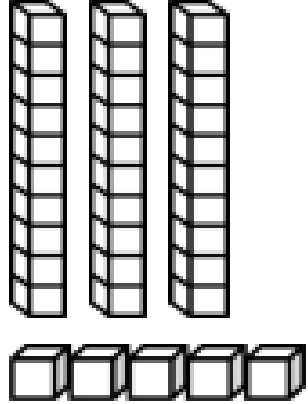
$$3 + 5 = \bigcirc$$

۷- با توجه به شکل جدول ها را کامل کن.

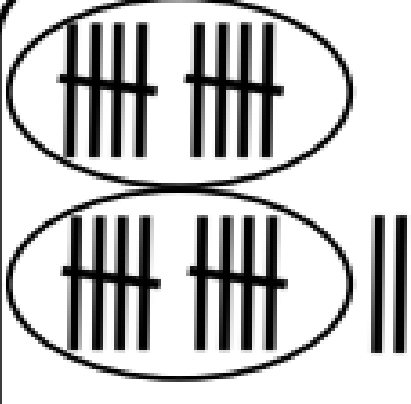


ده تایی	یکی
---------	-----

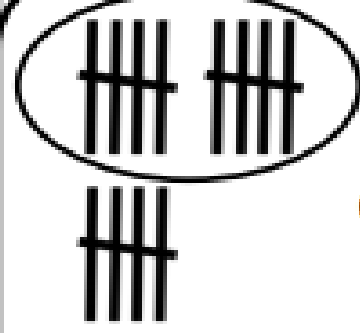
باز خورد آموزگار



ده تایی	یکی
---------	-----



ده تایی	یکی
---------	-----



ده تایی	یکی
---------	-----

خود سنجی



