

به نام ایزد توانا

درس ریاضی

تم ۱۶






حیات مدرسه



تعداد شکل های هر دسته را با چوب خط بشمار . با شکل ها دسته های ده تایی درست کن .
جدول را کامل کن و عدد مربوط به هر دسته را بنویس .



| | | | |
|--|---------|-----|--|
| | ده تایی | یکی | |
| | ۱ | ۲ | |




| | | | |
|--|---------|-----|--|
| | ده تایی | یکی | |
| | | | |



تعداد شکل های هر دسته را با چوب خط بشمار. با شکل ها دسته های ده تایی درست کن.
جدول را کامل کن و عدد مربوط به هر دسته را بنویس.

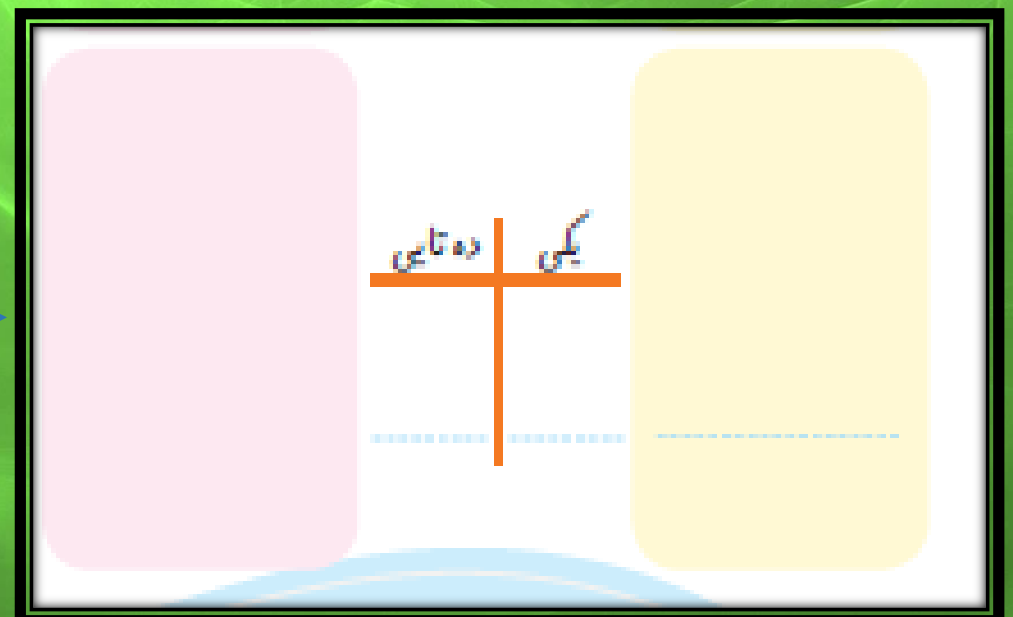

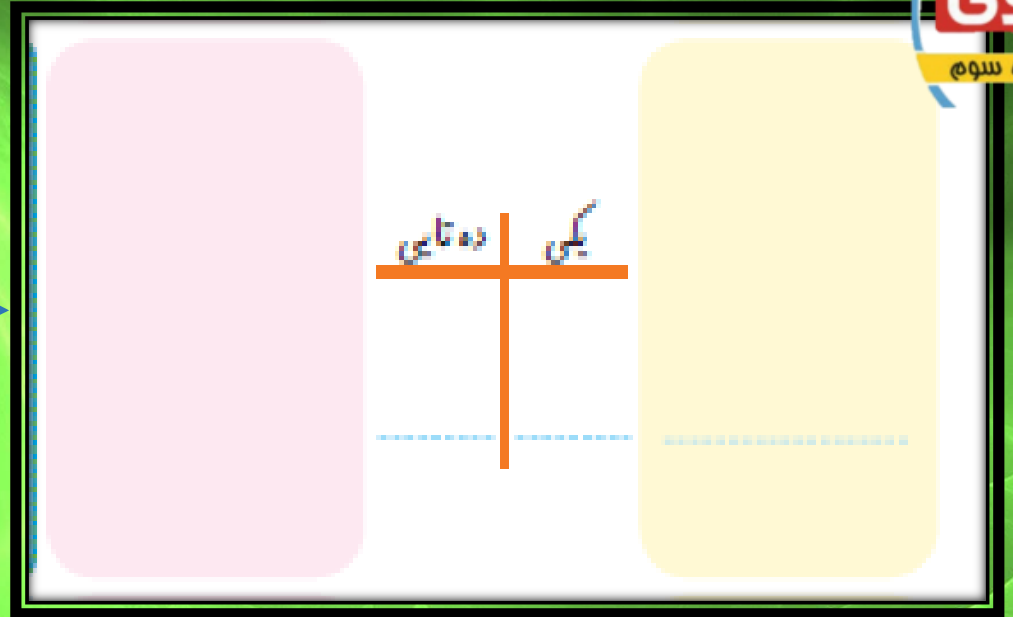





| | | | |
|--|---------|-----|----|
| | ده تایی | یکی | ۱۲ |
| | ۱ | ۲ | |




| | | | |
|--|---------|-----|----|
| | ده تایی | یکی | ۱۱ |
| | ۱ | ۱ | |











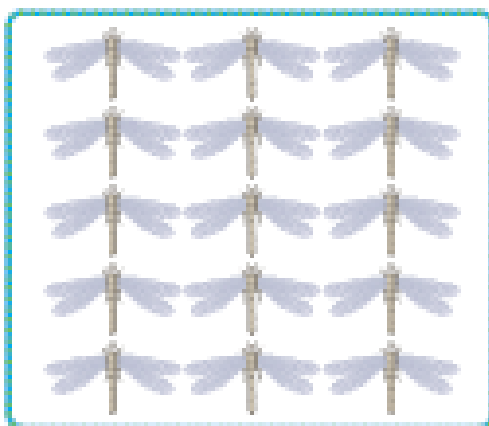


| دهگان | یکان | |
|-------|------|----|
| ۱ | ۳ | ۱۳ |


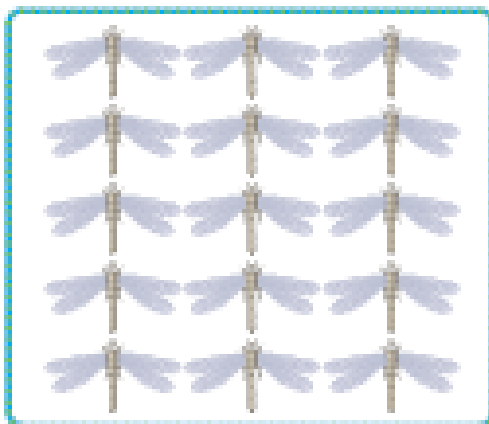


| دهگان | یکان | |
|-------|------|----|
| ۱ | ۴ | ۱۴ |


هر دسته چند شکل دارد ؟ با چوب خط بشمار و عدد هر دسته را بنویس .





هر دسته چند شکل دارد ؟ با چوب خط بشمار و عدد هر دسته را بنویس .




۱۵



۱۶



۱۷



۱۸



دلبندم اعداد را به ترتیب ادامه بده .



۱۱ _ ۱۲ _ ۱۳



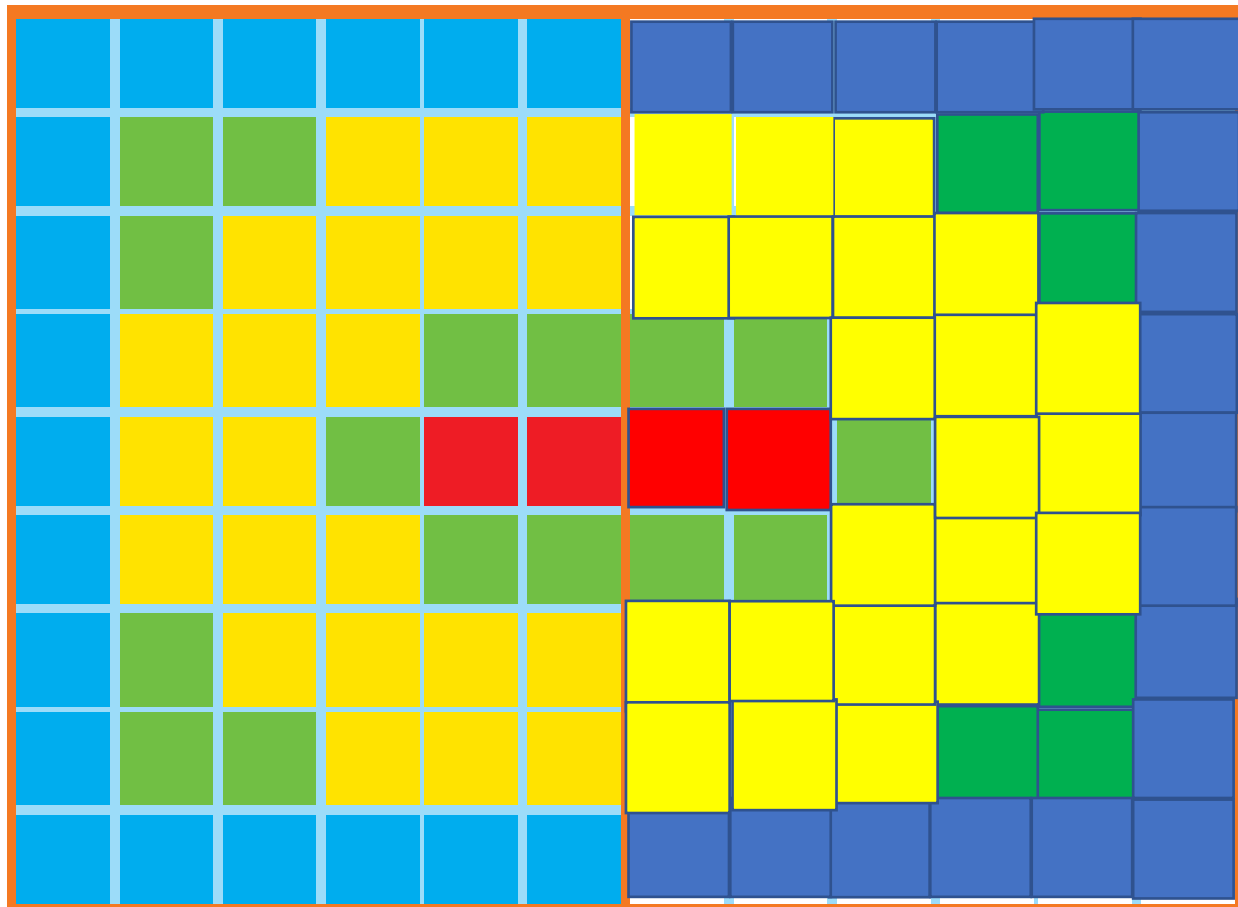
دلبندم اعداد را به ترتیب ادامه بده .



11 12 13 14 15 16 17 18 19



نیمه ی سمت راست شکل را مثل سمت چپ کامل و رنگ کن .



چ؟




| | | | | | | | | |
|---|---|---|---|---|---|---|---|---|
| | ل | د | پ | ف | و | ق | ا | س |
| پ | | ف | د | ا | س | و | ق | ل |
| و | س | | ل | ق | ق | پ | د | ف |
| ل | پ | ق | | ق | ف | د | س | و |
| د | ا | س | و | | ق | ل | ف | ق |
| ف | و | ق | س | ل | | ا | ق | پ |
| ا | د | | ق | س | ل | | پ | ق |
| س | | ل | ق | د | پ | ق | | ا |
| | ق | پ | ف | و | ا | س | ل | |



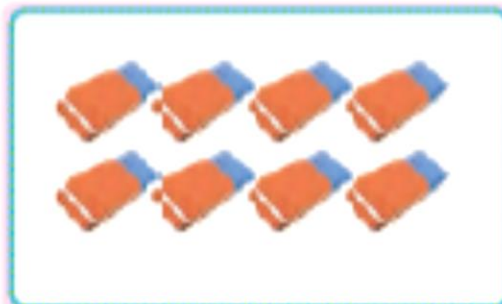

| | | | | | | | | |
|---|---|---|---|---|---|---|---|---|
| ۴ | ۱ | ۵ | ۲ | ۶ | ۷ | ۹ | ۸ | ۳ |
| ۲ | ۹ | ۶ | ۵ | ۸ | ۳ | ۷ | ۴ | ۱ |
| ۷ | ۳ | ۸ | ۱ | ۹ | ۴ | ۲ | ۵ | ۶ |
| ۱ | ۲ | ۹ | ۸ | ۴ | ۶ | ۵ | ۳ | ۷ |
| ۵ | ۸ | ۳ | ۷ | ۲ | ۹ | ۱ | ۶ | ۴ |
| ۶ | ۷ | ۴ | ۳ | ۱ | ۵ | ۸ | ۹ | ۲ |
| ۸ | ۵ | ۷ | ۴ | ۳ | ۱ | ۶ | ۲ | ۹ |
| ۳ | ۶ | ۱ | ۹ | ۵ | ۲ | ۴ | ۷ | ۸ |
| ۹ | ۴ | ۲ | ۶ | ۷ | ۸ | ۳ | ۱ | ۵ |



به کمک انگشتان جواب جمع را پیدا کن. حالا بگو دو دسته روی هم چند شکل دارند؟
برای آن یک جمع بنویس.




$$\square + \square = \square$$



$$\square + \square = \square$$



به کمک انگشتان جواب جمع را پیدا کن. حالا بگو دو دسته روی هم چند شکل دارند؟
برای آن یک جمع بنویس.



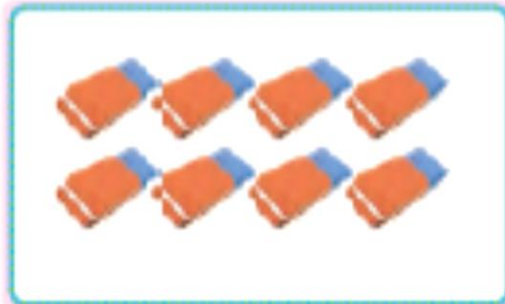

۷

+

۶

=

۱۳



۶

+

۸

=

۱۴





$$\square + \square = \square$$



$$\square + \square = \square$$



$$6 + 5 = 11$$



$$8 + 7 = 15$$





با ابزار
کار کن

عددها را با خط کش به شکل مناسب وصل کن.

| | | |
|--|----|--|
| | ۱۰ | |
| | ۱۱ | |
| | ۱۲ | |
| | ۱۳ | |
| | ۱۴ | |
| | ۱۵ | |
| | ۱۶ | |
| | ۱۷ | |
| | ۱۸ | |
| | ۱۹ | |



با ابزار
کار کن

عددها را با خط کش به شکل مناسب وصل کن.


A matching exercise for numbers 10 to 19. The numbers are listed in a central column within pink boxes. On either side, there are eight red-bordered boxes, each containing a horizontal green bar of varying length. Colored lines connect the numbers to the boxes with bars of the same length.

| Number | Bar Length |
|--------|----------------|
| ۱۰ | Very short |
| ۱۱ | Short |
| ۱۲ | Medium-short |
| ۱۳ | Medium |
| ۱۴ | Medium-long |
| ۱۵ | Long |
| ۱۶ | Very long |
| ۱۷ | Extremely long |
| ۱۸ | Very long |
| ۱۹ | Extremely long |

Connections shown in the image:

- ۱۰ connects to the 2nd box from the top right.
- ۱۱ connects to the 1st box from the top left.
- ۱۲ connects to the 3rd box from the top right.
- ۱۳ connects to the 4th box from the top left.
- ۱۴ connects to the 5th box from the top right.
- ۱۵ connects to the 6th box from the top left.
- ۱۶ connects to the 7th box from the top right.
- ۱۷ connects to the 8th box from the top left.
- ۱۸ connects to the 1st box from the bottom right.
- ۱۹ connects to the 2nd box from the bottom left.

با نگاه کردن به یک ساعت عددهای روی ساعت زیر را بنویس .



اندازه‌ی چاقو کوتاه‌تر از است.



اندازه‌ی چنگال کوتاه‌تر از است.





اندازه ی چاقو کوتاه تر از ۵ است.

۵

اندازه ی چاقو کوتاه تر از ۵ است.



اندازه ی چنگال کوتاه تر از ۶ است.

۶

اندازه ی چنگال کوتاه تر از ۶ است.



پروانه ای رنگارنگ خسته نباشی قشنگ

