

علوی

مدارس هزاره سوم

تغ ۱۷

درس  
ریاضی



تهیه کننده : میرجهان

۱۷



# خانه پدر بزرگ و مادر بزرگ



تهیه کننده : میرجهان



با چوب خط حاصل جمع را پیدا کن و یک جمع بنویس .



$$۴ + ۳ + ۲ = ۹$$





$$+ + =$$



با چوب خط حاصل جمع را پیدا کن و یک جمع بنویس .



$$۴ + ۳ + ۲ = ۹$$



$$۴ + ۳ + ۱ = ۸$$







تهیه کننده : میرجهان





$$4 + 3 + 2 + 4 = 13$$



$$3 + 4 + 5 + 1 = 13$$





بشمار و  
رنگ کن

علوی

مدارس هزاره سوم



$$۳ + ۴ + ۷ = ۱۴$$



$$+ + =$$



$$+ + =$$



$$+ + =$$

تهیه کننده : میرجهان





بشمار و  
رنگ کن

علوی

مدارس هزاره سوم



$$3 + 4 + 7 = 14$$



$$3 + 5 + 3 = 11$$



$$4 + 4 + 4 = 12$$



$$2 + 6 + 5 = 13$$

تهیه کننده : میرجهان





با توجه به جمع نوشته شده مربع ها را با رنگ های مختلف رنگ کن و حاصل را بنویس.

--	--	--

$$1 + 2 + 4 + 5 = 12$$



--	--	--


$$5 + 2 + 5 = 12$$



با توجه به جمع نوشته شده مربع ها را با رنگ های مختلف رنگ کن و حاصل را بنویس.



$$1 + 2 + 4 + 5 = 12$$



$$5 + 2 + 5 = 12$$



