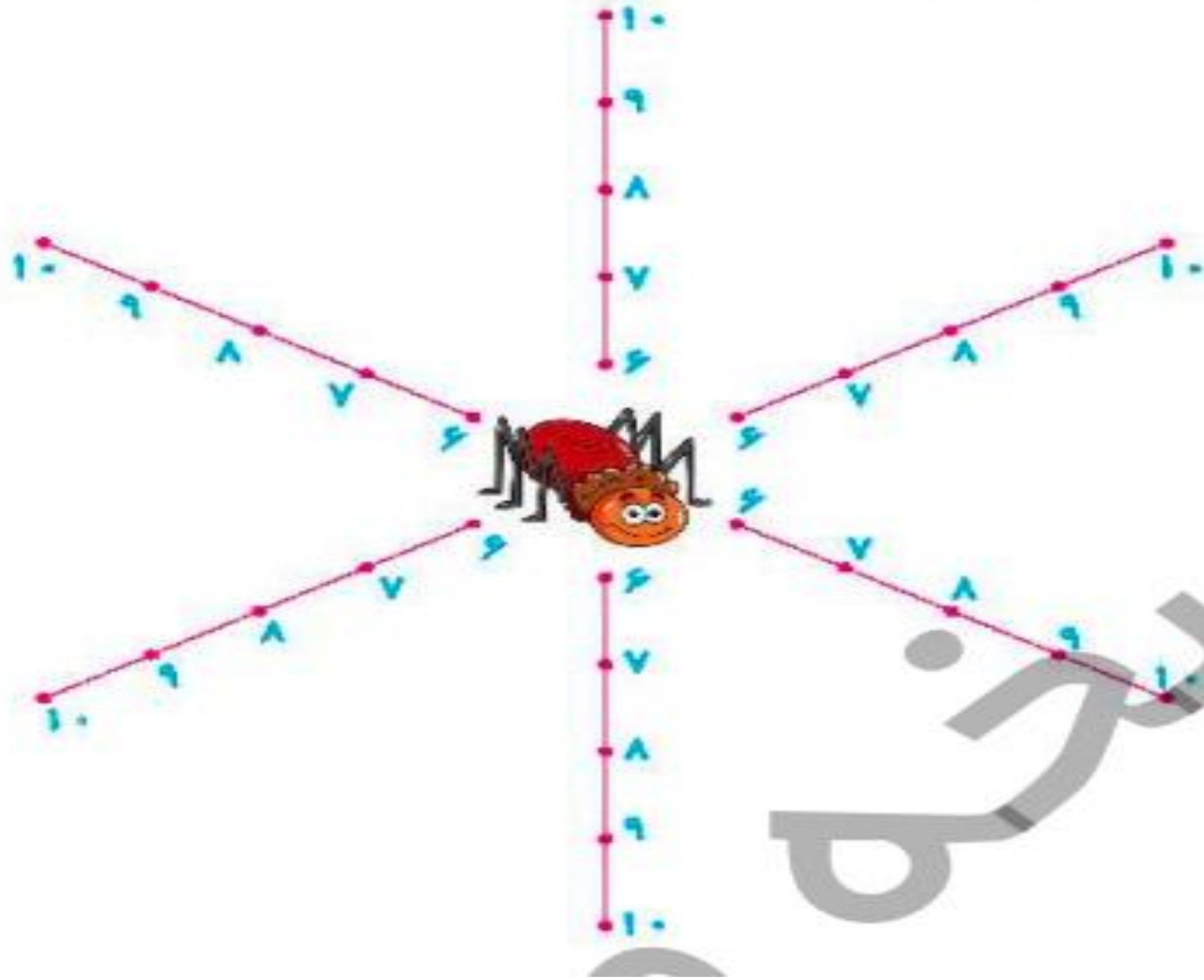


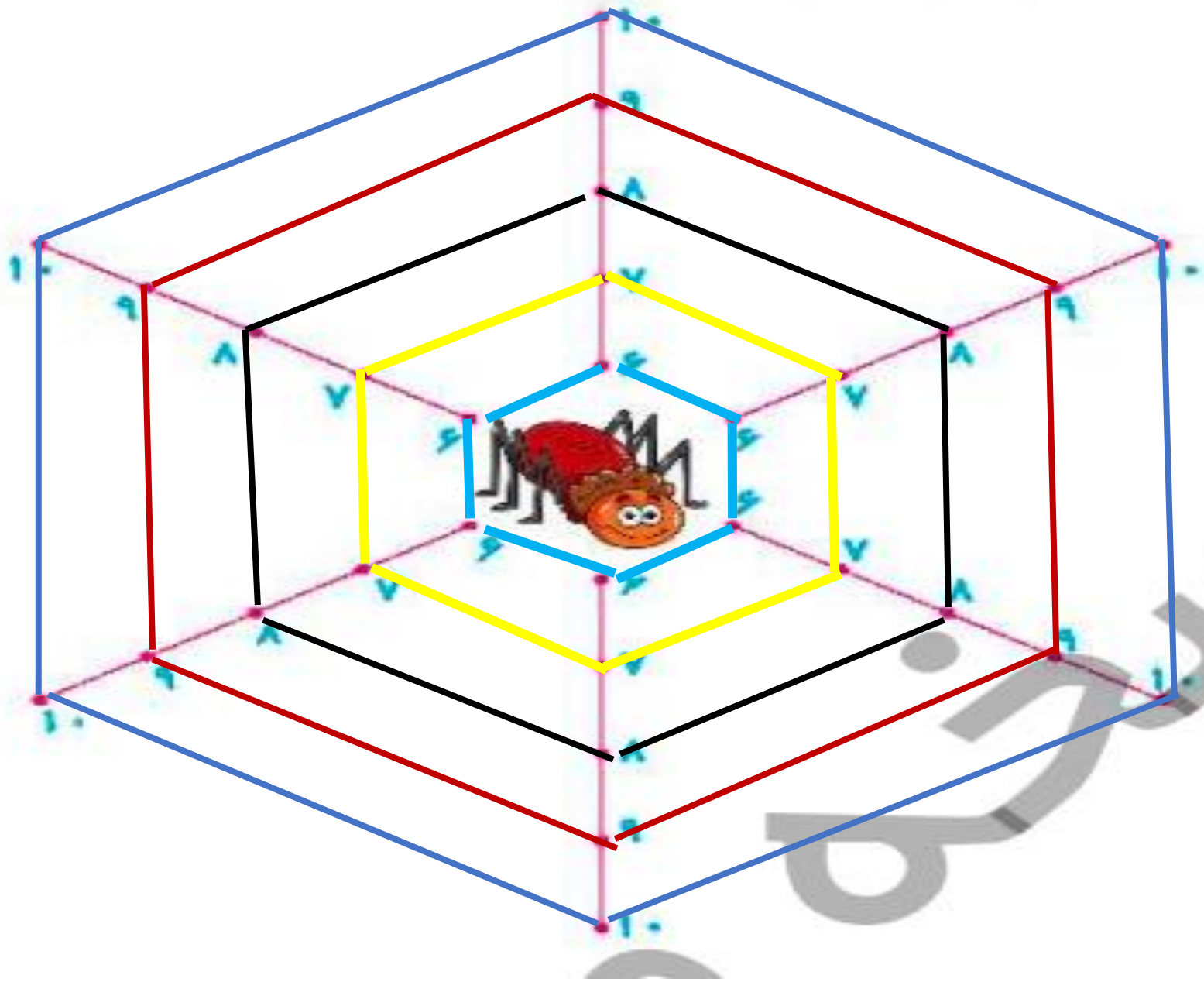
کتاب کار ریاضی صفحه ۹۶ تا ۱۰۲



۱۰ عدد های مثل هم را با خط کش به هم وصل کن.



۱۰ عدد های مثل هم را با خط کش به هم وصل کن.



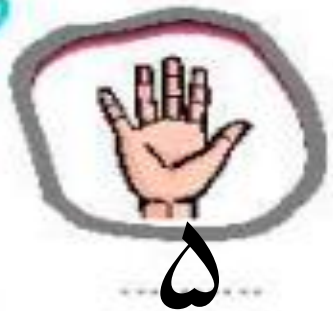
		۱	۳	۹	۸	۶	۴	۲
۹	۶	۲	۷	۱	۴	۵		
۳	۸	۴	۲			۹	۱	۷
	۴	۹	۵	۲	۱		۳	
۱	۷	۵		۶		۲	۹	۸
	۳		۹	۸		۱	۵	۴
۶	۱	۷			۵	۳	۲	۹
		۳	۱	۷	۲	۸	۶	۵
۵	۲	۸	۶		۹	۴		

به تعداد انگشتانی که دست سمت راست نشان می‌دهد از انگشتان دست چپ ببرد و عبارت مربوط به آنها را بنویس.


۱



به تعداد انگشتانی که دست سمت راست نشان می دهد از انگشتان دست چپ بپند و عبارت مربوط به آنها را بنویس.

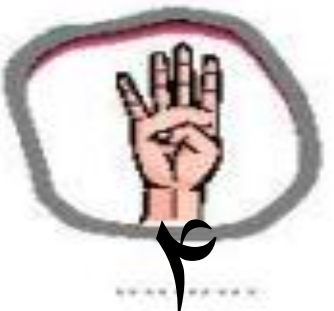


۵

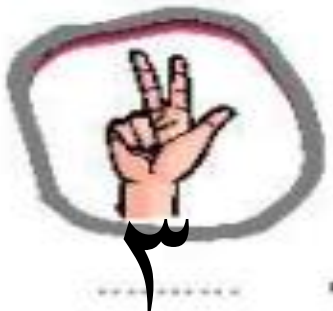


۲

۳

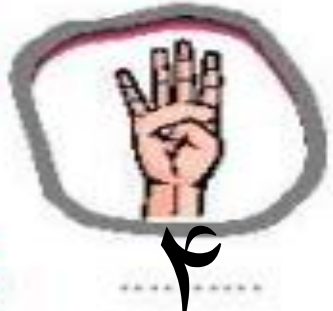


۴



۳

۱




۴



۲

۲

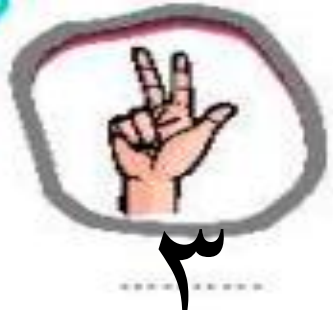


۵

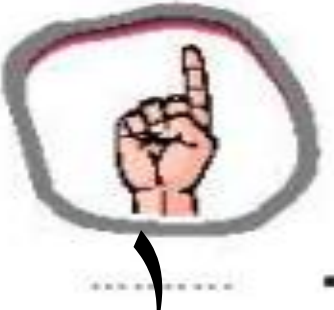


۵

۱



۳



۱

۲



۵




۱

۳





با شابلون نیمه‌ی پایین شکل را با توجه به خط تقارن کامل کن.


۲




با شابلون نیمه‌ی پایین شکل را با توجه به خط تقارن کامل کن.

۲







..... - =




..... - =




..... - =



..... - =



..... - =



..... - =

..... - =

..... - =

..... - =

..... - =

..... - =

..... - =

۴ جمله‌ها را با نوشتن عدد مناسب کامل کن.



اندازه‌ی خط‌کش کمی بلندتر از است.



اندازه‌ی ساعت مچی کمی بلندتر از است.

۴ جمله‌ها را با نوشتن عدد مناسب کامل کن.



اندازه‌ی خط‌کش کمی بلندتر از ... است.



اندازه‌ی ساعت مچی کمی بلندتر از ... است.

۵ با کشیدن شکل، حاصل جمع‌ها را بنویس.

$$7 + 2 = \square$$

$$5 + 3 = \square$$

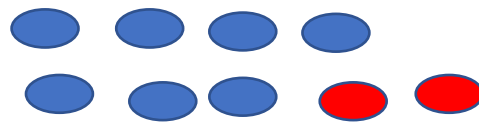
$$3 + 7 = \square$$

$$4 + 4 = \square$$

نسخه

۵ با کشیدن شکل، حاصل جمع‌ها را بنویس.

$$7 + 2 = 9$$



$$5 + 3 = 8$$



$$3 + 7 = 10$$



$$4 + 4 = 8$$



جدول شگفت‌انگیز را کامل کن.

۶

۱		۲	۴		
۶	۴			۲	۵
۵	۲			۴	۶
۳	۶	۴	۲	۵	
		۵	۶	۳	۲
۲	۳	۶		۱	

با توجه به عبارت، از شکل‌ها خط بزن و باقی مانده را بنویس.

۷





$$8 - 6 =$$



$$7 - 4 =$$

با توجه به عبارت، از شکل‌ها خط بزن و باقی مانده را بنویس.

۷

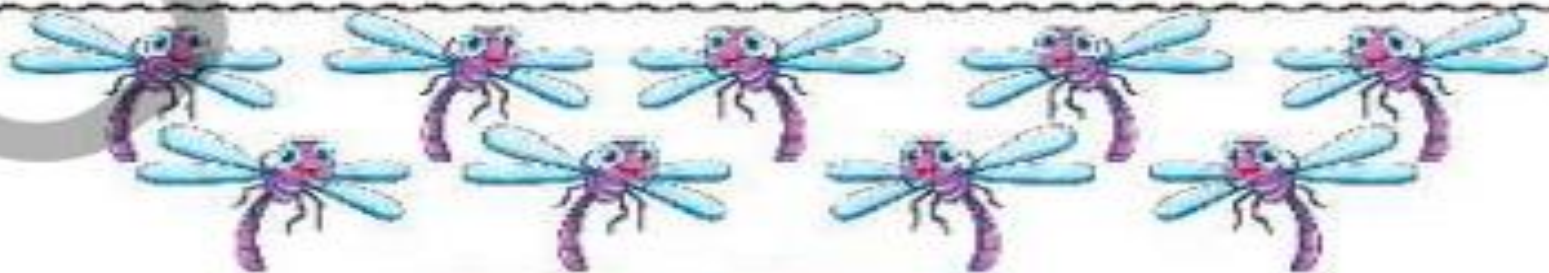

$$\boxed{8} - \boxed{6} = 2$$

$$\boxed{7} - \boxed{4} = 3$$



$$9 - 3 =$$




$$10 - 5 =$$




$$9 - 5 =$$



$9 - 3 = 6$



$10 - 5 = 5$



$9 - 4 = 5$