

درس ریاضی

تقریباً

صفحه ۱۱۶ تا ۱۱۸

علوی

مدارس هزاره سوم



تهیه کننده : میرجهان

۱۷




تهیه کننده : میرجهان

خانه پدر بزرگ و مادر بزرگ



پاسخ هر قسمت را بنویس و مقایسه کن و علامت مناسب کمتر، بیشتر را انتخاب کن.

بشمار و بنویس



$10 - 3 = 7$

$2 + 4 + 5 = 11$



پاسخ هر قسمت را بنویس و مقایسه کن و علامت مناسب کمتر، بیشتر را انتخاب کن.

بشمار و بنویس



$10 - 3 = 7$

$2 + 4 + 5 = 11$



— + — = —

— - — = —


— + — + — = —



— + — = —


— - — = —

— + — = —









$$6 + 4 = 10$$



$$10 - 2 = 8$$


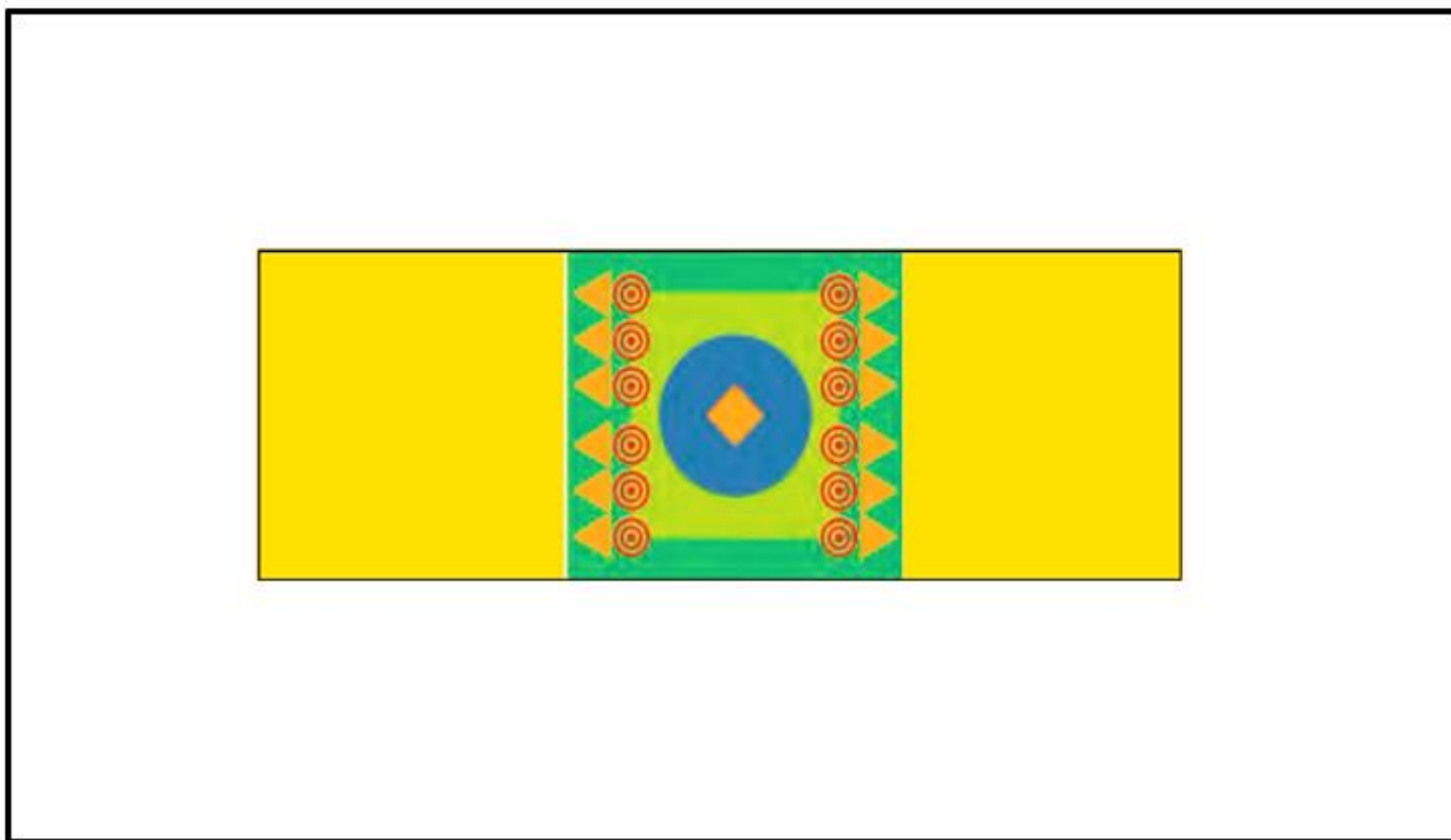
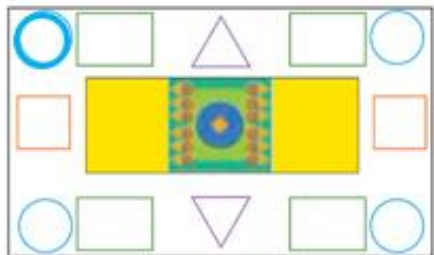
$$1 + 2 + 3 = 6$$



$$5 + 3 = 8$$


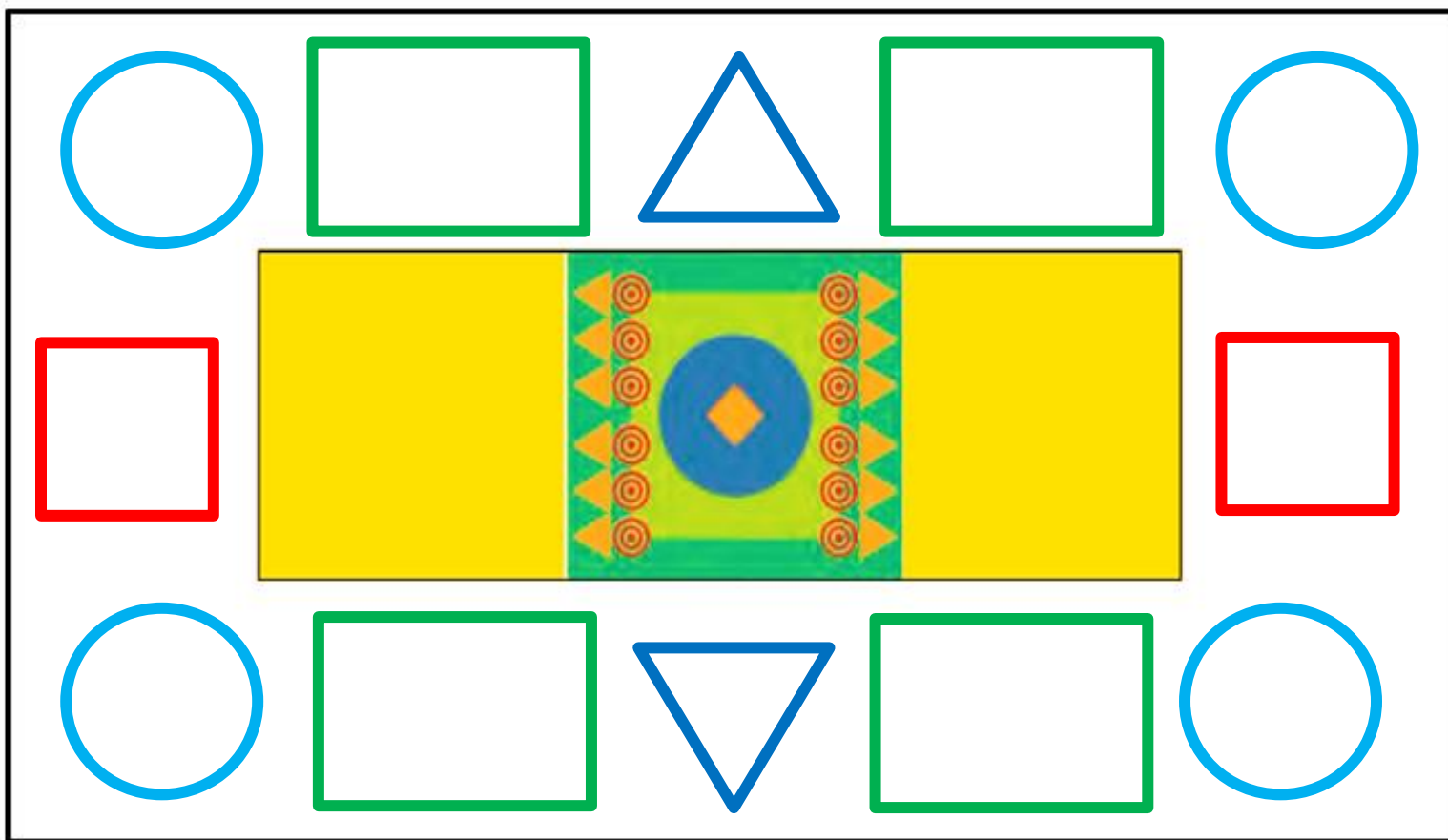
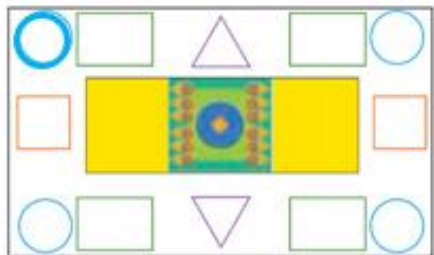
$$11 - 4 = 7$$



$$5 + 7 = 12$$

با شابلون شکل
کوچک را بزرگ کن .



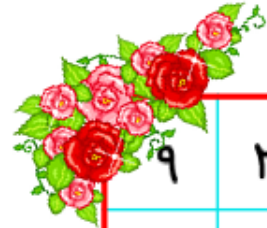


با شابلون شکل کوچک را بزرگ کن .

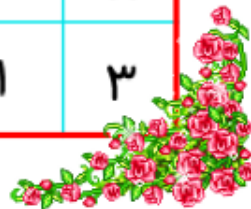


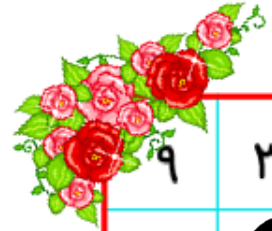


مربع شگفت انگیز
پایین را پر کن .

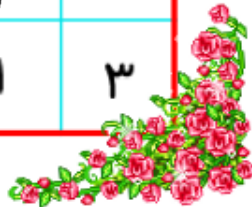


۹	۳	۸	۶	۵	۱	۷	۲	۴
۴		۵	۷		۲	۳		۱
۲	۱	۷	۴	۳	۹	۸	۶	۵
۶	۹	۴		۷		۱	۵	۲
۷		۳	۱		۴	۹		۶
۸	۲	۱		۹		۴	۳	۷
۳	۴	۶	۸	۱	۵	۲	۷	۹
۱		۲	۹		۳	۵		۸
۵	۸	۹	۲	۴	۷	۶	۱	۳





۹	۳	۸	۶	۵	۱	۷	۲	۴
۴	۶	۵	۷	۸	۲	۳	۹	۱
۲	۱	۷	۴	۳	۹	۸	۶	۵
۶	۹	۴	۳	۷	۸	۱	۵	۲
۷	۵	۳	۱	۲	۴	۹	۸	۶
۸	۲	۱	۵	۹	۶	۴	۳	۷
۳	۴	۶	۸	۱	۵	۲	۷	۹
۱	۷	۲	۹	۶	۳	۵	۴	۸
۵	۸	۹	۲	۴	۷	۶	۱	۳

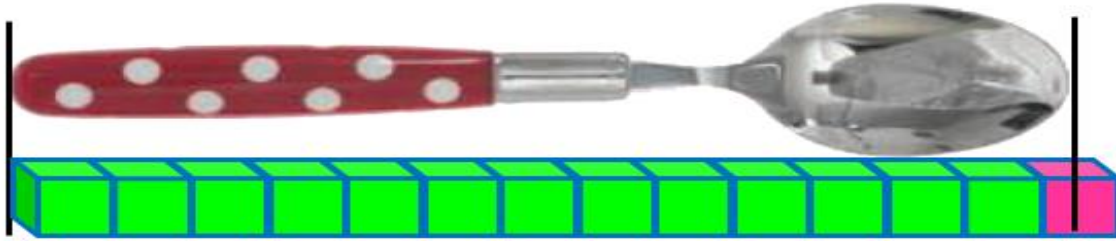


مربع شگفت انگیز
پایین را پر کن .

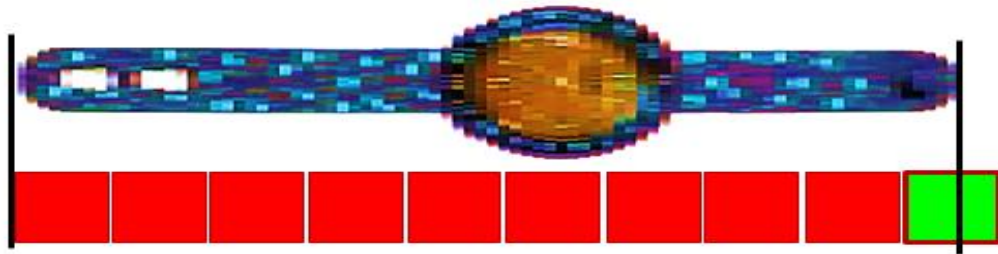




بلندی چنگال بین تا است.



بلندی قاشق بین تا است



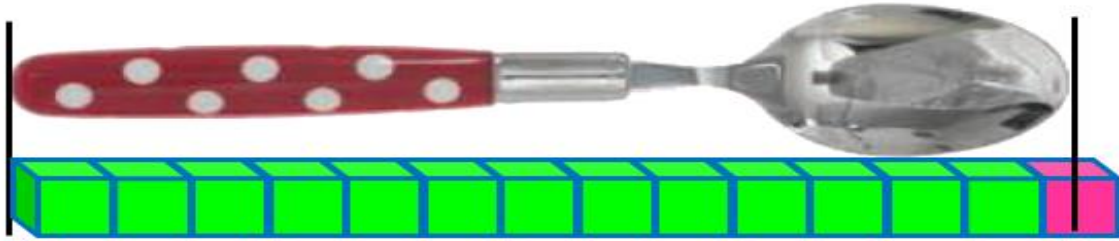
بلندی ساعت بین تا است

تهیه کننده : میرجهان

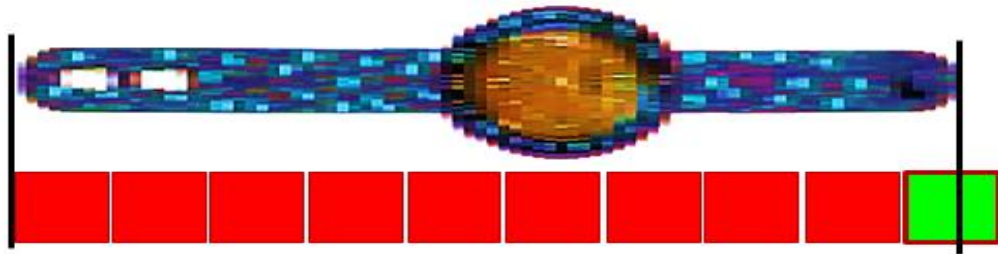




بلندی چنگال بین ۵ تا ۶ است.



بلندی قاشق بین ۱۳ تا ۱۴ است



تهیه کننده : میرجهان

بلندی ساعت بین ۹ تا ۱۰ است



ترتیب فصل ها را با عددهای ۱ تا ۴ مشخص کن .



ترتیب فصل ها را با عددهای ۱ تا ۴ مشخص کن .



۲



۱



۴



۳

