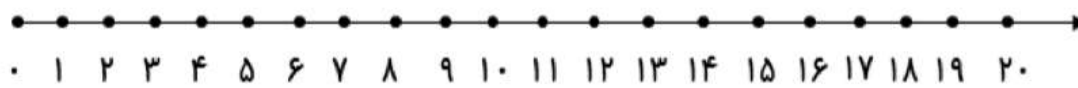


۴- برای هر مسئله شکل بکش و جواب آن را به دست بیاور.

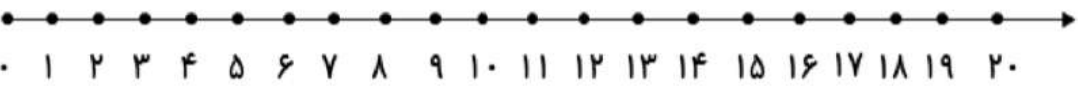
۵ بسته ی ده تایی بستنی در یخچال بود. ۷ بستنی دیگر در یخچال قرار دادیم. حالا چند بستنی در یخچال است؟

ژاله ۴ بسته ی ده تایی مداد داشت. مادرش ۲ بسته ی ده تایی دیگر به او داد. حالا ژاله چند مداد دارد؟

۵- جمع و تفریق های زیر را روی محور نشان بده، سپس جواب آن ها را بنویس.




$$5 + 5 + 5 = \text{-----}$$



$$15 - 9 = \text{-----}$$

۶- ابتدا مربع های شگفت انگیز را کامل کن. سپس جدول سمت چپ را طوری کامل کن که دو طرف آن مثل هم باشد.



۳	۶	۷	۲	۱	۵
۲	۴	۵	۳	۱	۷
۹	۷	۱	۶	۵	۸
۷	۹	۲	۴	۶	۵
		۶			۴
۵	۳	۴	۹	۷	۸
۶	۵	۷	۱	۲	۹
۴	۲	۹	۸	۳	۱
۱	۸		۵	۴	۹

۱- جاهای خالی را با اعداد مناسب کامل کن.

$$\begin{array}{r} 55 - 60 \\ + 5 \end{array}$$

$$\begin{array}{r} 10 - 20 - 30 \\ + 10 \end{array}$$

$$32 - \quad - 35 - 36$$

$$12 - 13$$

۲- جمع های زیر را با چوب خط حساب کن و سپس با توجه به جواب جمع، جاهای خالی را کامل کن.

$$12 + 4 + 3 = \text{----}$$

ده تایی	یکی	با عدد: -----
----	----	با حروف: -----

$$8 + 6 + 7 = \text{----}$$

ده تایی	یکی	با عدد: -----
----	----	با حروف: -----

۳- جواب جمع و تفریق های زیر را به دست بیاور.

$$40 + 20 = \text{----}$$

$$10 + 5 + 50 = \text{----}$$

$$70 - 10 = \text{----}$$

$$20 - 20 = \text{----}$$

$$5 + 5 + 20 = \text{----}$$

$$60 - 10 = \text{----}$$

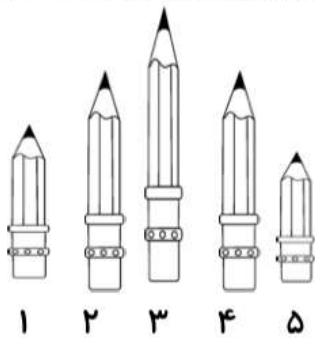
$$20 + 20 + 5 + 5 = \text{----}$$

$$50 - 20 = \text{----}$$

$$5 + 5 + 3 + 2 + 4 + 1 + 30 = \text{----}$$

$$60 - 50 = \text{----}$$





۴- جاهای خالی را با توجه به شکل کامل کن.

مداد شماره ی ۵ ----- از مداد شماره ی ۲ است.

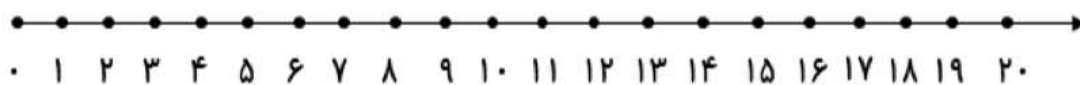
مداد شماره ی ----- بلندترین مداد است.

مداد شماره ی ۲ با مداد شماره ی ----- هم اندازه است.

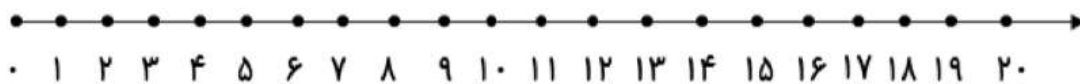
مداد شماره ی ----- کوتاه ترین مداد است.

۵- جواب هر مسئله را با کمک شکل یا چوب خط به دست بیاور و سپس روی محور نشان بده.

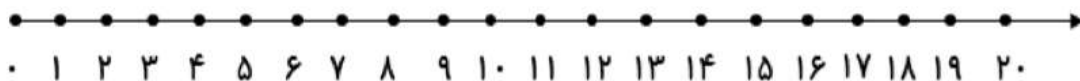
۸ مسافر در اتوبوس بودند. ۶ مسافر دیگر هم سوار شدند. در ایستگاه ۵ مسافر دیگر هم سوار شدند.
حالا چند مسافر در اتوبوس هست؟ -----



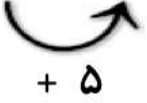
۵ ماهی در حوض بود. علی ۵ ماهی دیگر در حوض انداخت. حسین هم ۶ ماهی دیگر در حوض انداخت.
حالا چند ماهی در حوض است؟ -----



۱۴ شکلات در جعبه بود. بچه ها ۹ تا از شکلات ها را خوردند. چند شکلات در جعبه باقی مانده
است؟ -----



$$۲۰ - ۲۵ - ۳۰$$



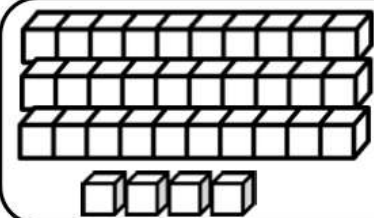
$$۱۶ - ۲۶ - ۳۶$$



$$۵۲ - ۵۳ - ۵۴$$

$$۷۴ - ۷۵ - ۷۶$$

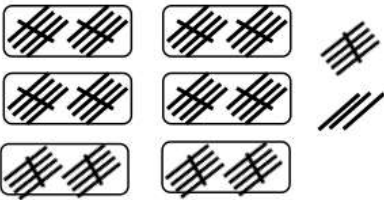
۲- جاهای خالی را با به طور مناسب کامل کن.



ده تایی و ---

یکی می شود ---

ده تایی	یکی	با عدد: -----
---	---	با حروف: -----



۶ ده تایی و ۸ یکی

می شود -----

ده تایی	یکی	با عدد: -----
---	---	با حروف: -----

۳- جواب جمع و تفریق های زیر را به دست بیاور.

$$۲۰ + ۵ = \text{-----}$$

$$۱۰ + ۴۰ + ۵ = \text{-----}$$

$$۷۰ - ۴۰ = \text{-----}$$

$$۵۰ - ۵۰ = \text{-----}$$

$$۱۰ + ۱۰ + ۱۰ = \text{-----}$$

$$۸۰ - ۱۰ = \text{-----}$$

$$۱۰ + ۱۰ + ۱۰ + ۵ = \text{-----}$$

$$۹۰ - ۲۰ = \text{-----}$$

$$۱۰ + ۱۰ + ۱۰ + ۵ + ۵ + ۵ + ۵ = \text{-----}$$

$$۶۰ - ۵ = \text{-----}$$



عزیزم به عقربه ها با دقت نگاه کن، جمله های زیر هر ساعت را کامل کن.



ساعت

از گذشته است.



ساعت

از گذشته است.



کمی به ساعت ...
مانده است.



ساعت

بین و است.



کمی به ساعت ...
مانده است.



ساعت

از گذشته است



کمی به ساعت ...
مانده است.



ساعت

از گذشته است.



ساعت

از گذشته است.



ساعت

از گذشته است

زمانی که هر ساعت نشان می دهد را بنویس.



ساعت است. ساعت است. ساعت است.



ساعت

ساعت

ساعت

بین و است. بین و است. بین و است.