
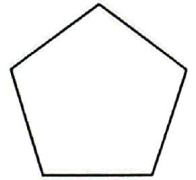

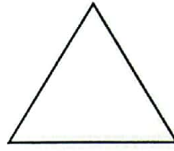




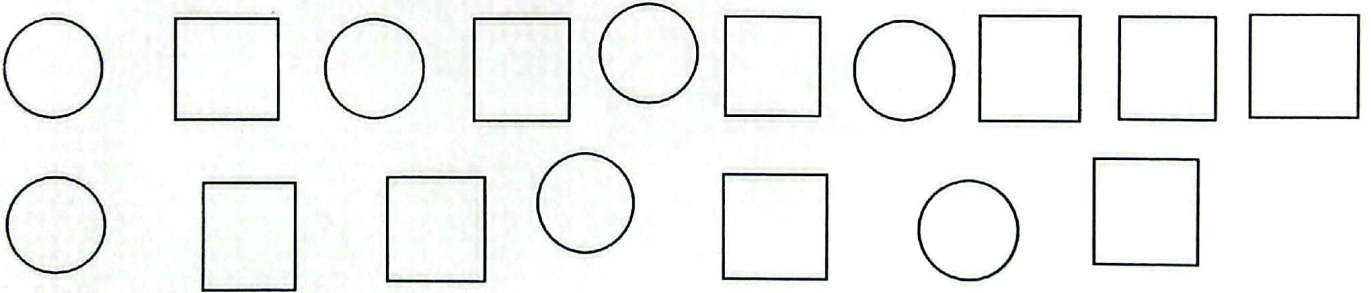


*** تمرین ۴ ***


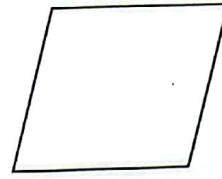
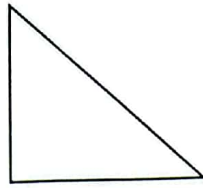
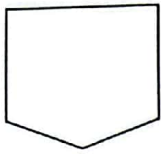
۱- در هر شکل چند گوشه وجود دارد؟ با چوب خط نشان بده.



۲- به تعداد دایره ها چینه بکش و به تعداد چهار گوشه ها چوب خط بکش.



۳- عزیزم تعداد گوشه های هر تصویر را بشمار و در ابر زیر آن چوب خط بکش.



- تعداد چینه ها و چوب خط ها باهم چندتا می شوند؟ بشمار و دایره بکش.

