



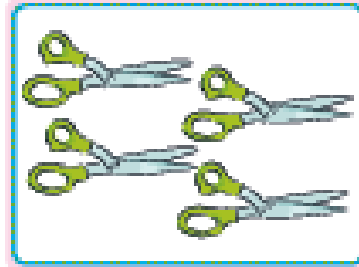




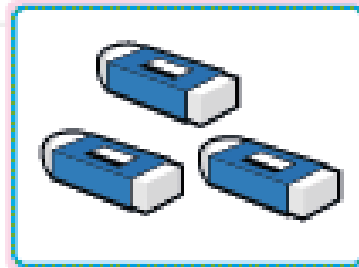




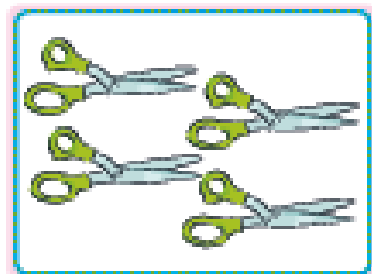


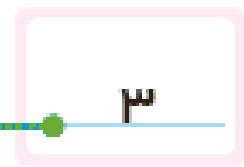
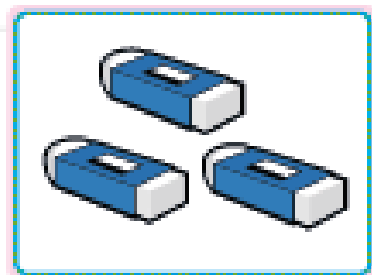
بشمار و  
بنویس

در هر دسته چند تا شکل هست؟  
مانند نمونه عمل کن.



بشمار و بنویس

در هر دسته چند تا شکل هست؟  
مانند نمونه عمل کن.



	۲	۳	
۴			۱
۳			۲
۲	۴	۱	۳

		۴	۳
۳	۴	۱	
۱	۲		
۴	۳		۱

دانش‌آموزان ممکن است جدول‌های شگفت‌انگیز را به روش‌های مختلف حل کنند. به آنها فرصت دهید تا روش خود را در کلاس مطرح کنند. از فرزند خود بخواهید چیزهای مختلفی را که در منزل می‌بیند بشمارد و عدد مربوط به آن را با چوب خط نمایش دهد و کنار آن بچسباند.



پنجشنبه و شنبه

۱	۳	۳	۴
۴	۳	۲	۱
۳	۱	۴	۲
۲	۴	۱	۳

۲	۱	۴	۳
۳	۴	۱	۲
۱	۲	۳	۴
۴	۳	۲	۱

دانش‌آموزان ممکن است جدول‌های شگفت‌انگیز را به روش‌های مختلف حل کنند. به آنها فرصت دهید تا روش خود را در کلاس مطرح کنند. از فرزند خود بخواهید چیزهای مختلفی را که در منزل می‌بیند، بشمارد و عدد مربوط به آن را با چوب خط نمایش دهد و کنار آن بچسباند.



پنج‌شنبه و شنبه

هر شکل چه عددی را نشان می‌دهد؟  
 بشمار و بنویس

۵ ۵ ۵



بشمار و بنویس

هر شکل چه عددی را نشان می دهد؟

A grid of 20 circular icons, each with a green base and legs, containing various shapes and objects:

- Row 1: Two hands (5 fingers each), a group of 5 pink dots, and a group of 5 pink dots.
- Row 2: A blue L-shaped block, a blue plus sign, a brown pentagon, and a brown house shape.
- Row 3: A green L-shaped block, a green L-shaped block, a red triangle, and a group of 5 yellow hexagons.
- Row 4: A red star-like shape, the Persian numeral '۵', a purple flower, and a green frog wearing a party hat.

Below the grid is a row of 8 Persian numerals '۵' on a dashed line. The first numeral is circled in red.