

نام کلاس:

نام و نام خانوادگی:

۱) هر شکل را به تعداد گوشه‌های آن وصل کنید.

• ۵ (۱)

• ۴ (۲)

• ۳ (۳)



۲) درستی یا نادرستی جملات داده شده را مشخص کنید.

نادرست

درست



(الف) تعداد شکل‌های با تعداد شکل‌های برابر است.



(ب) تعداد شکل‌های با تعداد شکل‌های برابر است.



(پ) عدد ۳ را نشان می‌دهد.

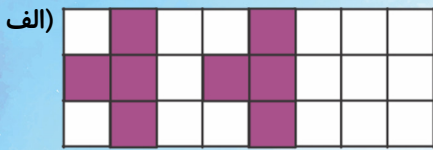


(ت) یکی بعد از می‌شود

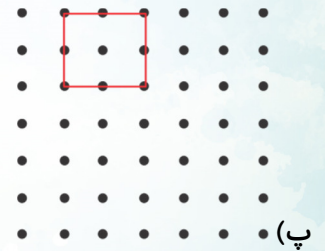
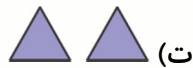
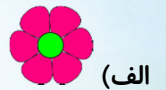


(ث) یکی قبل از می‌شود

۳) در هر مورد الگو را پیدا کرده و ادامه دهید.



۴) ۲ تا شکل به هر دسته اضافه کنید و بکشید.



۵) جدول شگفت‌انگیز داده شده را با توجه به رنگ و شکل آن کامل کنید.

	الف	ب	
پ			ت