

به نام خداوند بود و نبود

# ۱ ریاضی

پدید آورندگان: مرجان عطاللی - سارا حیدری  
ناظر علمی و محتوایی: نگیسا رحمانی



حالا عدد ۵ را بنویس و در خط دوم یک بار از ۱ تا ۵ به ترتیب بنویس.

۵ ۵ ۵ ۵

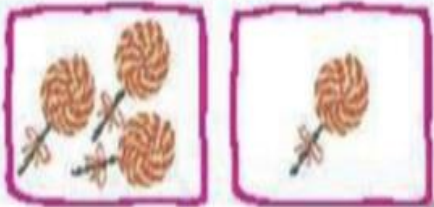
۱ ۲ ۳ ۴ ۵

حالا عدد ۵ را بنویس و در خط دوم یک بار از ۱ تا ۵ به ترتیب بنویس.

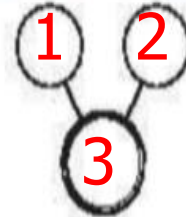

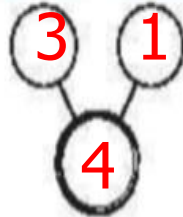
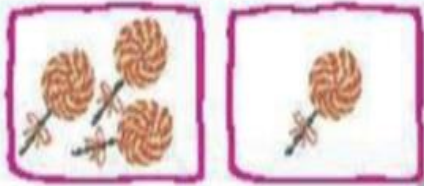
۵ ۵ ۵ ۵ -5-5-5-5-5-5-5-5-5-5

۱ ۲ ۳ ۴ ۵ 1-2-3-4-5

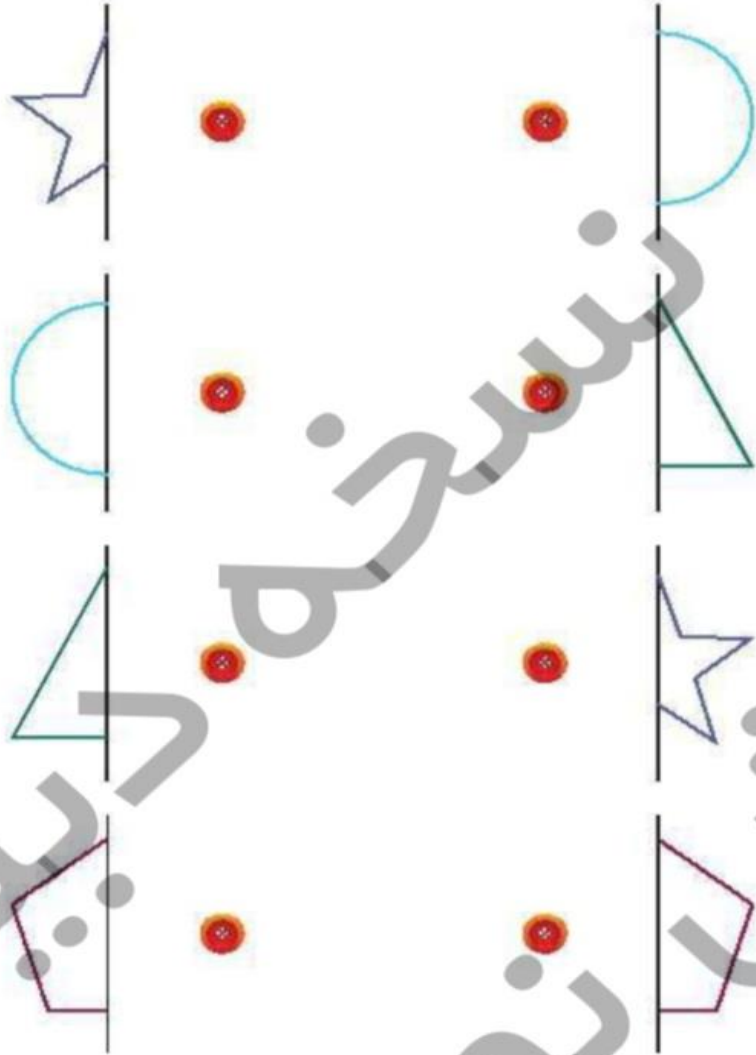
۲ هر دسته چه عددی را نشان می‌دهد؟ شکل‌های سمت راست و چپ روی هم چندتا است؟ بنویس.



۲ هر دسته چه عددی را نشان می‌دهد؟ شکل‌های سمت راست و چپ روی هم چندتا است؟ بنویس.

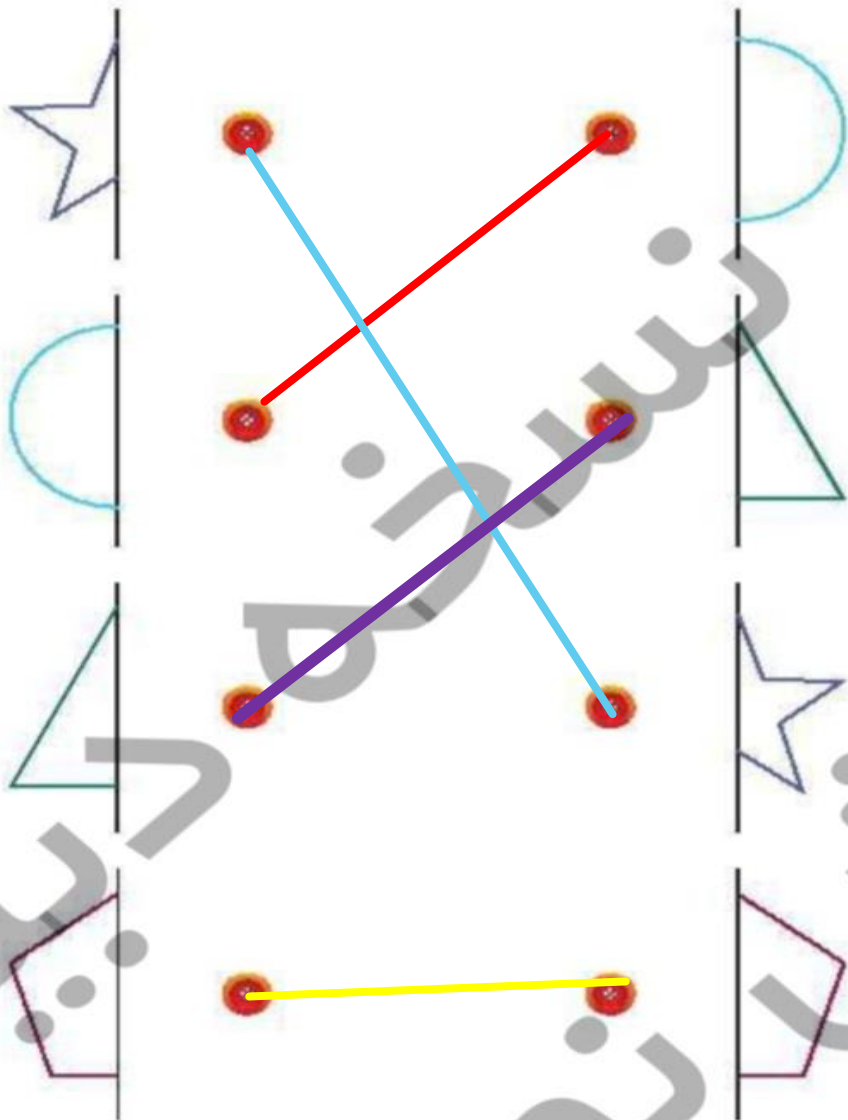


۲ دو نیمه‌ی مربوط به هم را با خط کش به هم وصل کن.



بیتساز

۲ دو نیمه‌ی مربوط به هم را با خط کش به هم وصل کن.





جدولهای شگفت‌انگیز زیر را با عددهای مناسب کامل کن.

۲

	۳	۴	
۴	۱	۲	۳
۱		۳	۲
	۲		

	۱	۳	۲
۲	۳		
	۲		۱
۱		۲	


جدولهای شگفتانگیز زیر را با عددهای مناسب کامل کن.

۴

2	۳	۴	1
۴	۱	۲	۳
۱	4	۳	۲
3	۲	1	4

4	۱	۳	۲
۲	۳	1	4
3	۲	4	۱
۱	4	۲	3

۵ درباره‌ی شکل‌های زیر، یک داستان بگو.



حالا عدد صفر را بنویس و در خط دوم یک بار از صفر تا ۵ به ترتیب بنویس.

۰ ۰ ۰ ۰ -0-0-0-0-0-0-0-0-0-0

۰ ۱ ۲ ۳ ۴ ۵ -0-1-2-3-4-5-

۶ اگر به اندازه‌ی شکل‌های سمت راست از انگشتان دستانت ببندی، چندتا انگشت باز می‌ماند؟ عدد آن را بنویس.



۶ اگر به اندازه‌ی شکل‌های سمت راست از انگشتان دستانت ببندی، چندتا انگشت باز می‌ماند؟ عدد آن را بنویس.



2



4



3




1

# علوی

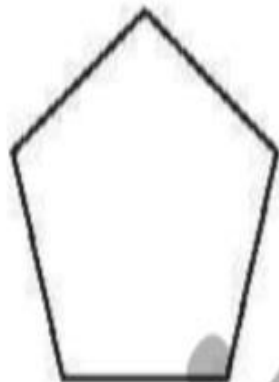
۷ هر شکل چند گوشه دارد؟ مانند نمونه بنویس و به تعداد لبه‌های هر شکل، داخل آن شکل چوب‌خط بکش.



۴



.....



.....



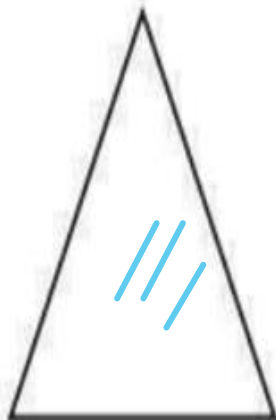
.....

# علوی

هر شکل چند گوشه دارد؟ مانند نمونه بنویس و به تعداد لب‌های هر شکل، داخل آن شکل چوب‌خط بکش. (۷)



۴



3



5



4



تعداد هر شکل را بشمار و روی عدد نامناسب خط بزن. ۸




۲

۴



۳

۴



۴

۵

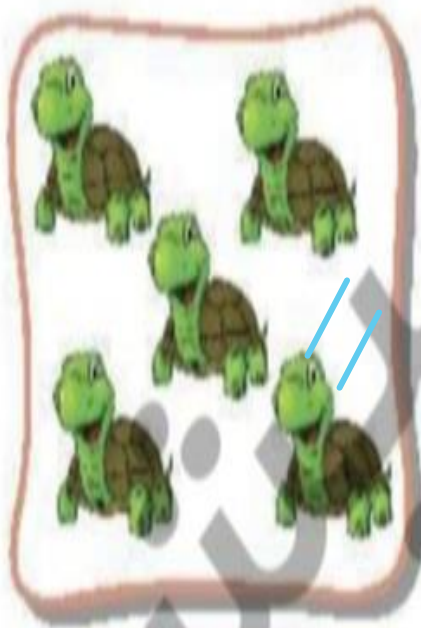
تعداد هر شکل را بشمار و روی عدد نامناسب خط بزن. ۸



~~۲~~ ۴



۳ ~~۴~~



~~۴~~ ۵

۹ نیمه‌ی دیگر شکل را مثل نیمه‌ی رنگ شده، رنگ بزن.



۹ نیمه‌ی دیگر شکل را مثل نیمه‌ی رنگ شده، رنگ بزن.

