



به نام خدا

زندگی ریاضی

آموزگار بهلولی




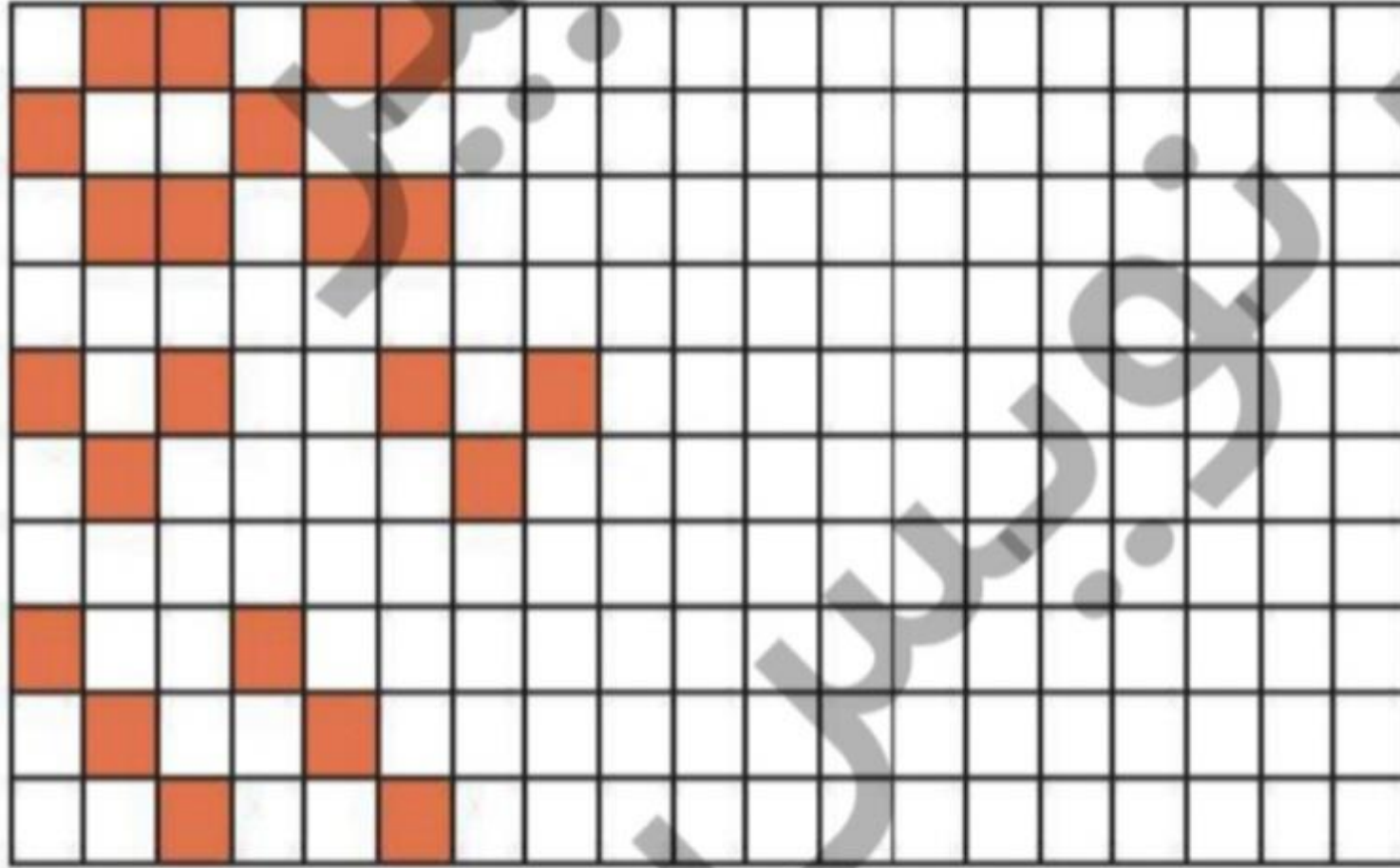
روی پنجره‌های واگن قطار عددهایی نوشته شده است. بعضی از پنجره‌ها عدد ندارند. با رعایت ترتیب، اعداد مناسب را در پنجره‌های خالی بنویس. عددهایی را که در واگن‌ها نوشتی در مستطیل سمت چپ به ترتیب بنویس.

۱۰ روی پنجره‌های واگن قطار عددهایی نوشته شده است. بعضی از پنجره‌ها عدد ندارند. با رعایت ترتیب، اعداد مناسب را در پنجره‌های خالی بنویس. عددهایی را که در واگن‌ها نوشتی در مستطیل سمت چپ به ترتیب بنویس.

۳ ۴ ۵			
۱ ۲ ۳			
۱ ۲ ۳			


الگوهای زیر را ادامه بده و الگویی که تکرار شده است را در سمت راست بکش.

۱۱



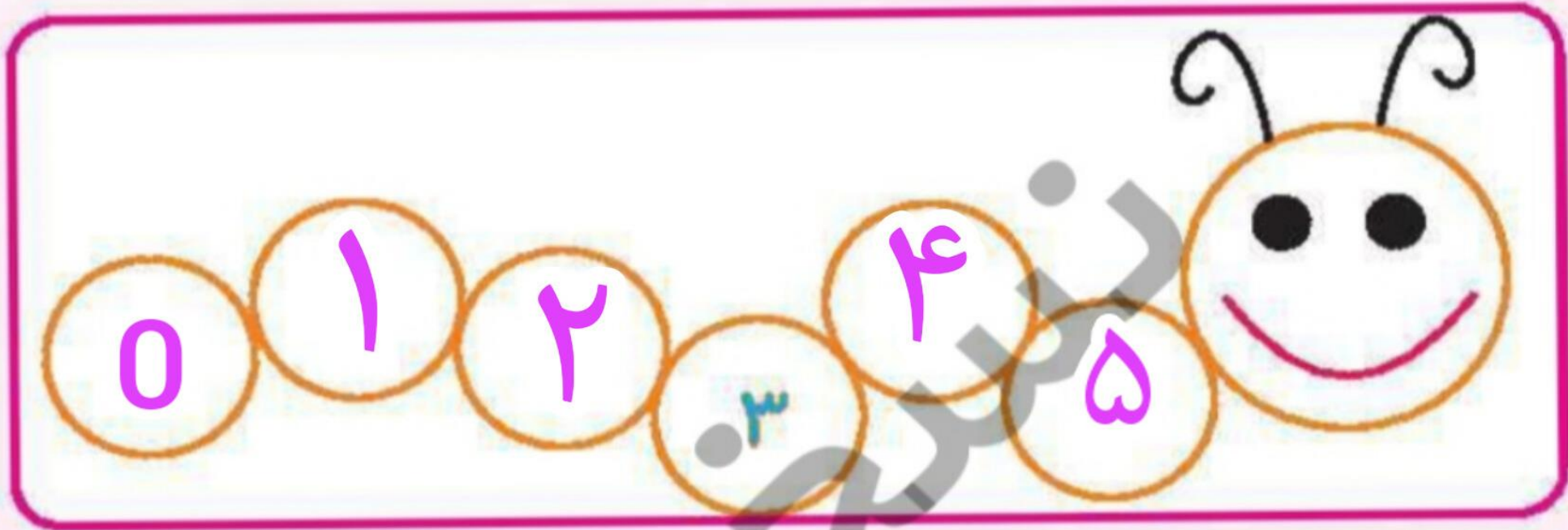


اعداد ۰ تا ۵ را از انتهای کتاب ببر و به ترتیب بچسبان.

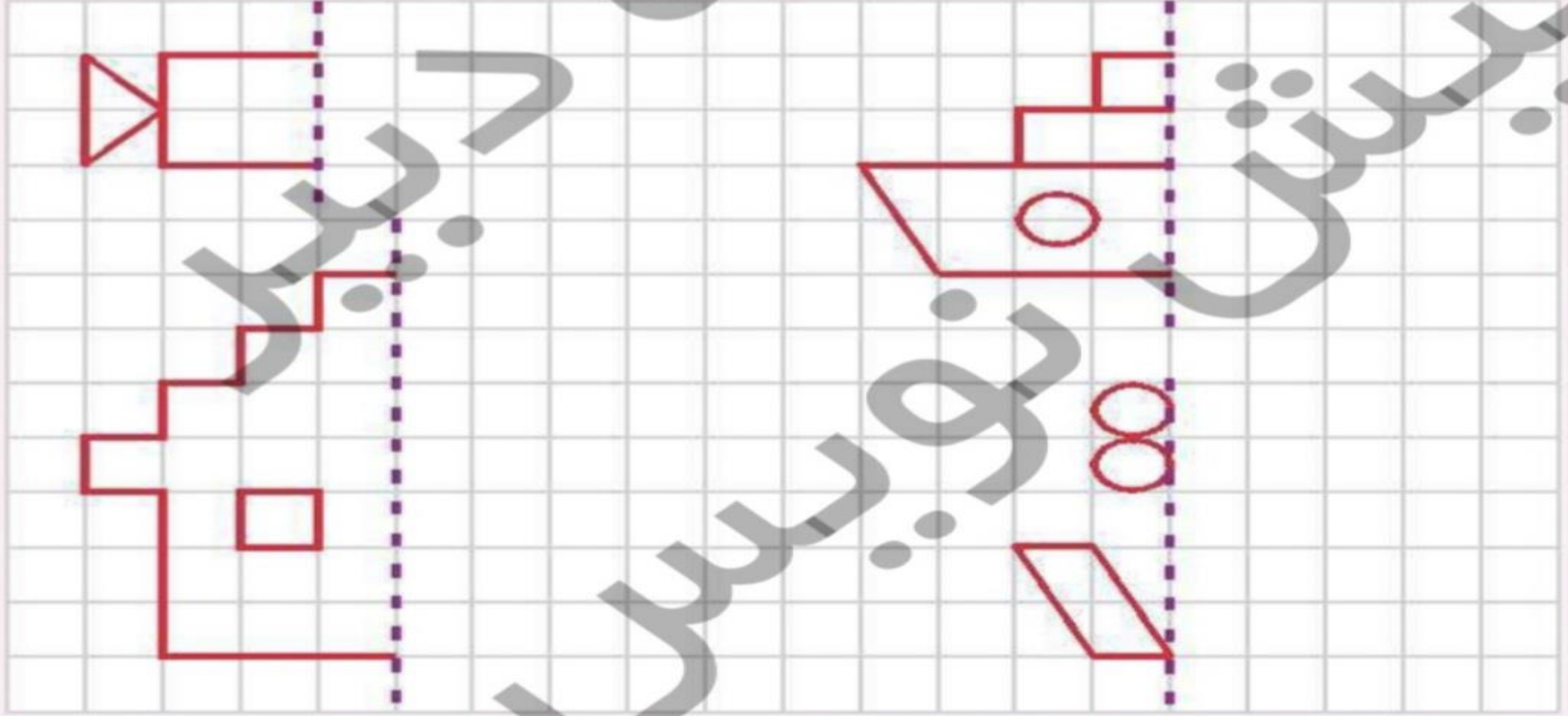




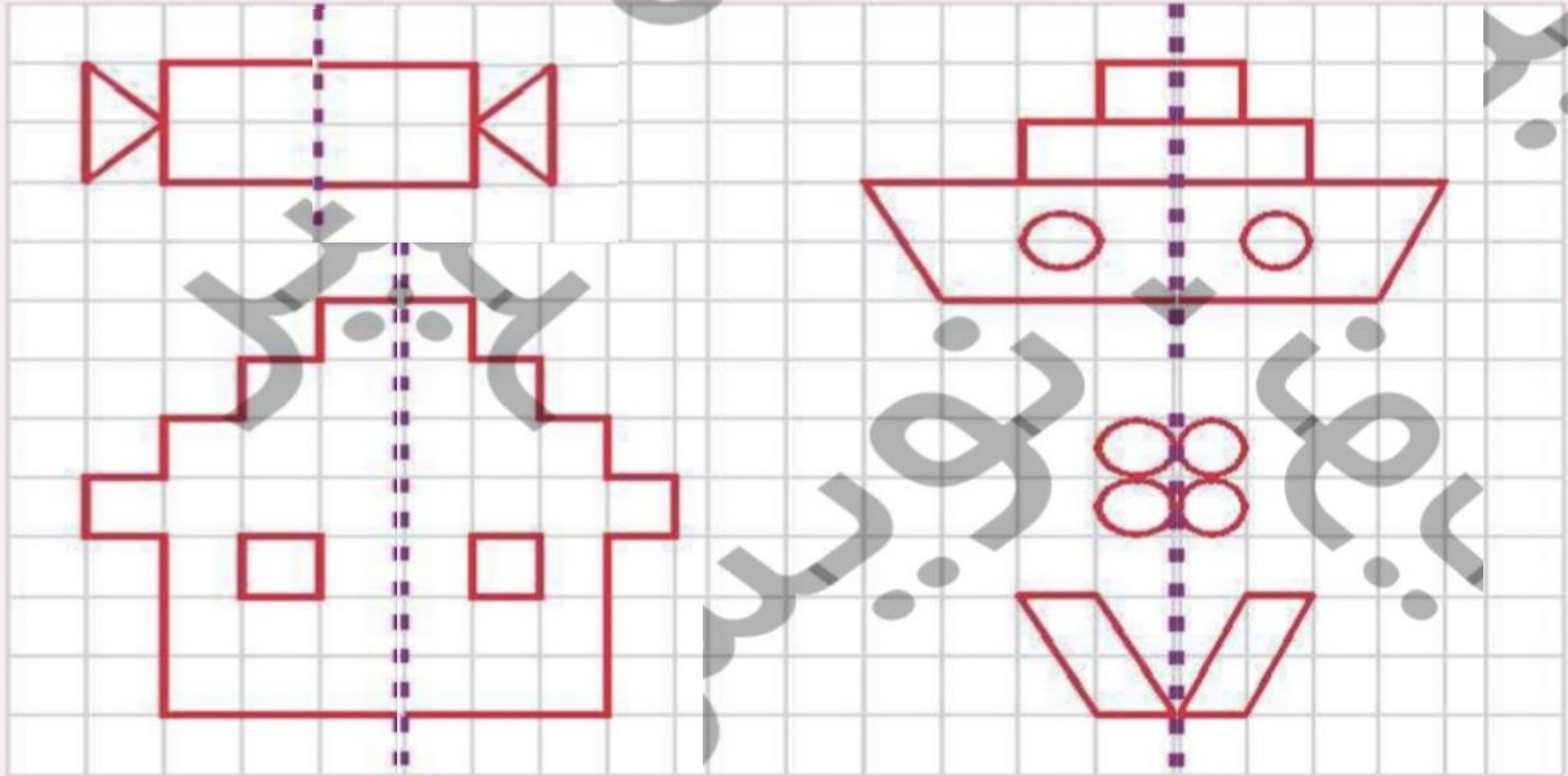
اعداد ۰ تا ۵ را از انتهای کتاب ببر و به ترتیب بچسبان.



نیمه‌ی دیگر شکل‌ها را کامل کن و رنگ بزن.



نیمه‌ی دیگر شکل‌ها را کامل کن و رنگ بزن.






آموختنی‌ها

- ۱ اشکال متقارن موجود در تصویر را نام ببر.
- ۲ چند دانش آموز در تصویر می‌بینی؟
- ۳ به نظرت بچه‌ها مشغول چه بازی هستند؟
- ۴ شما در حیاط مدرسه‌ی خود چه بازی‌هایی انجام می‌دهید؟
- ۵ اگر به تعداد پرنده‌های روی دیوار ۲ تایی دیگر اضافه شود روی هم چندتا می‌شود؟ (چوب خط بکش)




علوی

۱ انگشتان یک دست را تا جایی که امکان دارد به دست دیگر منتقل کن و تعداد آن را با چوبخط نشان بده.



علوی

۱ انگشتان یک دست را تا جایی که امکان دارد به دست دیگر منتقل کن و تعداد آن را با چوبخط نشان بده.



خدا قوت
همگی خسته
تبا شهید

