



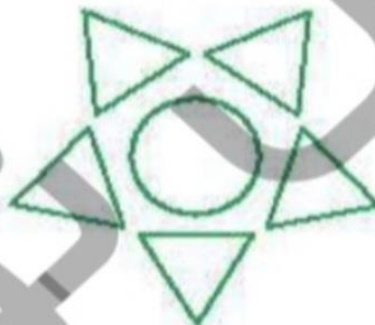
به نام خدا

زندگی ریاضی

آموزگار بهلولی

۲ به تعداد هر شکل چینه‌ها را رنگ بزن. برای رنگ کردن از ۲ رنگ استفاده کن.

با چوب‌خط در مستطیل زیر تعداد کل هر شکل را نشان بده.



۲ به تعداد هر شکل چینه‌ها را رنگ بزن. برای رنگ کردن از ۲ رنگ استفاده کن.

با چوب‌خط در مستطیل زیر تعداد کل هر شکل را نشان بده.



حالا عدد ۶ را بنویس و در خط دوم یک بار از صفر تا ۶ بنویس.

۶ ۶ ۶ ۶





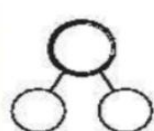



.....

حالا عدد ۶ را بنویس و در خط دوم یک بار از صفر تا ۶ بنویس.



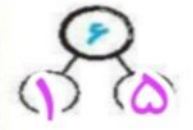

The image shows two rows of handwriting practice on a white background with a blue border. The top row contains the number '6' written in various styles: a solid black '6', a solid black '6' with a yellow stroke order arrow, a dashed black '6', a dashed black '6', a purple '6', a purple '6', a purple '6', a purple '6', a purple '6', a purple '6', and a purple '6'. The bottom row contains the numbers 0, 1, 2, 3, 4, and 5, each written in purple and followed by a dashed line for tracing. A large, faint grey watermark of the number '6' is visible in the background.

۲ تعداد شکل‌های سمت راست را داخل دایره‌ی راست و تعداد شکل‌های سمت چپ را داخل دایره‌ی چپ بنویس و سپس

تعداد کل هر دسته را در دایره‌ی بالا بنویس.



تعداد شکل‌های سمت راست را داخل دایره‌ی راست و تعداد شکل‌های سمت چپ را داخل دایره‌ی چپ بنویس و سپس
تعداد کل هر دسته را در دایره‌ی بالا بنویس.



علوی

۳ از چینه‌ها به تعداد شکل‌های سمت چپ، زرد و به تعداد شکل‌های سمت راست، سبز کن.



علوی

۴ از چینه‌ها به تعداد شکل‌های سمت چپ، زرد و به تعداد شکل‌های سمت راست، سبز کن.



حالا عدد ۷ را بنویس و در خط دوم یک بار از صفر تا ۷ بنویس.

۷ ۷ ۷ ۷

۷

۷







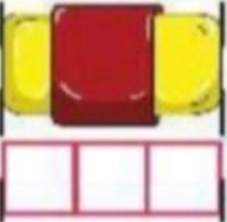





حالا عدد ۷ را بنویس و در خط دوم یک بار از صفر تا ۷ بنویس.

۷ ۷ ۷ ۷

۰ ۱ ۲ ۳ ۴ ۵ ۶ ۷

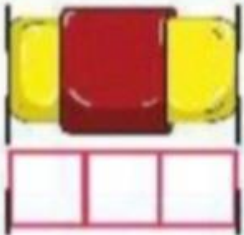
۵

با چوبخط و عدد نشان بده اندازه‌ی هر شکل چند چینه است؟

	چوبخط	عدد
		
		
		
		

۵

با چوبخط و عدد نشان بده اندازه‌ی هر شکل چند چینه است؟



چوبخط

عدد



4



7



3



6

دانش آموزان عزیزم

خسته نباشید



