



ریاضی
اول ابتدائی

تم ۱۳: آشنایی با نماد جمع و حاصل
آن و مفهوم ترکیبی اعداد ۲ تا ۱۰

آموزگار بهلولی

ریاضی اول

به دقت به تصویر نگاه کنید و به سوالات صفحه بعد پاسخ دهید.





سوال از ما پاسخ از شما



خانواده برای صرف نهار به کجا رفته اند؟

رستوان



میزهایی جلویی چند نفر نشسته اند؟

هیچ نفری نیستند

اگر به رستوران بروی کدام غذا را سفارش می دهی؟

چلو کباب

بشمار و بنویس






عدد مربوط به انگشتان هر دست را بنویس. انگشتان دست چپ را تا جایی که می شود به دست راست منتقل کن و حاصل را بنویس.

3 + 1 =

5 + 3 =

بشمار و بنویس

عدد مربوط به انگشتان هر دست را بنویس. انگشتان دست چپ را تا جایی که می شود به دست راست منتقل کن و حاصل را بنویس.

				
۳	+	۱	=	۴
				
۴	+	۳	=	۷



بشمار و بنویس

عدد مربوط به انگشتان هر دست را بنویس. انگشتان دست چپ را تا جایی که می شود به دست راست منتقل کن و حاصل را بنویس.



$$\underline{\quad} + \underline{\quad} = \underline{\quad}$$



$$\underline{\quad} + \underline{\quad} = \underline{\quad}$$



بشمار و بنویس

عدد مربوط به انگشتان هر دست را بنویس. انگشتان دست چپ را تا جایی که می شود به دست راست منتقل کن و حاصل را بنویس.



۳

+

۳

=

۶



۴

+

۴











=

۸

بشمار و بنویس (چوب خط - کامل کردن عبارت جمع)



ابتدا به تعداد شکل های هر دسته در سمت راست چوب خط بکش؛ سپس عبارت جمع را کامل کن.











	+		=			— + — = —
	+		=			— + — = —
	+		=			— + — = —

بشمار و بنویس (چوب خط - کامل کردن عبارت جمع)



ابتدا به تعداد شکل های هر دسته در سمت راست چوب خط بکش؛ سپس عبارت جمع را کامل کن.



	+		=			$۴ + ۳ = ۷$
	+		=			$۵ + ۳ = ۸$
	+		=			$۵ + ۲ = ۷$





پایان کلاس امروز
خسته نباشید

