


به نام خدای شب های پرستاره

ریاضی


تیم ۱۳





بشمار و بنویس

ابتدا به تعداد شکل های هر دسته در سمت راست چوب خط بکش؛ سپس عبارت جمع را کامل کن.
دو عدد را پیدا کن که جمع آنها برابر با عددی باشد که بالای ستون نوشته شده است.



+



=



----- + ----- = -----



+



=




----- + ----- = -----



+



=













----- + ----- = -----



بشمار و بنویس

ابتدا به تعداد شکل‌های هر دسته در سمت راست چوب خط بکش؛ سپس عبارت جمع را کامل کن.
دو عدد را پیدا کن که جمع آنها برابر با عددی باشد که بالای ستون نوشته شده است.

	+		=	
	+		=	
	+		=	










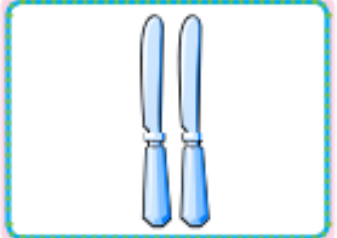

$۴ + ۳ = ۷$


$+$ $=$

$+$ $=$

بشمار و بنویس

ابتدا به تعداد شکل‌های هر دسته در سمت راست چوب خط بکش؛ سپس عبارت جمع را کامل کن.
 دو عدد را پیدا کن که جمع آنها برابر با عددی باشد که بالای ستون نوشته شده است.

	+		=	
	+		=	
	+		=	










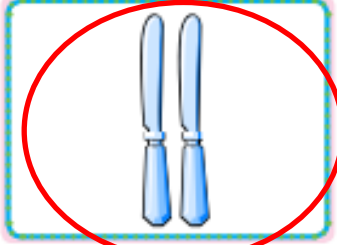

$۴ + ۳ = ۷$


$۵ + ۳ = ۸$

$+$

بشمار و بنویس

ابتدا به تعداد شکل‌های هر دسته در سمت راست چوب خط بکش؛ سپس عبارت جمع را کامل کن.
دو عدد را پیدا کن که جمع آنها برابر با عددی باشد که بالای ستون نوشته شده است.

	+		=	
	+		=	
	+		=	


$$۴ + ۳ = ۷$$
$$۵ + ۳ = ۸$$
$$۵ + ۲ = ۷$$



۲	۳	۴	۵	۶
○ ۲				





۲	۳	۴	۵	۶
۰ ۲				
۱ ۱				





۲	
۰	۲
۱	۱
۲	۰

۳	

۴	

۵	

۶	





۲	۳	۴	۵	۶
۰ ۲	• ۳			
۱ ۱				
۲ •				





۲	۳	۴	۵	۶
۰ ۲	• ۳			
۱ ۱	۱ ۲			
۲ •				





۲	۳	۴	۵	۶
۰ ۲	• ۳			
۱ ۱	۱ ۲			
۲ •	۲ ۱			





۲	۳	۴	۵	۶
۰ ۲	• ۳			
۱ ۱	۱ ۲			
۲ •	۲ ۱			
	۳ •			





۲	۳	۴	۵	۶
۰	•	•		
۱	۱	۱		
۲	۲	۲		
	۱	۱		
	•	•		
	۳	۳		
		۲		
		•		





۲		۳		۴		۵		۶
۰	۲	•	۳	•	۲	•	۵	
۱	۱	۱	۲	۱	۳	۱	۲	
۲	•	۲	۱	۲	۲	۲	۳	
		۳	•	۳	۱	۳	۲	
				۲	•	۲	۱	
						۵	•	





۲		۳		۴		۵		۶	
۰	۲	•	۳	•	۲	•	۵	•	۶
۱	۱	۱	۲	۱	۳	۱	۲	۱	۵
۲	•	۲	۱	۲	۲	۲	۳	۲	۲
		۳	•	۳	۱	۳	۲	۳	۳
				۲	•	۲	۱	۲	۲
						۵	•	۲	۱
								۵	•
								۶	•





خروج

فهرست

نعمه اسد
آموزگار پایه ی اول

