



سلام بر سحر خیزان

روز و روزگار تان خوش

ایام به کام

عاقبتان به خیر

صبحتون شاد و پر امید

@reza_66

زنگ ریاضی

علوی

مدارس هزاره سوم





آموزگار بهلولی

تیم ۱۲



آموختنی‌ها

- ۱ به نظر تو دخترها دربارهی چه چیزی صحبت می‌کنند؟
- ۲ تعداد پروانه‌ها چندتاست؟ تعداد درخت‌ها چندتاست؟ کدام یک کم‌ترند؟
- ۳ تعداد برگ‌های روی هر شاخه را بشمار.
- ۴ الگوهای موجود در تصویر را پیدا کن و بگو.
- ۵ کدام شکل‌ها متقارن هستند؟ خط تقارن آن‌ها را رسم کن.

تیم ۱۲








آموختنی‌ها

- ۱ به نظر تو دخترها درباره‌ی چه چیزی صحبت می‌کنند؟
- ۲ تعداد پروانه‌ها چندتاست؟ تعداد درخت‌ها چندتاست؟ کدام یک کم‌ترند؟
- ۳ تعداد برگ‌های روی هر شاخه را بشمار.
- ۴ الگوهای موجود در تصویر را پیدا کن و بگو.
- ۵ کدام شکل‌ها متقارن هستند؟ خط تقارن آن‌ها را رسم کن.

علوی


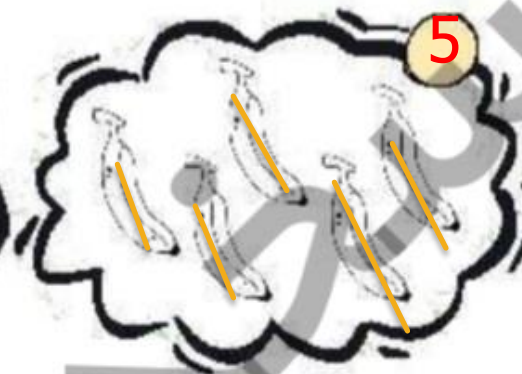
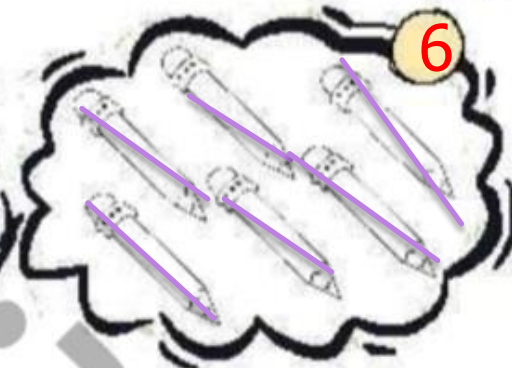

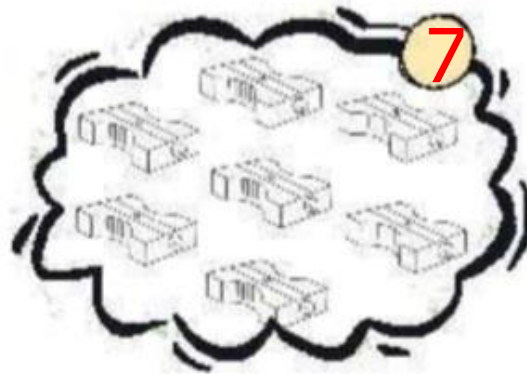
عدد هر دسته را بنویس. در هر ردیف شکل‌های دسته‌ی کم‌تر را رنگ بزن.

۱



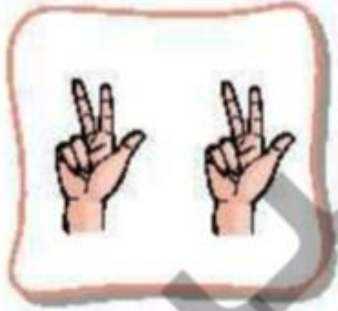
علوی

۱ عدد هر دسته را بنویس. در هر ردیف شکل‌های دسته‌ی کم‌تر را رنگ بزن.



۲

عدد هر دسته را بنویس و از علامتهای < = > به طور مناسب استفاده کن و عبارت‌ها را از هر دو طرف بخوان.



.....



.....

.....



.....



.....



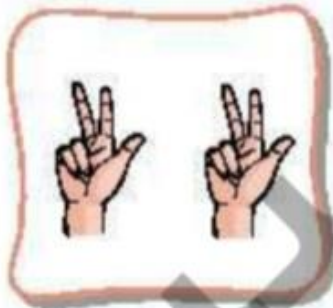
.....

.....



.....

عدد هر دسته را بنویس و از علامتهای < = > به طور مناسب استفاده کن و عبارت‌ها را از هر دو طرف بخوان.



6



7



8



5



5



6



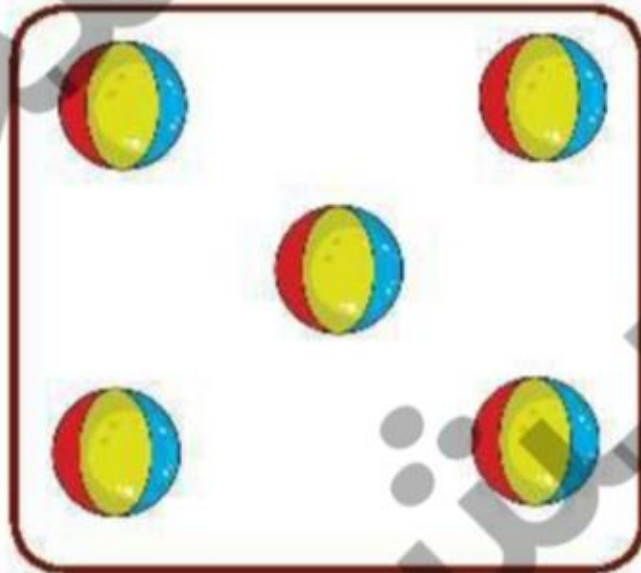


8



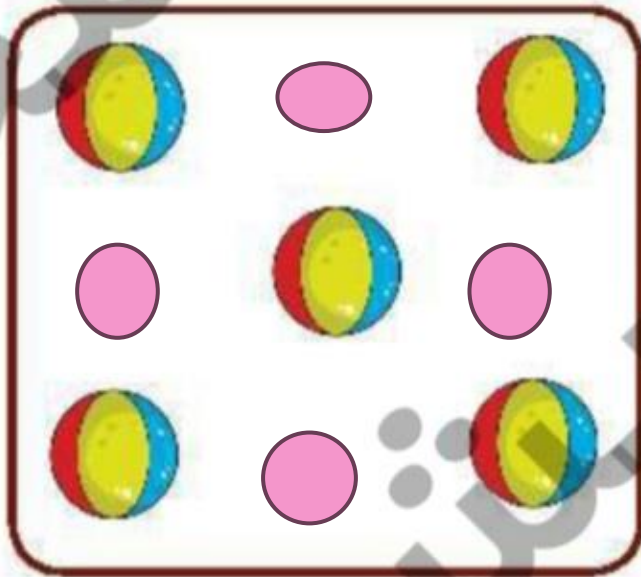
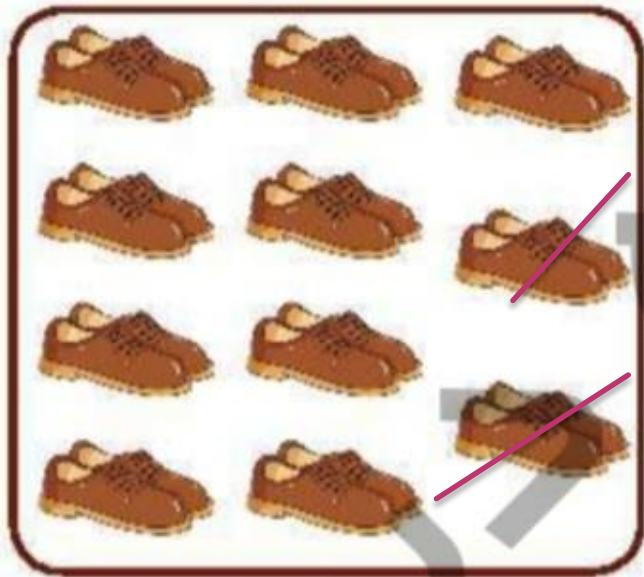


14



۲ به هر دسته آن قدر شکل اضافه کن یا خط بزن تا تعداد آن برابر ۹ شود.



۲ به هر دسته آن قدر شکل اضافه کن یا خط بزن تا تعداد آن برابر ۹ شود.



حالا عدد ۹ را بنویس و در خط دوم یک بار از صفر تا ۹ به ترتیب بنویس.

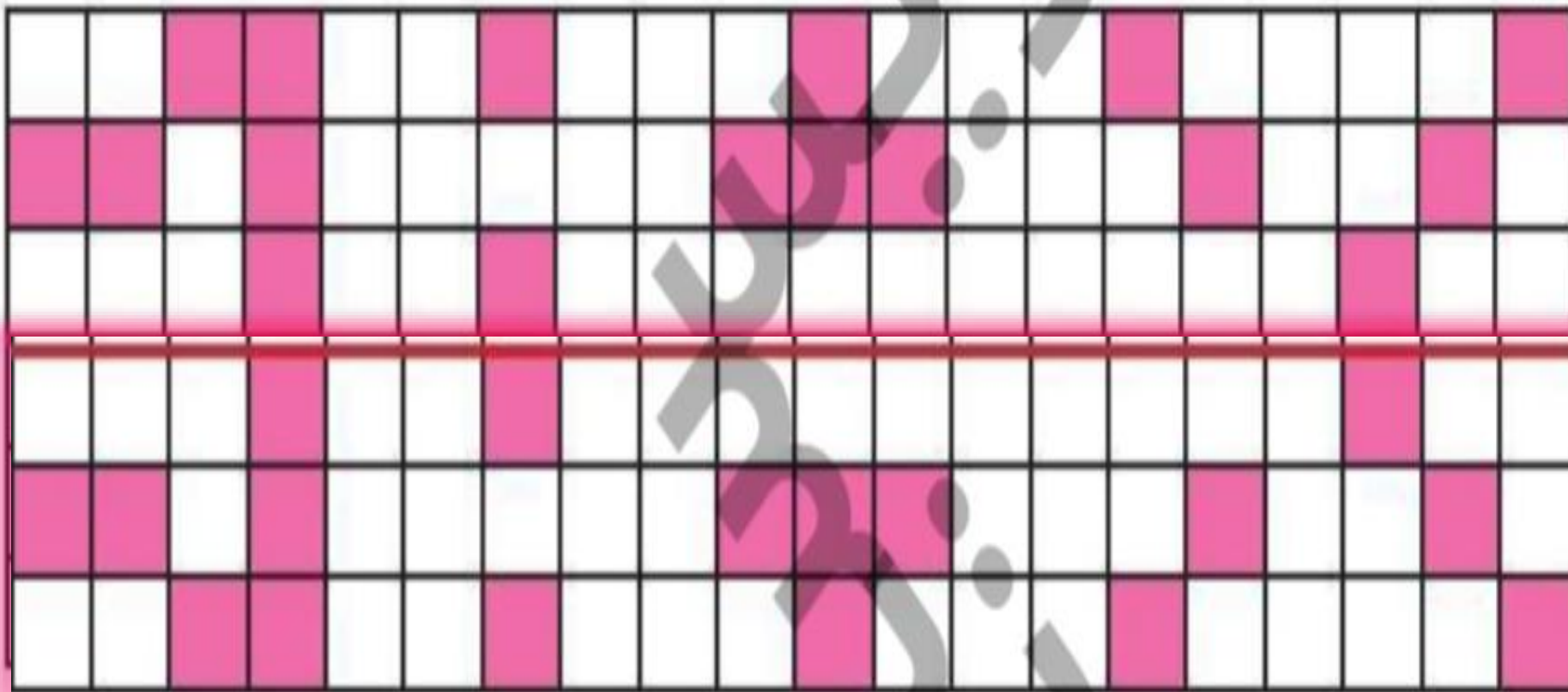


حالا عدد ۹ را بنویس و در خط دوم یک بار از صفر تا ۹ به ترتیب بنویس.

۹ ۹ ۹ ۹ ۹ ۹ ۹ ۹ ۹ ۹ ۹

0 1 2 3 4 5 6 7 8 9

۴ شکل را طوری کامل کن که دو نیمه‌ی آن مثل هم باشند.



همیشه در نگاه خدا
سادو موفقی باشید
خدا نگهدار