


به نام خدای شب های پرستاره


ریاضی

تیم ۱۳



به تعداد عدد سمت چپ، مربع آبی و به تعداد عدد سمت راست، مربع سبز رنگ کن. چند تا مربع رنگ شده است؟ حاصل جمع را بنویس.



بشمار و بنویس



$$\begin{array}{r}
 ۲ \\
 + ۲ \\
 \hline
 \end{array}
 \qquad
 \begin{array}{r}
 ۲ \\
 + ۳ \\
 \hline
 \end{array}
 \qquad
 \begin{array}{r}
 ۳ \\
 + ۲ \\
 \hline
 \end{array}$$

به تعداد عدد سمت چپ، مربع آبی و به تعداد عدد سمت راست، مربع سبز رنگ کن. چند تا مربع رنگ شده است؟ حاصل جمع را بنویس.


بشمار و بنویس



$$\begin{array}{r} ۲ \\ + ۴ \\ \hline ۶ \end{array}$$
$$\begin{array}{r} ۲ \\ + ۳ \\ \hline \end{array}$$
$$\begin{array}{r} ۳ \\ + ۲ \\ \hline \end{array}$$

به تعداد عدد سمت چپ، مربع آبی و به تعداد عدد سمت راست، مربع سبز رنگ کن. چند تا مربع رنگ شده است؟ حاصل جمع را بنویس.

بشمار و بنویس




$$۲ + ۴ = ۶$$

$$۲ + ۳ = ۵$$

$$۳ + ۲ = ۵$$

به تعداد عدد سمت چپ، مربع آبی و به تعداد عدد سمت راست، مربع سبز رنگ کن. چند تا مربع رنگ شده است؟ حاصل جمع را بنویس.

بشمار و بنویس



۴	+	۲	=	۶
۲	+	۳	=	۵
۳	+	۴	=	۷



$$6 + 3 = 9$$



$$5 + 5 =$$



$$4 + 6 =$$



$$7 + 3 =$$

10 _ 10 _ 10



$$5 + 4 = 9$$



$$5 + 5 = 10$$



$$4 + 6 =$$



$$7 + 3 =$$

10 _ 10 _ 10



$$5 + 4 = 9$$



$$5 + 5 = 10$$



$$4 + 6 = 10$$



$$7 + 3 = \underline{\quad}$$

10 - 10 - 10



$$5 + 4 = 9$$



$$5 + 5 = 10$$



$$4 + 6 = 10$$



$$7 + 3 = 10$$

10 _ 10 _ 10



$$5 + 3 = 8$$



$$5 + 5 = 10$$



$$4 + 6 = 10$$



$$7 + 3 = 10$$

10 - 10 - 10 10 10 10



خروج

فهرست

نعمه اسد
آموزگار پایه ی اول

