



سلام بر سحر خیزان

روز و روزگار تان خوش

ایام به کام

عاقبتان به خیر

صبحتون شاد و پر امید

زنگ ریاضی

علوی

مدارس هزاره سوم





آموزگار بهلولی

تمه ۱۲



آموختنی‌ها

- ۱ به نظر تو دخترها دربارهی چه چیزی صحبت می‌کنند؟
- ۲ تعداد پروانه‌ها چندتاست؟ تعداد درخت‌ها چندتاست؟ کدام یک کم‌ترند؟
- ۳ تعداد برگ‌های روی هر شاخه را بشمار.
- ۴ الگوهای موجود در تصویر را پیدا کن و بگو.
- ۵ کدام شکل‌ها متقارن هستند؟ خط تقارن آن‌ها را رسم کن.

تیم ۱۲







آموختنی‌ها

- ۱ به نظر تو دخترها درباره‌ی چه چیزی صحبت می‌کنند؟
- ۲ تعداد پروانه‌ها چندتاست؟ تعداد درخت‌ها چندتاست؟ کدام یک کم‌ترند؟
- ۳ تعداد برگ‌های روی هر شاخه را بشمار.
- ۴ الگوهای موجود در تصویر را پیدا کن و بگو.
- ۵ کدام شکل‌ها متقارن هستند؟ خط تقارن آن‌ها را رسم کن.

علوی


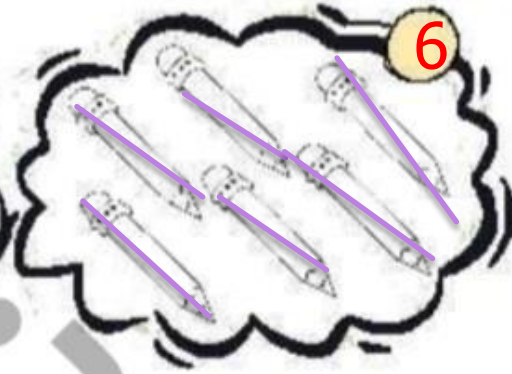

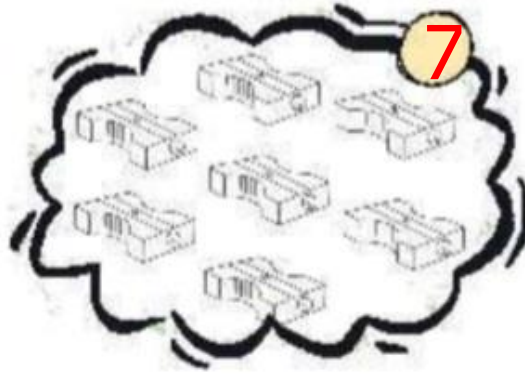
عدد هر دسته را بنویس. در هر ردیف شکل‌های دسته‌ی کم‌تر را رنگ بزن.

۱



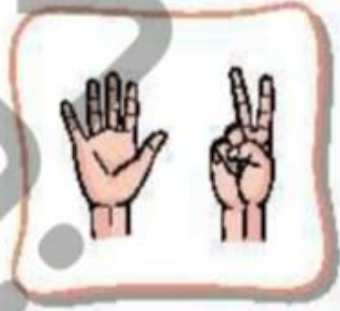
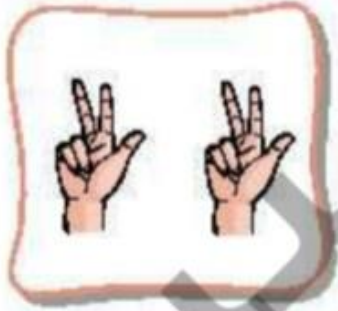
علوی

۱ عدد هر دسته را بنویس. در هر ردیف شکل‌های دسته‌ی کم‌تر را رنگ بزن.



۲

عدد هر دسته را بنویس و از علامتهای < = > به طور مناسب استفاده کن و عبارت‌ها را از هر دو طرف بخوان.



.....

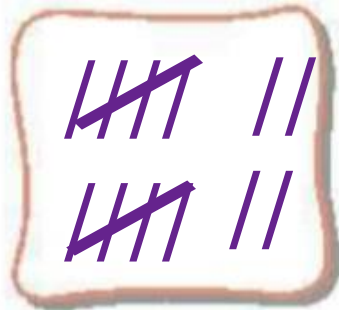


.....

.....



.....



.....



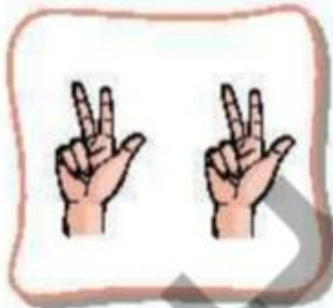
.....

.....

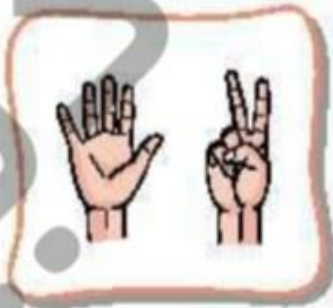


.....

عدد هر دسته را بنویس و از علامتهای < = > به طور مناسب استفاده کن و عبارت‌ها را از هر دو طرف بخوان.



6



7



8



5



5



6



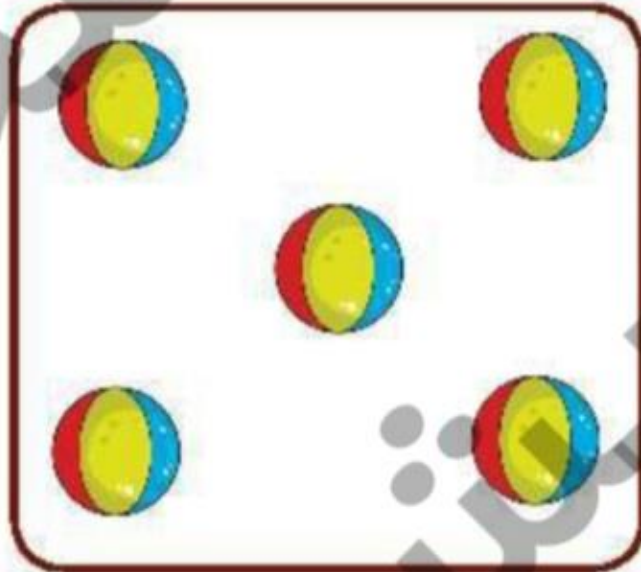


8



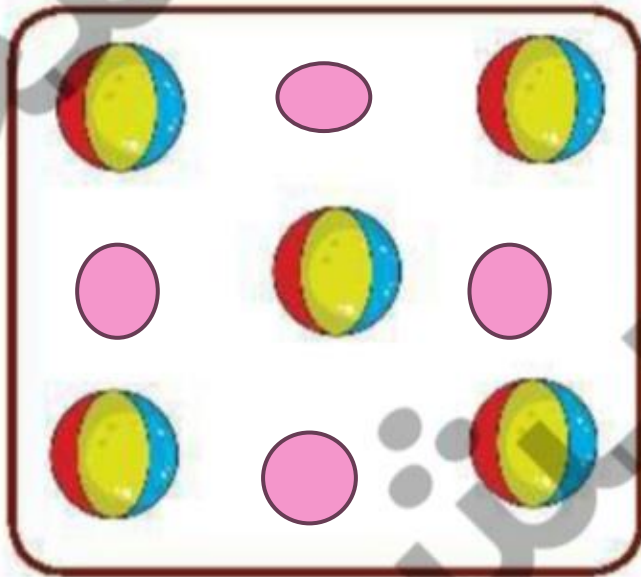
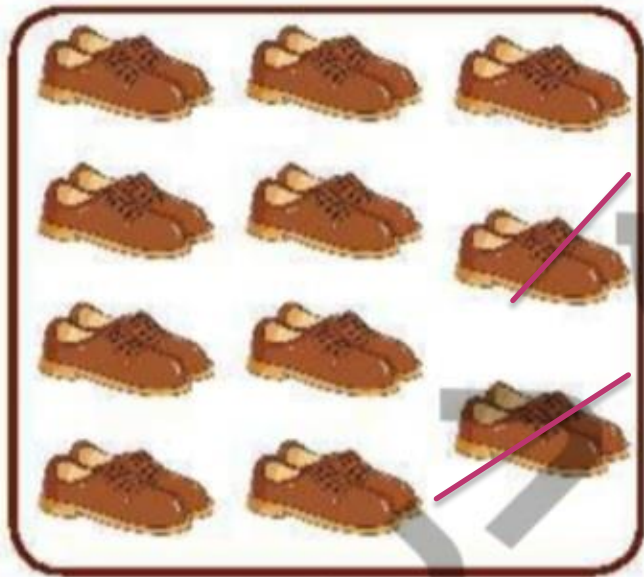


14



۲ به هر دسته آن قدر شکل اضافه کن یا خط بزن تا تعداد آن برابر ۹ شود.



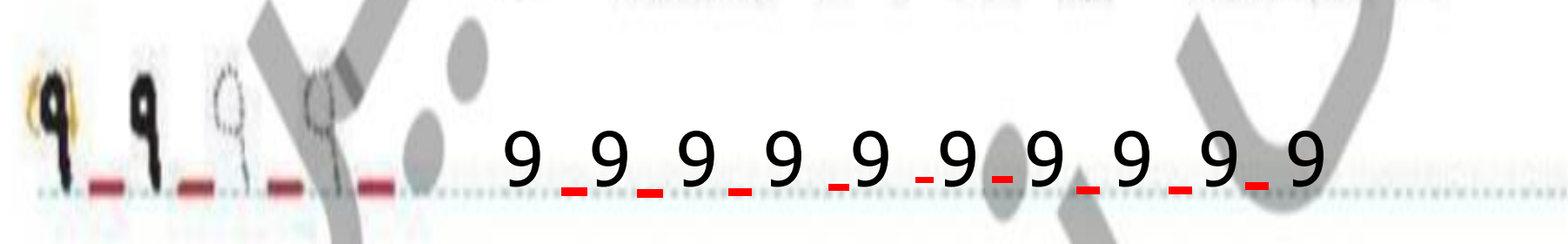
۲ به هر دسته آن قدر شکل اضافه کن یا خط بزن تا تعداد آن برابر ۹ شود.



حالا عدد ۹ را بنویس و در خط دوم یک بار از صفر تا ۹ به ترتیب بنویس.



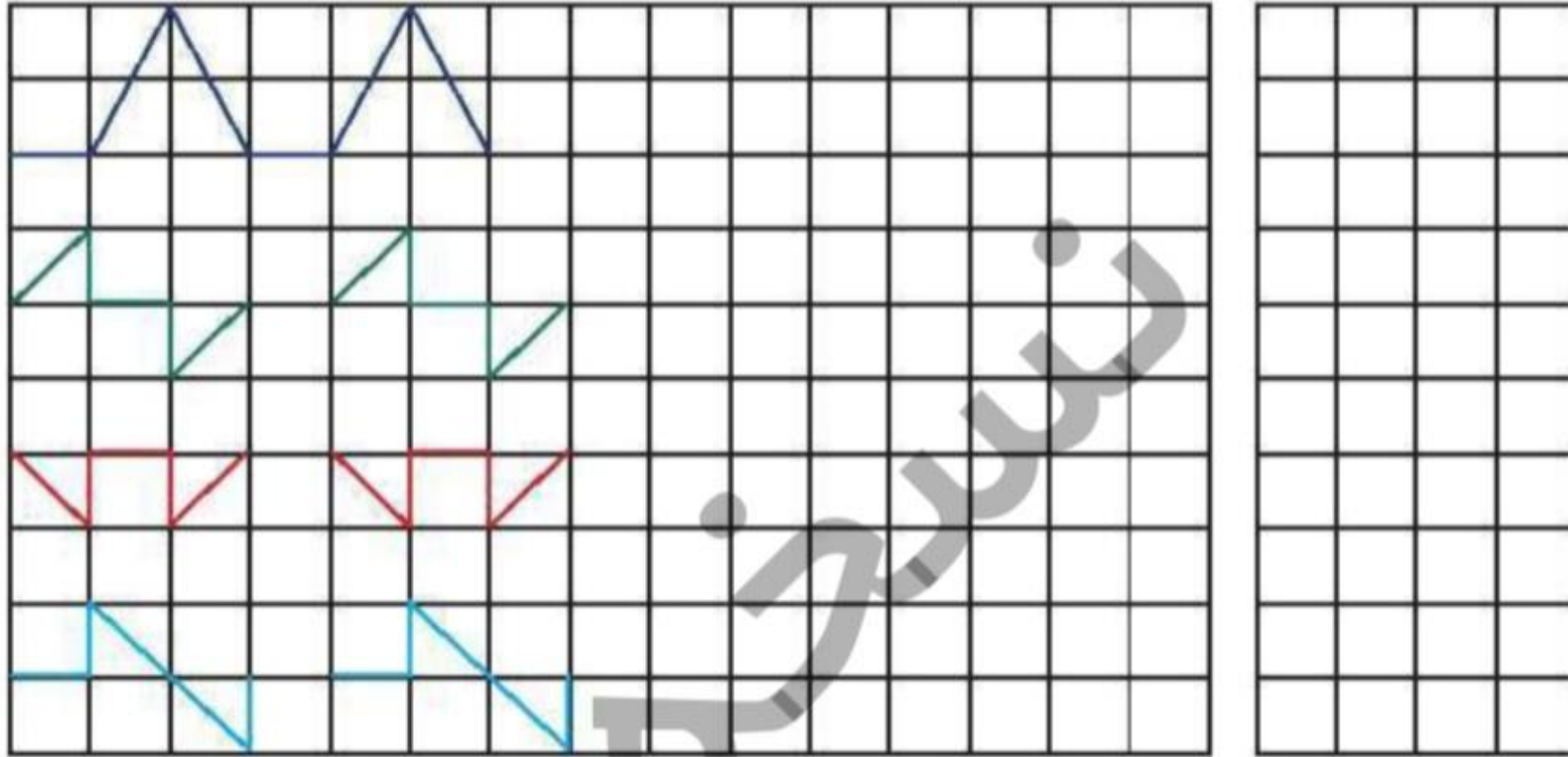
حالا عدد ۹ را بنویس و در خط دوم یک بار از صفر تا ۹ به ترتیب بنویس.



علوی

الگوهای زیر را ادامه بده و الگویی را که تکرار شده در سمت راست بکش.

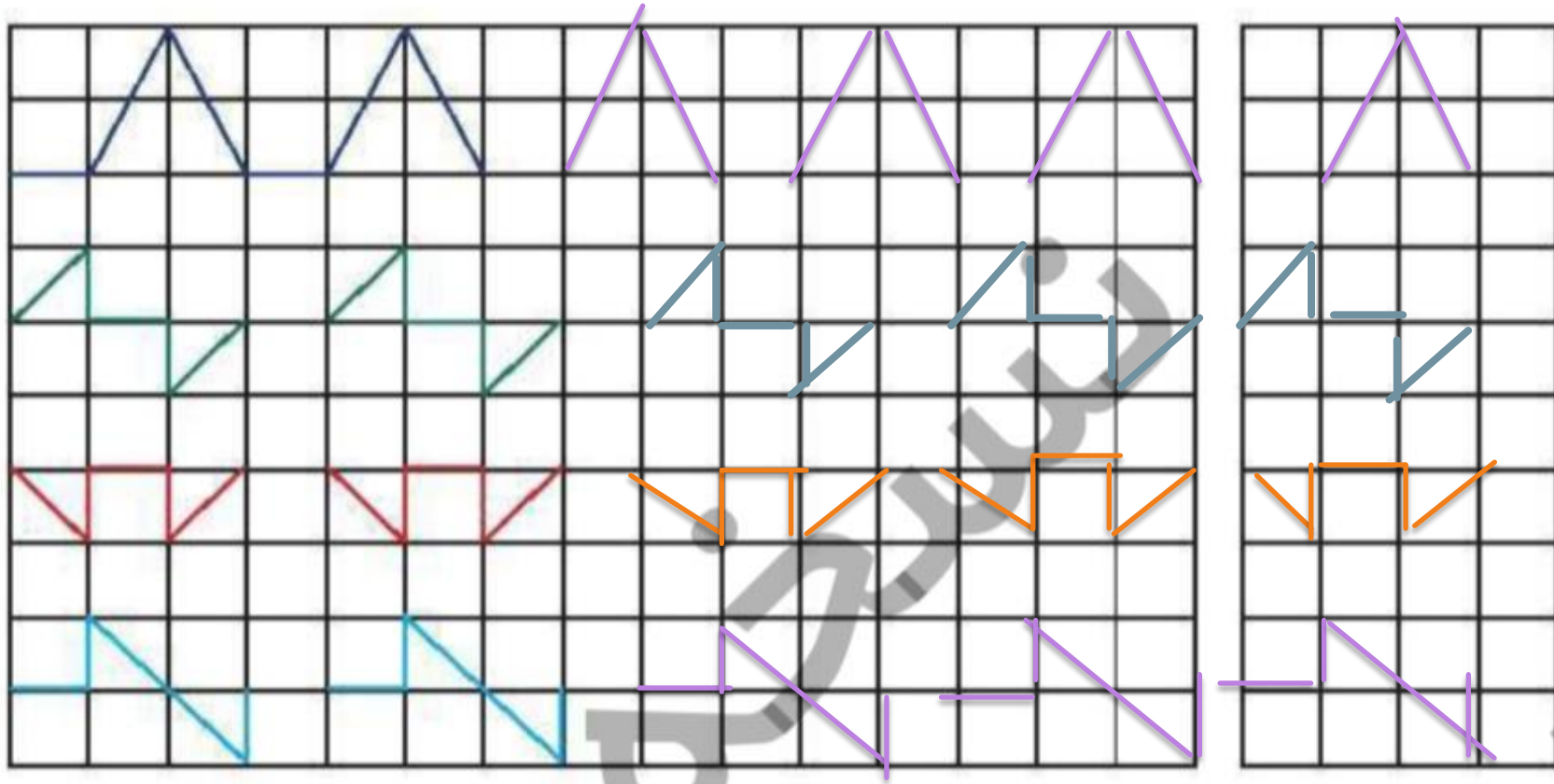
۵



علوی

۵ الگوهای زیر را ادامه بده و الگویی را که تکرار شده در سمت راست بکش.

۵



جدول شگفت انگیز را کامل کن.



۳		۲	۸	۹	۵	۴	۷	
۵	۶		۱	۴	۷	۳		۲
۴	۸	۷	۲	۶		۵	۱	۹
	۵		۷		۶		۴	۸
	۲	۸	۵	۱	۴	۶	۹	۳
۶	۳	۴		۸	۲	۱	۵	۷
۲	۴	۵	۶	۷	۹	۸		۱
۱		۶	۳	۵	۸	۹	۲	۴
۸	۹		۴	۲		۷	۶	۵

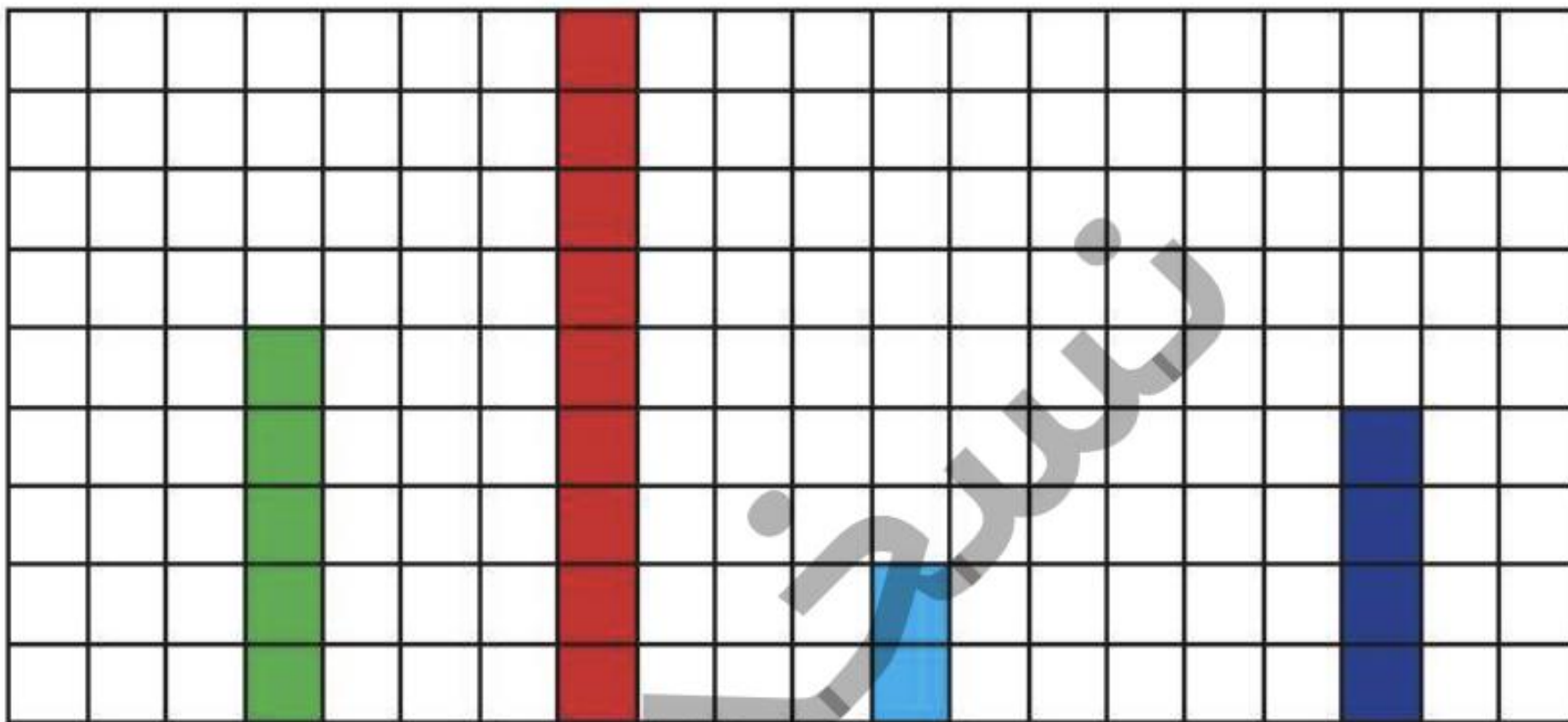
جدول شگفت انگیز را کامل کن.



۳	1	۲	۸	۹	۵	۴	۷	6
۵	۶	9	۱	۴	۷	۳	8	۲
۴	۸	۷	۲	۶	3	۵	۱	۹
9	۵	1	۷	3	۶	2	۴	۸
7	۲	۸	۵	۱	۴	۶	۹	۳
۶	۳	۴	9	۸	۲	۱	۵	۷
۲	۴	۵	۶	۷	۹	۸	3	۱
۱	7	۶	۳	۵	۸	۹	۲	۴
۸	۹	3	۴	۲	1	۷	۶	۵

۷ با توجه به عدد نوشته شده از مربع‌های هر ستون رنگ بزن و عدد ستون‌های رنگ شده را بنویس.

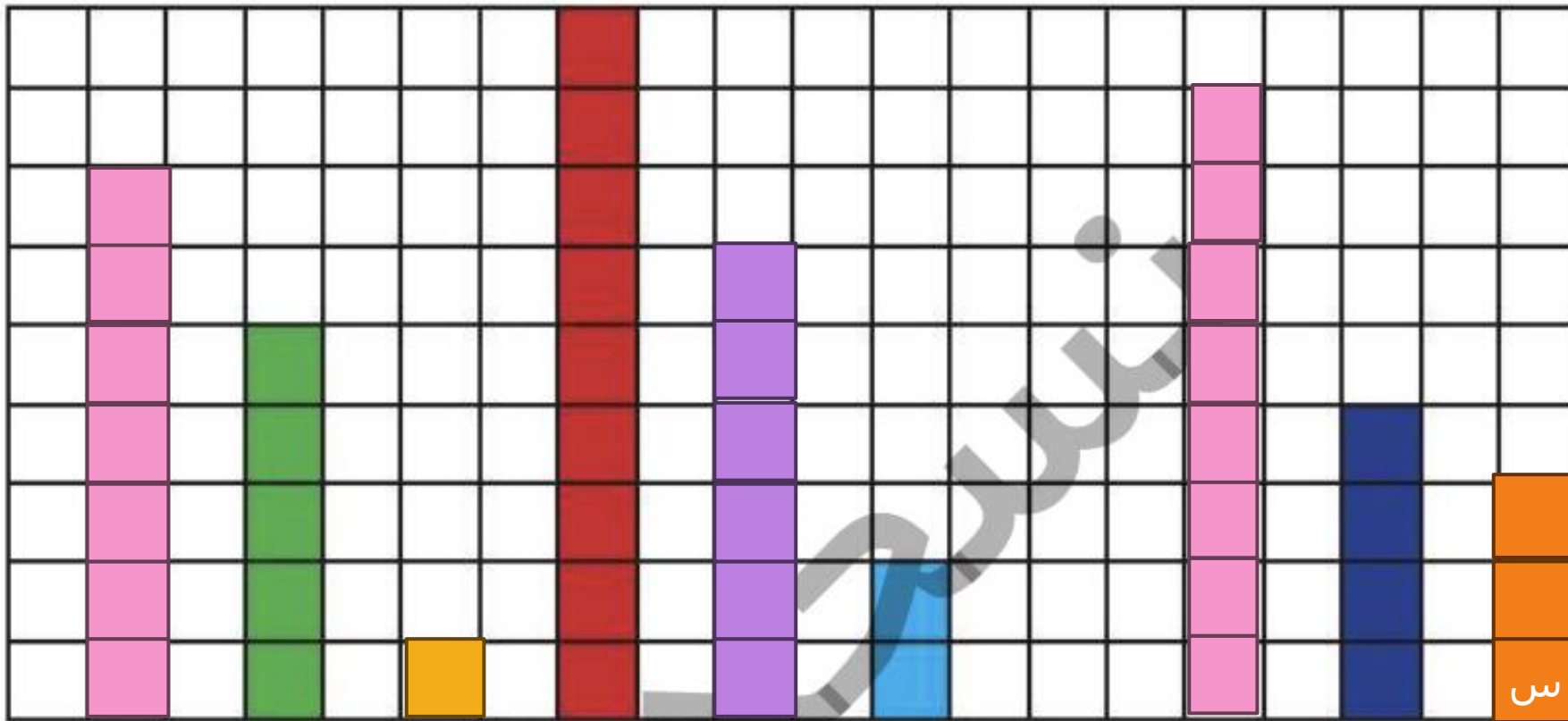
سپس عددهای کنار هم را با هم مقایسه کن و در علامت مناسب ($<$ $=$ $>$) بگذار.



۷ ۱ ۶ ۰ ۸ ۳

۷ با توجه به عدد نوشته شده از مربع‌های هر ستون رنگ بزن و عدد ستون‌های رنگ شده را بنویس.

سپس عددهای کنار هم را با هم مقایسه کن و در \bigcirc علامت مناسب ($<$ $=$ $>$) بگذار.



۷ $>$ 5 $>$ ۱ $<$ 9 $>$ ۶ $>$ 2 $>$ ۰ $<$ ۸ $>$ 4 $>$ ۳

۸ با توجه به عددهای داده شده، در دو طرف علامتها، عددهای مناسب بنویس.

$\dots > \dots$

۲
۶

$\dots < \dots$

۹
۵

$\dots > \dots$

۷
۸

$\dots = \dots$

۸
۸

$\dots < \dots$

۴
۶

$\dots > \dots$

۳
۱

۸ با توجه به عددهای داده شده، در دو طرف علامتها، عددهای مناسب بنویس.

6 > 2

۲
۶

5 < 9

۹
۵

8 > 7

۷
۸

8 = 8

۸
۸

4 < 6

۴
۶

3 > 1

۳
۱
س

همیشه در نگاه خدا
سادو موفقی باشید
خدا نگهدار