

به نام خدا

آشنایی بانماد تفریق

تم 14

آموزگار بهلولی

به تعداد انگشتانی که **دست راست** نشان می دهد از انگشتان دست سمت چپ ببند. تفریق مربوط به شکل ها را بنویس.



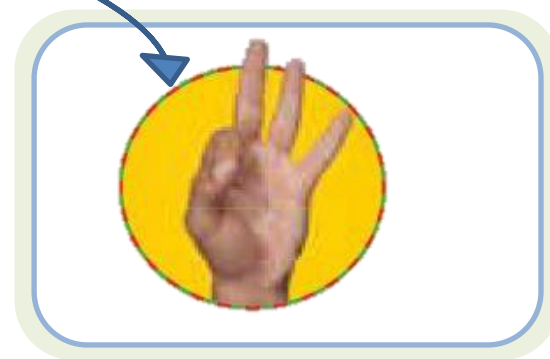
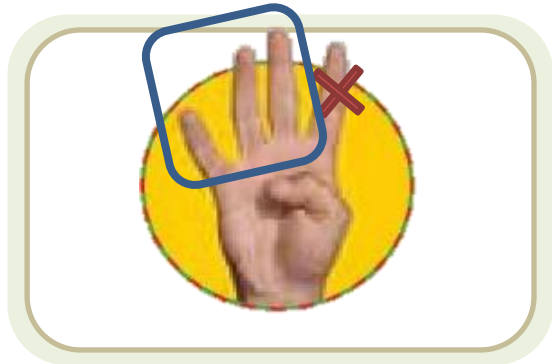
۴

—

۱

=

به تعداد انگشتانی که **دست راست** نشان می دهد از انگشتان دست سمت چپ بکشد. تفریق مربوط به شکل ها را بنویس.



$$۴ - ۱ = ۳$$



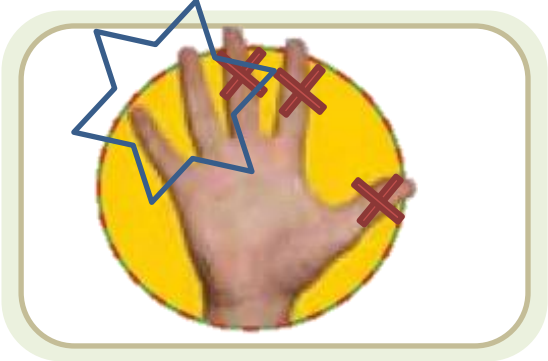
5

-

3

=





$$5 - 3 = 2$$



5

-

3

=

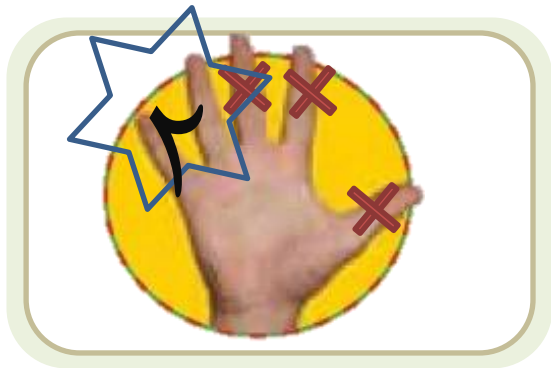


5

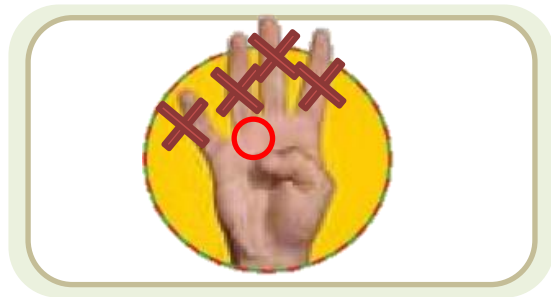
-

5

=




$$۵ - ۳ = ۲$$




$$۴ - ۴ = ۰$$



چندتا بودند؟ چندتا رفتند؟ چندتا ماندند؟ حالا یک عبارت تفریق برای شکل ها بنویس.



-




=





چندتا بودند؟ چندتا رفتند؟ چندتا ماندند؟ حالا یک عبارت تفریق برای شکل ها بنویس.



۵



-

۴

=




۱

چندتا بودند؟ چندتا رفتند؟ ...



-  =

چندتا بودند؟ چندتا رفتند؟ ...



۶



—

۲


=

۴


چندتا بودند؟ چندتا رفتند؟ ...



-



=



-



=



چندتا بودند؟ چندتا رفتند؟ ...





۸

—

۳

=

۵



۷

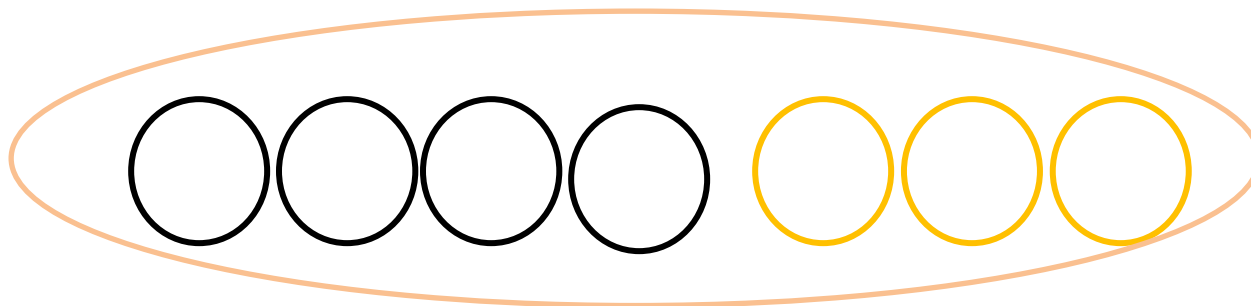
—

۴

=


۳

با کشیدن شکل یا رنگ کردن، جمع کن.



$$\underline{\quad ۴ \quad} + \underline{\quad ۳ \quad} = \underline{\quad ۷ \quad}$$

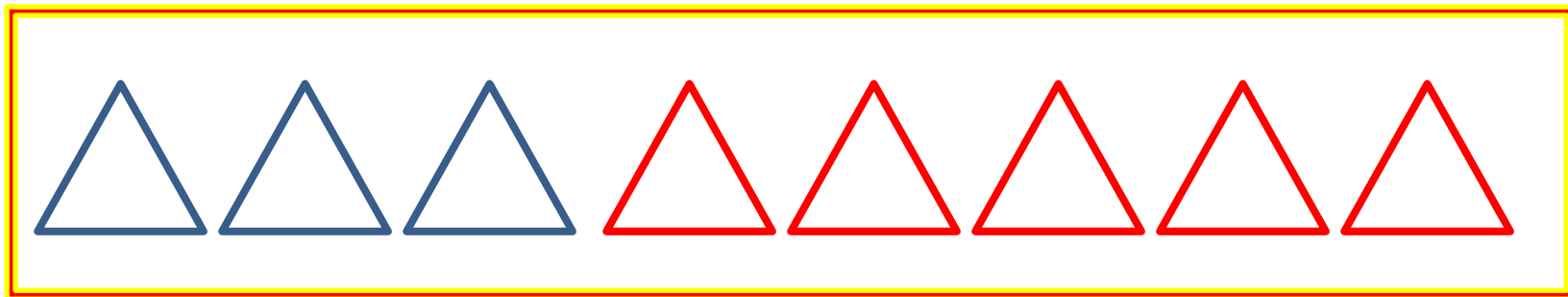
با کشیدن شکل یا رنگ کردن، جمع کن.



$$\underline{\quad ۳ \quad} + \underline{\quad ۵ \quad} = \underline{\quad \quad}$$




با کشیدن شکل یا رنگ کردن، جمع کن.




$$\underline{\quad ۳ \quad} + \underline{\quad ۵ \quad} = \underline{\quad ۸ \quad}$$

با کشیدن شکل یا رنگ کردن، جمع کن.



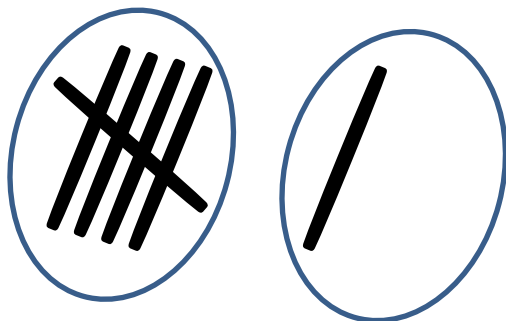
$$\underline{5} + \underline{2} = \underline{\quad}$$

با کشیدن شکل یا رنگ کردن، جمع کن.



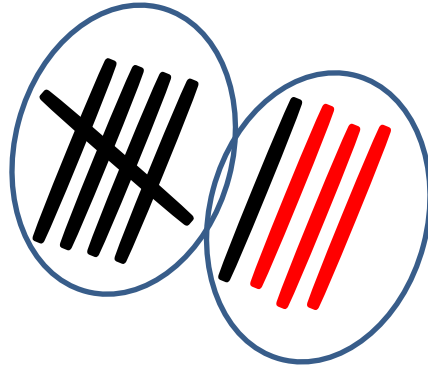
$$5 + 2 = 7$$

با کشیدن چوب خط، جمع کن.

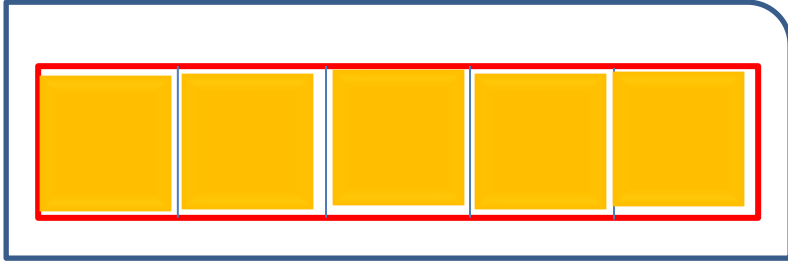


$$\underline{\quad 6 \quad} + \underline{\quad 3 \quad} = \underline{\quad \quad}$$


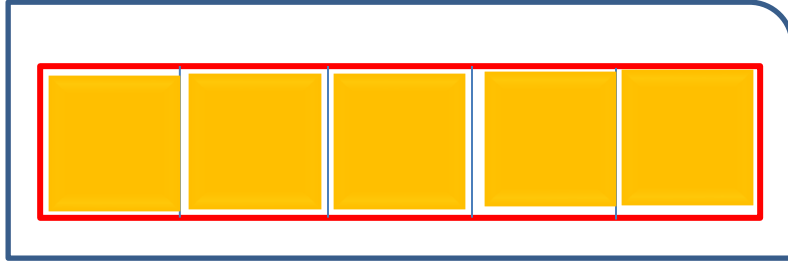
با کشیدن چوب خط، جمع کن.



$$6 + 3 = 9$$

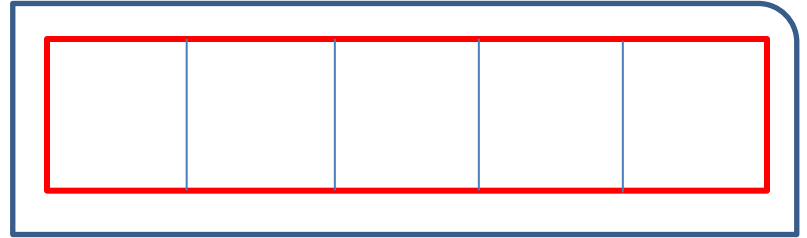



$$\underline{\quad 5 \quad} + \underline{\quad 2 \quad} = \underline{\quad \quad}$$





$$5 + 2 = 7$$





$$\begin{array}{c} \heartsuit \\ \hline \end{array} + \begin{array}{c} \heartsuit \\ \hline \end{array} = \underline{\hspace{2cm}}$$



$$5 + 5 = 10$$



خدا نگهدار تون

