



۱- دانش آموز باهوش با توجه به عبارت داده شده شکل بکش و حاصل را بنویس.

$4 + 6 = \dots\dots\dots$




$5 + 3 = \dots\dots\dots$




۲- دلبندم جمع های داده شده را با ۳ رنگ در شکل داده شده نشان بده و


حاصل را به دست بیاور.



$3 + 2 + 1 = \dots\dots\dots$

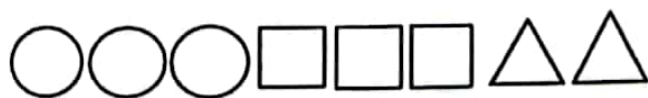


$4 + 3 + 2 = \dots\dots\dots$



$2 + 2 + 5 = \dots\dots\dots$

۳- برای شکل های داده شده عبارت مناسب بنویس.



$\dots\dots\dots + \dots\dots\dots + \dots\dots\dots = \dots\dots\dots$



$\dots\dots\dots + \dots\dots\dots + \dots\dots\dots = \dots\dots\dots$