


به نام خدای پروانه ها

ریاضی تم ۱۵




بشمار و
بنویس

در هر قسمت، دسته‌های ده‌تایی درست کن و در جای خالی، عدد مناسب بنویس.



دسته‌ی ده‌تایی و ۲

یکی ۳




دسته‌ی ده‌تایی و

یکی

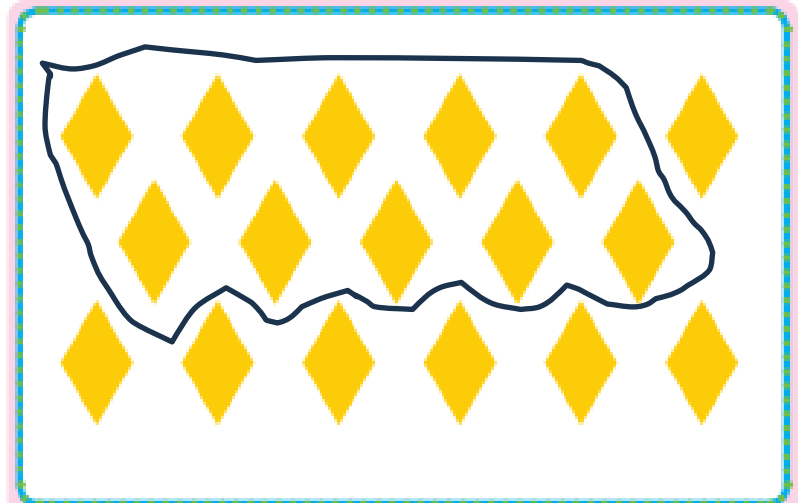
بشمار و
بنویس

در هر قسمت، دسته‌های ده‌تایی درست کن و در جای خالی، عدد مناسب بنویس.



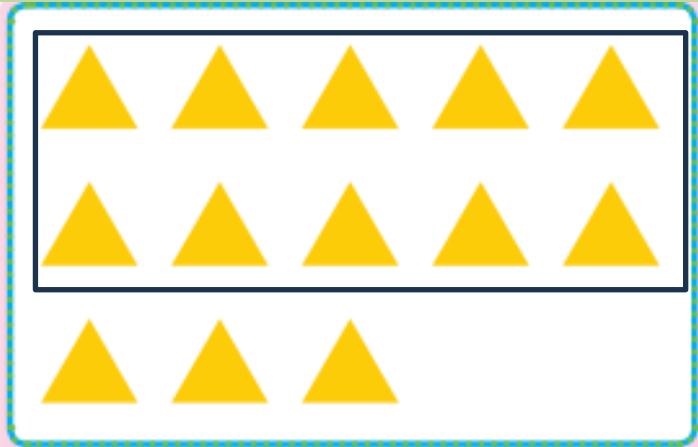
۲ دسته‌ی ده‌تایی و

۳ یکی




۱ دسته‌ی ده‌تایی و

۷ یکی



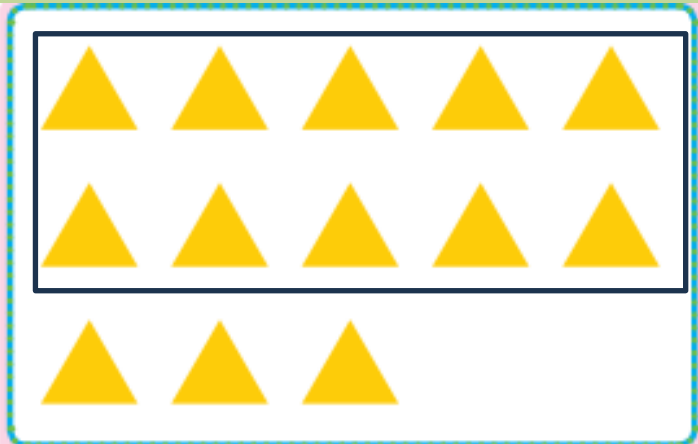
..... ده تایی و ۱ دسته

..... یکی ۳




..... ده تایی و دسته

..... یکی



۱ دسته ده تایی و

۳ یکی



۳ دسته ده تایی و

۱ یکی




دسته‌ی ده تایی و ۲

یکی ۸



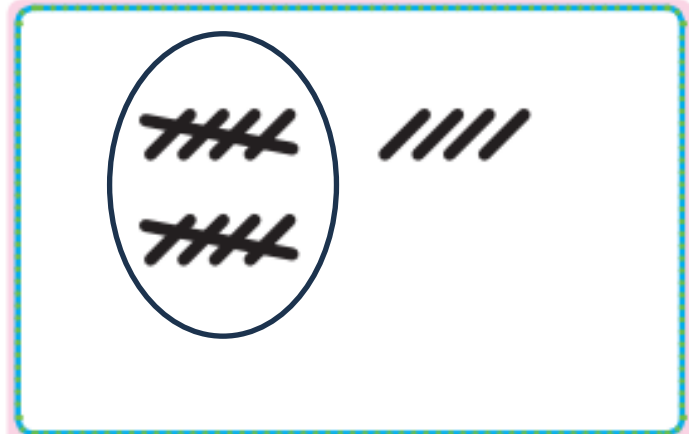
دسته‌ی ده تایی و

یکی



دسته‌ی ده تایی و ۲

یکی ۸



دسته‌ی ده تایی و ۱

یکی ۴



خروج

فهرست

نغمه اسد

آموزگار پایه اول

