
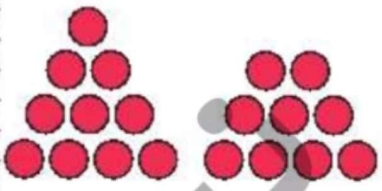
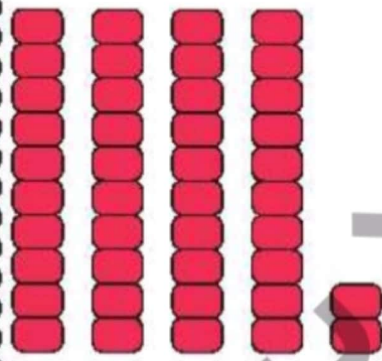



۲ جاهای خالی را با عدد مناسب کامل کن.

 <table border="1" data-bbox="574 436 750 582"> <tr> <td>ده تایی</td> <td>یکی</td> </tr> </table>	ده تایی	یکی	 <table border="1" data-bbox="1197 436 1372 582"> <tr> <td>ده تایی</td> <td>یکی</td> </tr> </table>	ده تایی	یکی
ده تایی	یکی				
ده تایی	یکی				
 <table border="1" data-bbox="574 873 750 1019"> <tr> <td>ده تایی</td> <td>یکی</td> </tr> </table>	ده تایی	یکی	 <table border="1" data-bbox="1197 873 1372 1019"> <tr> <td>ده تایی</td> <td>یکی</td> </tr> </table>	ده تایی	یکی
ده تایی	یکی				
ده تایی	یکی				

۳ جدول شگفت‌انگیز زیر را کامل کن.

۲	۵		۶	۳	۴
	۴	۶	۲	۵	
۱	۲	۵		۶	۳
۴		۳	۵	۱	
۵	۱	۴		۲	۶
۶	۳		۱		۵



- دانش آموز باید بتواند مفهوم دسته‌های ۱۰ تایی و یکی و جدول ارزش مکانی را درک کند.
- دانش آموز باید بتواند جدول شگفت‌انگیز را به درستی انجام دهد.

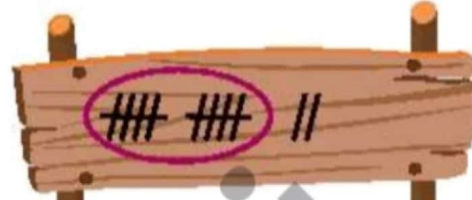

ریاضی اول دبستان




علوی

مانند نمونه دسته‌های ۱۰ تایی درست کن و با چوب‌خط نشان بده و جدول را کامل کن.


۵




ده‌تایی	یکی
۱	۲





ده‌تایی	یکی



ده‌تایی	یکی



ده‌تایی	یکی



ده‌تایی	یکی



ده‌تایی	یکی

دانش‌آموز باید بتواند مفهوم دسته‌ی ۱۰ تایی و یکی و جدول ارزش مکانی را درک کند.

