

موضوع:

تاریخ:

نام و نام خانوادگی:

هدف:



۱۱- این مدار اندازه ی چند پینه است؟

۵ -۴

۷ -۳

۴ -۲

۸ -۱



۱۲- اگر به این گل ها ۴ گل دیگر اضافه کنیم چند گل می شود؟

۹ -۴

۸ -۳

۷ -۲

۶ -۱

طراح : جانی پر

۱۳- کدام گزینه درست است؟

$۴+۴=۹$  -۴

$۳+۵=۷$  -۳

$۲+۶=۸$  -۲

$۴+۳=۶$  -۱



۱۴- اگر از این سیب ها ۳ تا فورده شود چند سیب باقی می ماند؟

۲ سیب -۴

۳ سیب -۳

۴ سیب -۲

۵ سیب -۱

۱۵- برای کدام شکل نمی توان قط تقارن کشید؟



-۴



-۳



-۲



-۱

۱۶- جواب کدام جمع ۱۰ می شود؟

$۴+۴$  -۴

$۳+۶$  -۳

$۳+۷$  -۲

$۵+۴$  -۱

بازخورد:

Blank space for feedback.



علوی

بنام خداوند جان و خرد


پایه:


موضوع:

تاریخ:


نام و نام خانوادگی:

هدف:

۱۷- نام این علامت چیست؟  طراح: جانی پور  
۱- کم تر      ۲- بیش تر      ۳- مساوی      ۴- کم

۱۸- کدام گزینه مناسب این شکل است؟   
۱-  $6+4$       ۲-  $6-2$       ۳-  $2+4$       ۴-  $6-4$

۱۹- در طرف دیگر علامت چه عددی می توان نوشت؟   
۱- ۸      ۲- ۷      ۳- ۹      ۴- ۱۰

۲۰- شکل روبرو چه عددی را نشان می دهد؟   
۱- ۷      ۲- ۸      ۳- ۶      ۴- ۹

دختر دانشمندم جواب تمارین

ریاضی را داخل دفتر مشق خود بنویس.

بازخورد:

\_\_\_\_\_

\_\_\_\_\_

\_\_\_\_\_

