
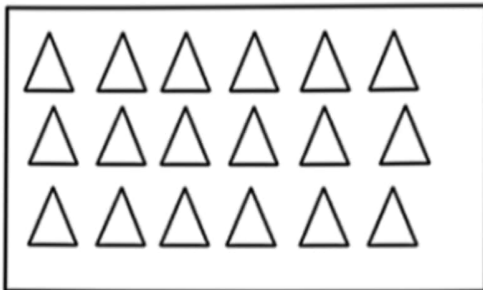


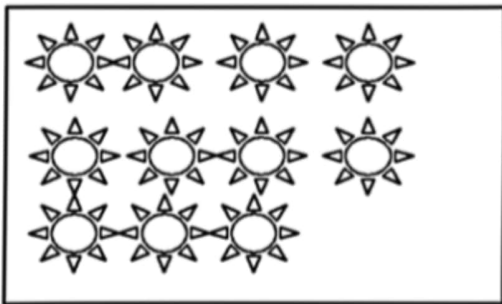
تعداد شکل های هر دسته را با چوب خط نشان بده، دسته های ده تایی درست کن، جدول را کامل کن و عدد مربوط به هر دسته را بنویس.





ده تایی	یکی



ده تایی	یکی



ده تایی	یکی



ده تایی	یکی
