









۱- تعداد شکل های هر دسته را بنویس و از علامت مناسب استفاده کن.

			
..... □ □ □ □




۲- پاسخ عبارت ها را بنویس سپس کلاه هایی که جوابشان ۶ می شود را قرمز و کلاه هایی که جوابشان ۸ می شود را آبی کن.

			
$5+1 = \dots$	$6+2 = \dots$	$4+2 = \dots$	$5+3 = \dots$

۳- نیمه ی دیگر شکل را کامل کن.



۴- با توجه به شکل ها عبارت تفریق را کامل کن.

					
..... -	= -	= -	=

بازخورد:

.....

.....

.....





۵- الگوی روبرو با کدام شکل کامل می شود؟

- ۱- ۲- ۳- ۴-



۶- هوب فط مربوط به شکل روبرو کدام است؟

- ۱- ۲- ۳- ۴-

طراح: جانی پر



۷- اعداد قبل و بعد این عدد کدام است؟

- ۱- ۲- ۳- ۴-



۸- نیمه ی دیگر این شکل کدام است؟

- ۱- ۲- ۳- ۴-

۹- کدام اعداد به ترتیب نوشته شده؟

- ۱- ۲- ۳- ۴-

۱۰- کدام گزینه درست است؟

- ۱- ۲- ۳- ۴-

بازخورد:

