



نام و نام خانوادگی

تاریخ

موضوع:

شکل زیر را به دسته‌های ۱۰ تایی تقسیم کن و با چوب‌خط و عدد نشان بده و در جدول بنویس.

نمایش با چوب‌خط

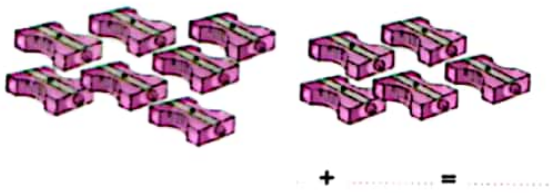
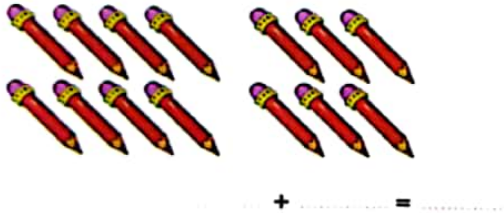
ده تایی	یکی

به عدد:

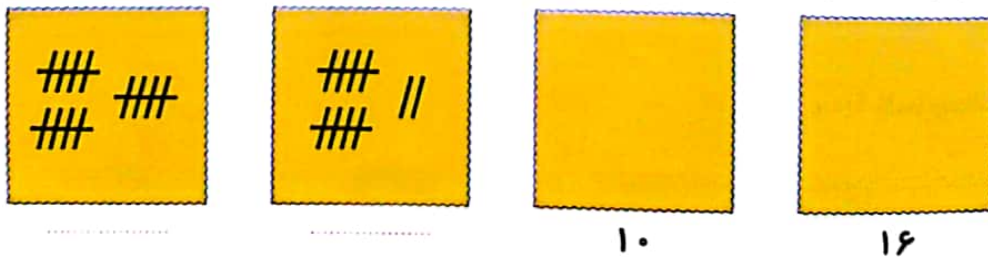
جاهای خالی را با عددهای مناسب پر کن.

۱۱ - - ۱۵ - - ۱۹

برای شکل‌های زیر عبارت جمع بنویس و حاصل آن را حساب کن.



برای هر عدد چوب‌خط بکش برای چوب‌خط‌های کشیده شده عدد مناسب بنویس.



داد؟ اندازه‌ی شکل‌های زیر را بنویس.



اندازه‌ی مداد از کوتاه‌تر است.



اندازه‌ی خط‌کش از کوتاه‌تر است.



اندازه‌ی از خط‌کش بلندتر است.