

دو دسته روی هم چند شکل دارند؟ مانند نمونه با رسم چوب خط حساب کن.



$$9 + 5 = 14$$




$$+ =$$



$$+ =$$





$$+ =$$



$$+ =$$



$$+ =$$



$$+ =$$



$$+ =$$

با خطکش هر عدد را به شکل مربوط به خودش وصل کن.



۱۰



۱۱



۱۲



۱۳



۱۴



۱۵

۱۶

۱۷

۱۸

۱۹

موفق و

پیروز باشید

