

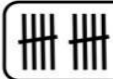

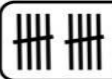



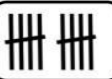

پایه ی اول  
به نام خدای خوب

تکلیف ریاضی تم ۱۶

نام زیبای من: .....

تاریخ: .....


۱- باتوجه به عدد داخل جدول چوب خط ها را کامل کن.

							
ده تایی	یکی	ده تایی	یکی	ده تایی	یکی	ده تایی	یکی
۱	۴	۱	۹	۱	۵	۱	۷




۲- جواب جمع و تفریق های زیر را بنویس.




$6 + 1 =$	$8 + 2 =$	$2 + 7 =$	$8 - 2 =$	$5 - 4 =$	$8 - 3 =$
$5 + 5 =$	$3 + 5 =$	$4 + 6 =$	$4 - 4 =$	$5 - 1 =$	$5 - 0 =$
$3 + 3 =$	$4 + 4 =$	$2 + 2 =$	$2 - 1 =$	$7 - 6 =$	$9 - 6 =$
$1 + 7 =$	$4 + 3 =$	$4 + 2 =$	$9 - 5 =$	$10 - 6 =$	$4 - 0 =$
$6 + 0 =$	$9 + 1 =$	$6 + 2 =$	$6 - 3 =$	$6 - 4 =$	$9 - 1 =$

۳- اعداد ۹ تا ۲۰ را به ترتیب بنویس.

۹ 

۴- جمع های زیر را روی شکل نشان بده. (از ۲ رنگ استفاده کن.)

$9 + 6 =$  ----   

$8 + 5 =$  ----   





موضوع:

تاریخ:

نام و نام خانوادگی:

هدف:

۵- عدد های زیر را با چوب خط نشان بده.

۱۵      ۱۶      ۱۲      ۱۹      ۱۸      ۱۱

تامی شوکتا

۶- عددهای روی ساعت را بنویس.

۷- مانند نمونه حاصل جمع های زیر را با کمک ۲ رنگ چوب خط به دست بیاور. سپس آن را در جدول بگذار.

$۸ + ۶ =$ ----		<table border="1"> <tr> <td>ده تایی</td> <td>یکی</td> </tr> <tr> <td>۱</td> <td>۴</td> </tr> </table>	ده تایی	یکی	۱	۴	۱۴
ده تایی	یکی						
۱	۴						
$۹ + ۷ =$ ----		<table border="1"> <tr> <td>ده تایی</td> <td>یکی</td> </tr> <tr> <td></td> <td></td> </tr> </table>	ده تایی	یکی			----
ده تایی	یکی						
$۷ + ۵ =$ ----		<table border="1"> <tr> <td>ده تایی</td> <td>یکی</td> </tr> <tr> <td></td> <td></td> </tr> </table>	ده تایی	یکی			----
ده تایی	یکی						
$۸ + ۸ =$ ----		<table border="1"> <tr> <td>ده تایی</td> <td>یکی</td> </tr> <tr> <td></td> <td></td> </tr> </table>	ده تایی	یکی			----
ده تایی	یکی						

باز خورد آموزگار

خود سنجی

