

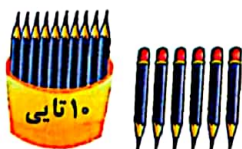



موضوع:

تاریخ:

نام و نام خانوادگی:

هر شکل چه عددی را نشان می‌دهد؟ بنویس.



جواب این دو دسته را با هم مقایسه کن و دور علامت مناسب خط بکش.



..... =

..... =



..... =

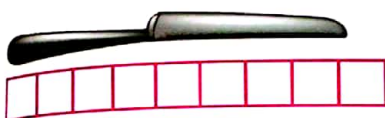
..... =



..... =

..... =

۵. اندازه‌ی چاقو از کوتاه‌تر است.



اندازه‌ی قاشق از کوتاه‌تر است.

