

19 1A 1V 19 10 1F 1P 11 10

19 1A 1V 19 10 1F 1P 11 10

9 1 V 9 0 F P 1 0 ✓

$$1 + V = 10 \quad \checkmark$$

$$1P + 1 = 10 \quad \checkmark$$

$$19 + 9 = 10 \quad \checkmark$$

$$10 + 1 = 11 \quad \checkmark$$

$$11 + 0 = 19 \quad \checkmark$$

$$1F + 1 = 1P \quad \checkmark$$

$$1P + 1 = 10 \quad \checkmark$$

$$1A + 9 = 1V \quad \checkmark$$

$$9 + 9 = 10 \quad \checkmark$$



۲۹ ۳۰ ۳۱ ۳۲ ۳۳ ۳۴ ۳۵ ۳۶

۳۷ ۳۸ ۳۹ ۴۰ ۴۱ ۴۲ ۴۳

۴۴ ۴۵ ۴۶ ۴۷ ۴۸ ۴۹ ✓

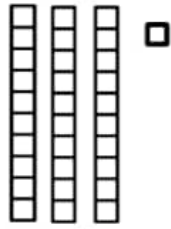
کشفیات



رنگ آمیزی کن



سی



یکی ده تایی

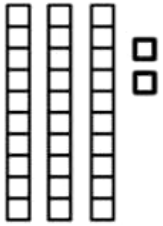


سی و یک

به نام خدا

تاریخ اعداد

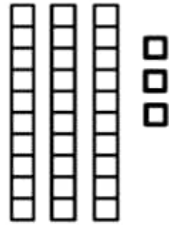
نام و نام خانوادگی:
با توجه به دسته های ده تایی و یکی ها
جدول را کامل کن و سپس عدد
مربوطه را بنویس و آن را بخوان.



یکی ده تایی



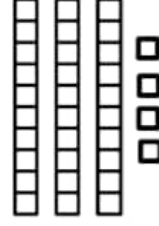
سی و دو



یکی ده تایی




سی و سه



یکی ده تایی



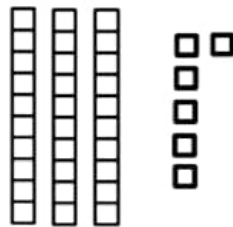
سی و چهار



یکی ده تایی



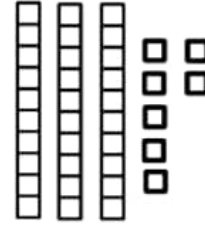
سی و پنج



یکی ده تایی



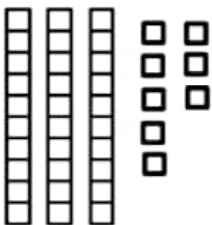
سی و شش



یکی ده تایی



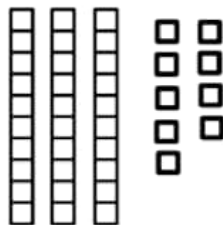
سی و هفت



یکی ده تایی



سی و هشت



یکی ده تایی



سی و نه

حالا اعداد بالا را به ترتیب در خانه های
زیر بنویس.

| | | | |
|----|--|--|--|
| ۳۰ | | | |
| | | | |
| | | | |