

پایه هر قسمت را بنویس و مقایسه کن و علامت مناسبه کمتر ، بیشتر را انتخاب کن.

کامل کن



$10 - 3 = 7$



$2 + 4 + 5 = 11$



$+ =$



$- =$



$+ + =$



$+ =$



$- =$



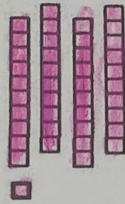
$+ =$



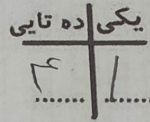
رنگ آمیزی کن



چهل



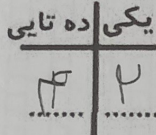
چهل و یک



۴۱


به نام خدا  
تاریخ اعداد

نام و نام خانوادگی: .....  
با توجه به دسته های ده تایی و یکی ها  
جدول را کامل کن و سپس عدد  
مربوطه را بنویس و آن را بخوان.

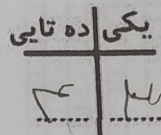


چهل و دو


۴۲



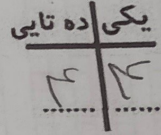
چهل و سه



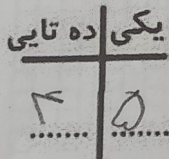
۴۳



چهل و چهار




۴۴

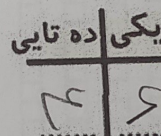


چهل و پنج

۴۵



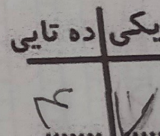
چهل و شش



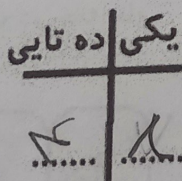
۴۶



چهل و هفت




۴۷

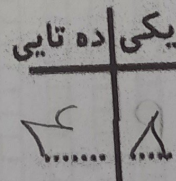


چهل و هشت

۴۸



چهل و نه



۴۹

حالا اعداد بالا را به ترتیب در خانه های  
زیر بنویس.

۴۰	۴۱	۴۲	۴۳
۴۴	۴۵	۴۶	۴۷
۴۸	۴۹		

تاریخ کار  
بابا آب داد.



ده ناهنگی      یگی  
۵۰      ۵۰۰  
۵      ۹



۱۶۹





۵۰ | ۵۰  
ده مائده | یکی

۱۰

۱

۱۰

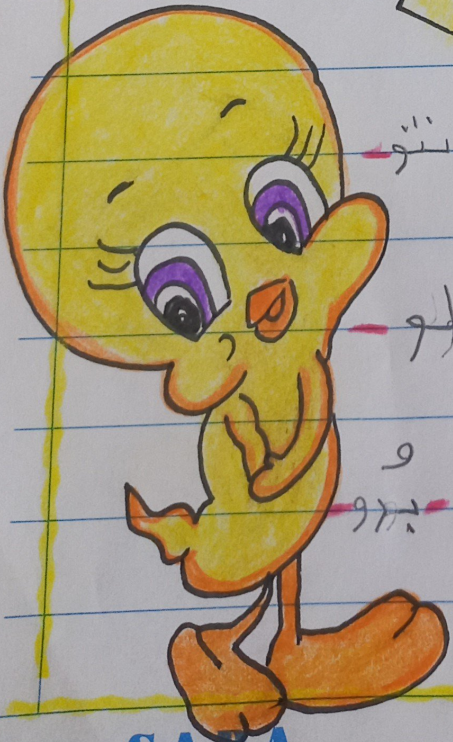

چهل و یک





Subject: "تمرین"

Year: ۱۴۰۲ Month: ۱۱ Day: ۷



۱۲ به به عالمه  
 ۱۳ تابانندگی  
 ۱۴ می نورزد - نویسه نوروز - کادو مانتو  
 ۱۵  
 ۱۶ سویا - تکیواندرو - نور - فوری - یلو  
 ۱۷  
 ۱۸ نوش مژه - نورانی - دوباره - پرو - پرو  
 ۱۹