

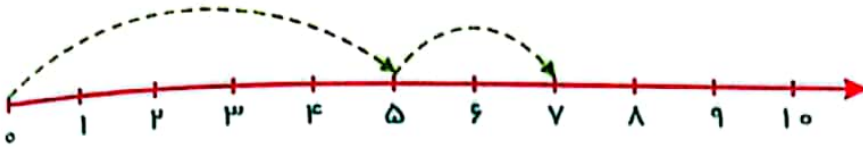


موضوع:

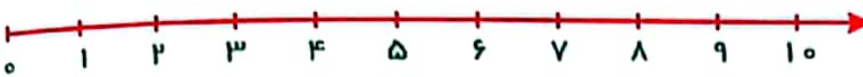
تاریخ:

نام و نام خانوادگی:

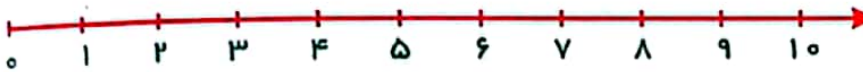
جمع‌ها را روی محور نشان بده و حاصل جمع را بنویس.



$5 + 2 =$



$3 + 3 =$

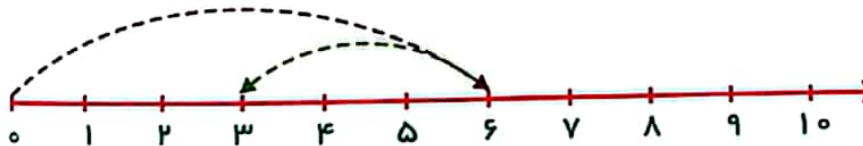


$4 + 3 =$

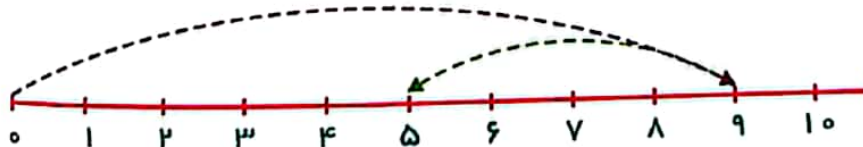


$3 + 1 + 4 =$

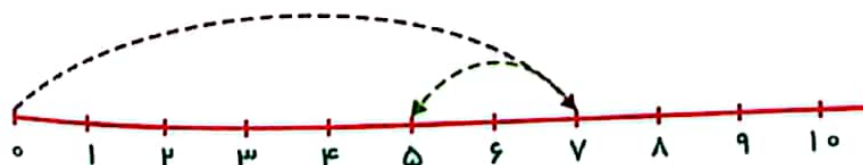
با کمک محور، حاصل تفریق را بنویس و نقطه چین‌ها را کامل کن.



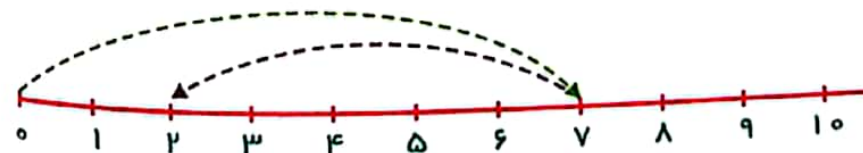
$6 - 3 =$



$9 - 4 =$



$7 - 2 =$



$7 - 5 =$