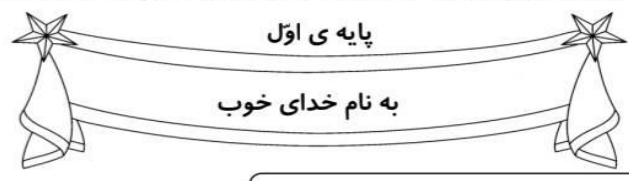




نام و نام خانوادگی: _____ تاریخ: _____ موضوع: _____ هدف: _____



نام زیبایی من: _____ تاریخ: _____


۱- ابتدا با چوب خط حاصل جمع هر شکل را پیدا کن. سپس جمع مربوط به آن را بنویس.

_____ + _____ = _____	_____ + _____ = _____
_____ + _____ = _____	_____ + _____ = _____
_____ + _____ + _____ + _____ = _____	_____ + _____ + _____ + _____ = _____

_____ + _____ + _____ = _____

۲- جمع و تفریق های زیر را روی محور نشان بده، سپس جواب آن ها را بنویس.

	$9 + 7 = \text{-----}$
	$3 + 7 + 5 = \text{-----}$
	$10 - 7 = \text{-----}$
	$9 - 3 = \text{-----}$



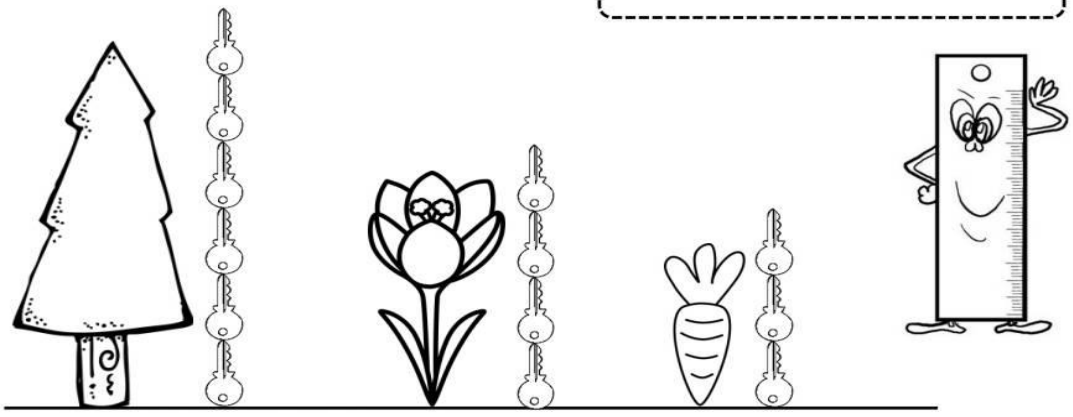


نام و نام خانوادگی: _____ تاریخ: _____ موضوع: _____ هدف: _____

۳- حاصل جمع های زیر را با چوب خط حساب کن و بعد علامت کمتری و بیشتری یا مساوی بگذار.

$۲ + ۱ + ۴ =$ 	$۱ + ۳ + ۳ =$	$۴ + ۲ + ۲ =$	$۳ + ۳ + ۲ =$
$۰ + ۲ + ۳ =$	$۲ + ۰ + ۱ =$	$۳ + ۶ + ۱ =$ 	$۲ + ۳ + ۵ =$

۴- جمله ها را با نوشتن عدد مناسب کامل کن.




بلندی درخت بین تا است.
 بلندی گل بین تا است.
 بلندی هویج بین تا است.

۵- به نشانه های نقطه دار کلمات زیر دقت کن و برای هر کدام یک جمع بنویس.

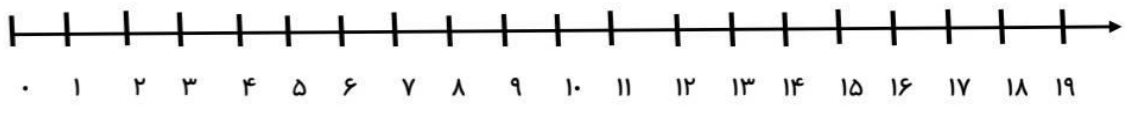
گنجشک	نشستند
_____	_____

باز خورد آموزگار



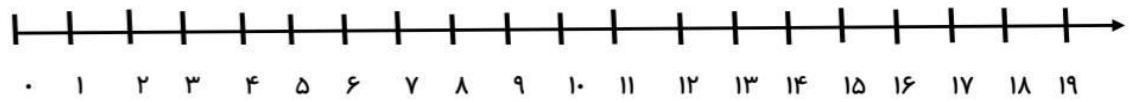


نام و نام خانوادگی: _____
تاریخ: _____
موضوع: _____
هدف: _____



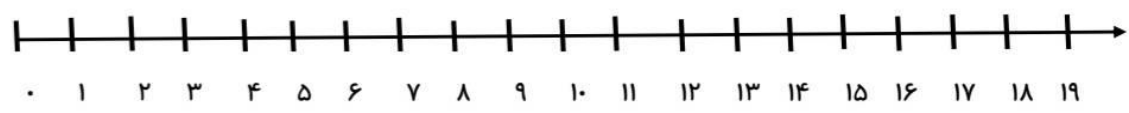
• ۱ ۲ ۳ ۴ ۵ ۶ ۷ ۸ ۹ ۱۰ ۱۱ ۱۲ ۱۳ ۱۴ ۱۵ ۱۶ ۱۷ ۱۸ ۱۹

$11 - 5 = \dots\dots\dots$



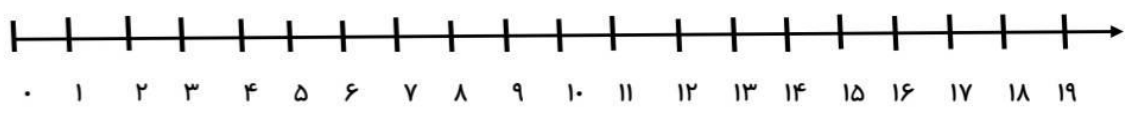
• ۱ ۲ ۳ ۴ ۵ ۶ ۷ ۸ ۹ ۱۰ ۱۱ ۱۲ ۱۳ ۱۴ ۱۵ ۱۶ ۱۷ ۱۸ ۱۹

$9 - 7 = \dots\dots\dots$



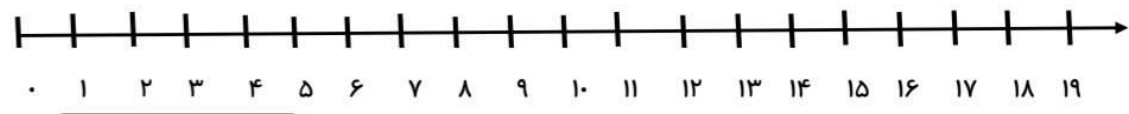
• ۱ ۲ ۳ ۴ ۵ ۶ ۷ ۸ ۹ ۱۰ ۱۱ ۱۲ ۱۳ ۱۴ ۱۵ ۱۶ ۱۷ ۱۸ ۱۹

$12 - 6 = \dots\dots\dots$



• ۱ ۲ ۳ ۴ ۵ ۶ ۷ ۸ ۹ ۱۰ ۱۱ ۱۲ ۱۳ ۱۴ ۱۵ ۱۶ ۱۷ ۱۸ ۱۹

$14 - 9 = \dots\dots\dots$



• ۱ ۲ ۳ ۴ ۵ ۶ ۷ ۸ ۹ ۱۰ ۱۱ ۱۲ ۱۳ ۱۴ ۱۵ ۱۶ ۱۷ ۱۸ ۱۹

$9 - 4 = \dots\dots\dots$





نام و نام خانوادگی: _____
تاریخ: _____
موضوع: _____
هدف: _____

Number line from 1 to 19 with tick marks. Below the line is a box containing the equation $9 + 5 = \dots$.

Number line from 1 to 19 with tick marks. Below the line is a box containing the equation $6 + 7 = \dots$.

Number line from 1 to 19 with tick marks. Below the line is a box containing the equation $8 + 3 = \dots$.

Number line from 1 to 19 with tick marks. Below the line is a box containing the equation $4 + 5 = \dots$.

Number line from 1 to 19 with tick marks. Below the line is a box containing the equation $9 + 1 = \dots$.

