
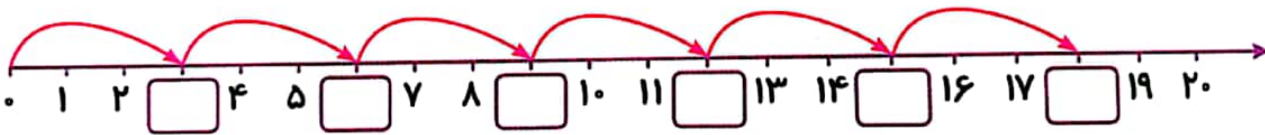
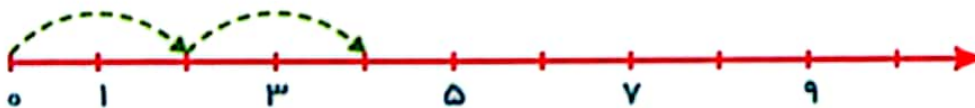


* بگو محور روی چه اعدادی ایستاده است؟ عددها را به ترتیب از چپ به راست در جاهای خالی بنویس.



* محور را کامل کن و در جاهای خالی عدد مناسب بنویس.

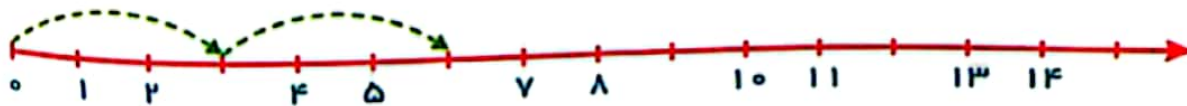


$$\begin{array}{r} 2 \\ - \\ 4 \\ \hline +2 \end{array} \quad \begin{array}{r} 4 \\ - \\ 6 \\ \hline +2 \end{array}$$

* مانند نمونه، ۳ تا ۳ تا بشمار و رنگ بزن.

۱	۲	۳	۴	۵	۶	۷	۸	۹
۱۰	۱۱	۱۲	۱۳	۱۴	۱۵	۱۶	۱۷	۱۸

* محور را کامل کن و در جاهای خالی عدد مناسب بنویس.



$$\begin{array}{r} 3 \\ - \\ 6 \\ \hline +3 \end{array} \quad \begin{array}{r} 6 \\ - \\ 9 \\ \hline +3 \end{array}$$