



موضوع:

تاریخ:

نام و نام خانوادگی:

هدف:


103% ریاضی

نام زیبای من :

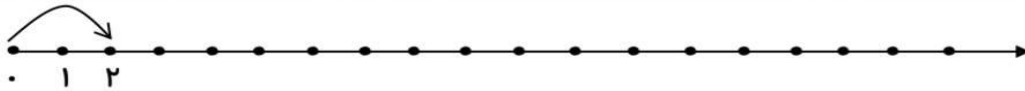
تاریخ :

به نام فدای مهربان

در جای خالی عدد مناسب بنویس.



ابتدا عددهای روی محور را ادامه بده. سپس با کمک محور جاهای خالی را پر کن.



حاصل جمع ها را با کشیدن چوب خط پیدا کن. (از دو رنگ استفاده کن)

$7 + 8 = \dots\dots\dots$		$9 + 4 = \dots\dots\dots$	
$9 + 8 = \dots\dots\dots$		$11 + 5 = \dots\dots\dots$	
$8 + 5 = \dots\dots\dots$		$12 + 6 = \dots\dots\dots$	

در جای خالی عدد مناسب بنویس.

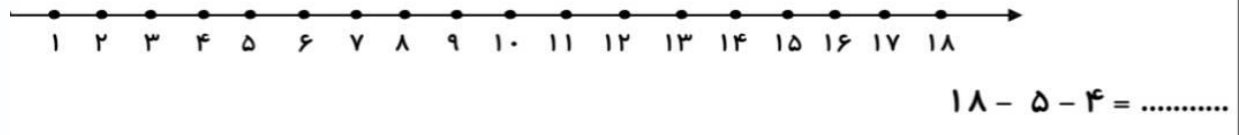
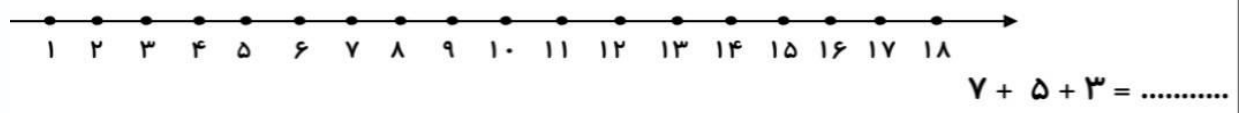
$10 + 1 = \dots\dots\dots$	$10 + 2 = \dots\dots\dots$	$10 + 3 = \dots\dots\dots$	$10 + 4 = \dots\dots\dots$	
$10 + 5 = \dots\dots\dots$	$10 + 6 = \dots\dots\dots$	$10 + 7 = \dots\dots\dots$	$10 + 8 = \dots\dots\dots$	$10 + 9 = \dots\dots\dots$





نام و نام خانوادگی: _____ تاریخ: _____ موضوع: _____ هدف: _____

۵ جمع و تفریق زیر را روی محور نشان بده، سپس جواب آن ها را بنویس.



۶ سه جمع بنویس که حاصل آن ها، سه واحد بیشتر از عدد ۹ باشد.



۷ حساب کن اگر این قورباغه ۳ تا ۳ تا از روی سنگ ها بپرد تا به سنگ ۱۲ برسد، چند بار پریده است؟



تعداد پرش های قورباغه:

۸ پروانه را طوری رنگ بزن که دو نیمه ی آن مثل هم باشد.

