


علوی

بنام خداوند جان و خرد

پایه:



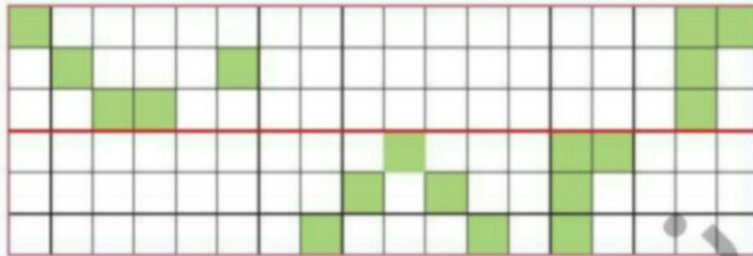
موضوع:

تاریخ:


نام و نام خانوادگی:

هدف:

۷ شکل را طوری کامل کن که دو نیمه‌ی آن مثل هم باشد.



۸ در جاهای خالی عدد مناسب بنویس و آن را با شکل نشان بده.



۴ دسته‌ی ده‌تایی و ۶ یکی می‌شود.....

۱ دسته‌ی ده‌تایی و ۹ یکی می‌شود.....

بازخورد:

