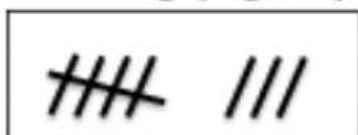
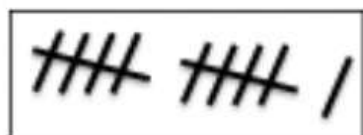
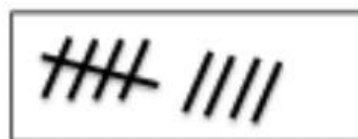
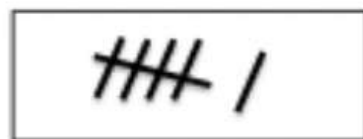


۲- حاصل جمع ها را با چوب خط پیدا کن و عبارت جمع بنویس.



..... + =



..... + =

۳- عددهای محور را بنویس، سپس دوتا دوتا جلو برو.



$10 + 10 + 10 = \text{_____}$

$10 - 5 = \text{_____}$

$5 + 5 + 5 = \text{_____}$

$10 + 10 = \text{_____}$

$10 + 5 - 5 = \text{_____}$

$5 - 5 = \text{_____}$

نوشتن اعداد به حروف

اعداد زیر ۱۰

پنج	←	۵	صفر	←	۰
شش	←	۶	یک	←	۱
هفت	←	۷	دو	←	۲
هشت	←	۸	سه	←	۳
نه	←	۹	چهار	←	۴

پانزده	←	۱۵	ده	←	۱۰
شانزده	←	۱۶	یازده	←	۱۱
هفده	←	۱۷	دوازده	←	۱۲
هجده	←	۱۸	سیزده	←	۱۳
نوزده	←	۱۹	چهارده	←	۱۴