


به نام خدا

زنگ ریاضی



۱- جاهای خالی را با اعداد مناسب کامل کن.

$$۵۵ - ۶۰ \text{ -----}$$



+ ۵

$$۱۰ - ۲۰ - ۳۰ \text{ -----}$$



+ ۱۰

$$۱۶ - ۲۶ - ۳۶ \text{ -----}$$



+ ۱۰

۱- جاهای خالی را با اعداد مناسب کامل کن.

۵۵ - ۶۰ - ۶۵ - ۷۰ - ۷۵ - ۸۰ - ۸۵ - ۹۰ - ۹۵

+ ۵

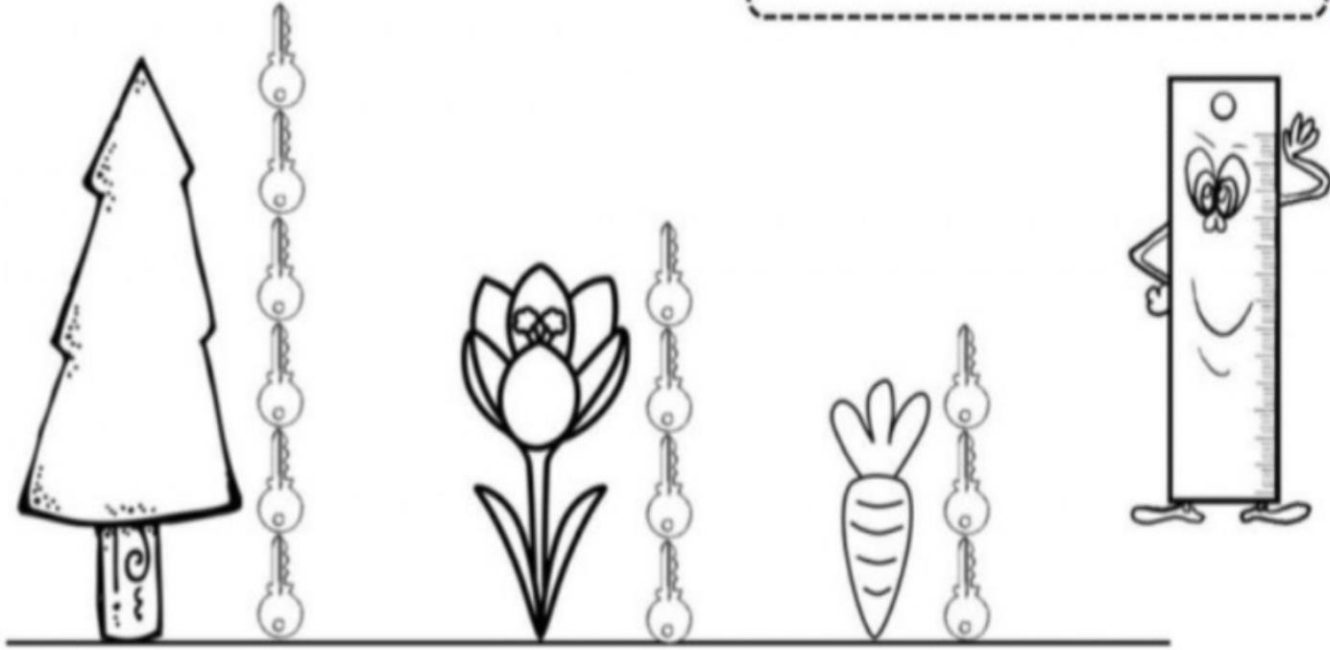
۱۰ - ۲۰ - ۳۰ - ۴۰ - ۵۰ - ۶۰ - ۷۰ - ۸۰ - ۹۰ - ۱۰۰

+ ۱۰

۱۶ - ۲۶ - ۳۶ - ۴۶ - ۵۶ - ۶۶ - ۷۶ - ۸۶ - ۹۶ -

+ ۱۰

۳- جمله ها را با نوشتن عدد مناسب کامل کن.

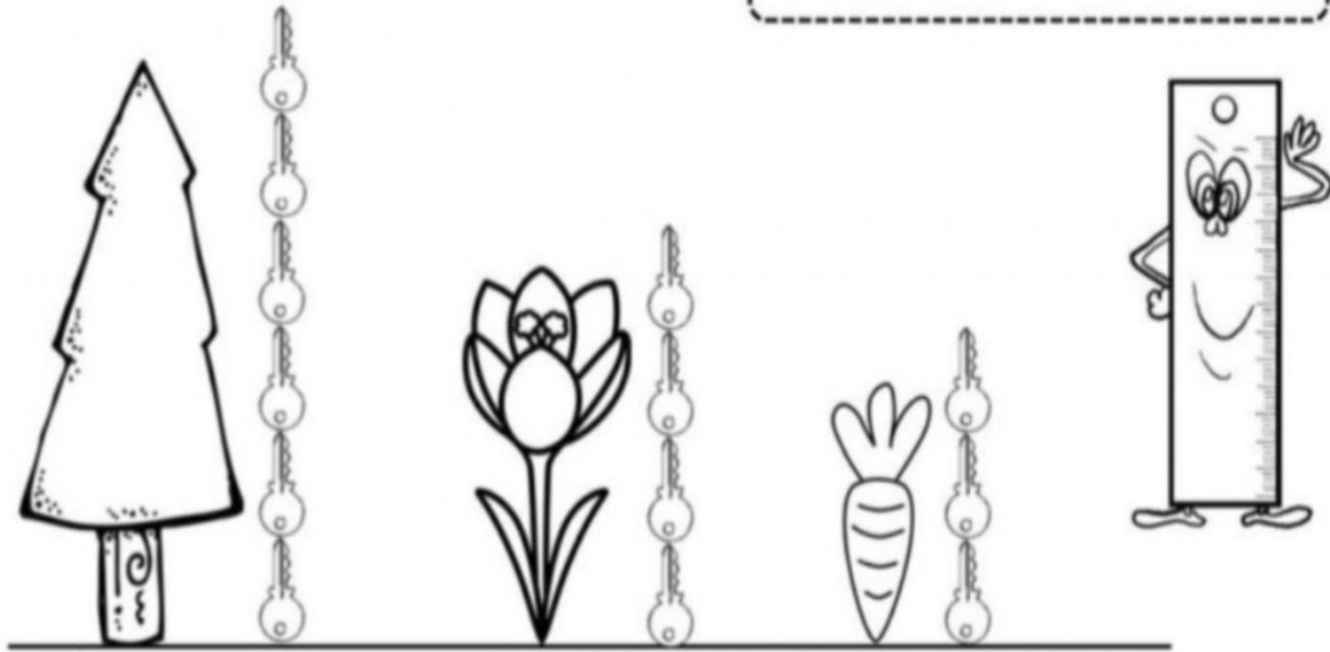


بلندی درخت بین تا است.

بلندی گل بین تا است.

بلندی هویج بین تا است.

۲- جمله ها را با نوشتن عدد مناسب کامل کن.



بلندی درخت بین 5 تا 6 است.

بلندی گل بین 3 تا 4 است.

بلندی هویج بین 2 تا 3 است.

۳- جواب جمع و تفریق های زیر را به دست بیاور.

$$۴۰ + ۲۰ = \text{-----}$$

$$۱۰ + ۵ + ۵۰ = \text{-----}$$

$$۷۰ - ۱۰ = \text{-----}$$

$$۲۰ - ۲۰ = \text{-----}$$

$$۵ + ۵ + ۲۰ = \text{-----}$$

$$۶۰ - ۱۰ = \text{-----}$$

$$۲۰ + ۲۰ + ۵ + ۵ = \text{-----}$$

$$۵۰ - ۲۰ = \text{-----}$$

$$۵ + ۵ + ۳ + ۲ + ۴ + ۱ + ۳۰ = \text{-----}$$

$$۶۰ - ۵۰ = \text{-----}$$



۳- جواب جمع و تفریق های زیر را به دست بیاور.

$$۴۰ + ۲۰ = 60$$

$$۱۰ + ۵ + ۵۰ = 65$$

$$۷۰ - ۱۰ = 60$$

$$۲۰ - ۲۰ = 0$$

$$۵ + ۵ + ۲۰ = 30$$

$$۶۰ - ۱۰ = 50$$

$$۲۰ + ۲۰ + ۵ + ۵ = 50$$

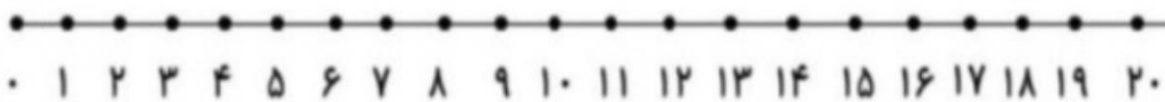
$$۵۰ - ۲۰ = 30$$

$$۵ + ۵ + ۳ + ۲ + ۴ + ۱ + ۳۰ = 50$$

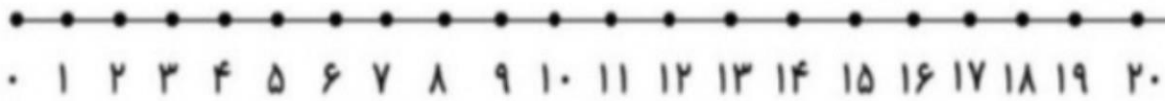
$$۶۰ - ۵۰ = 10$$



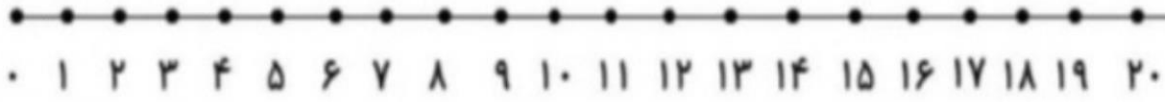
۵- جمع و تفریق های زیر را روی محور نشان بده، سپس جواب آن ها را بنویس.



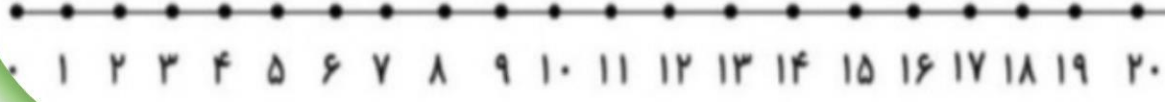
$$6 + 5 + 4 = \text{-----}$$



$$5 + 7 + 4 = \text{-----}$$



$$17 - 6 = \text{-----}$$



$$15 - 9 = \text{-----}$$

۵- جمع و تفریق های زیر را روی محور نشان بده، سپس جواب آن ها را بنویس.

