
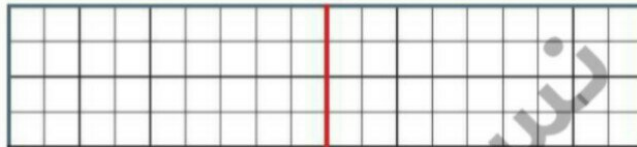


علوی

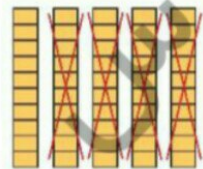
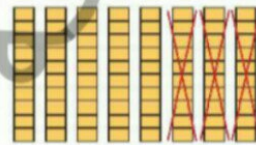
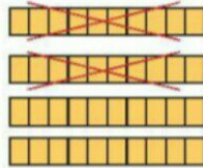
۱ الگوی زیر را ادامه بده.



۲ در سمت راست ۶ خانه را به دلخواه رنگ بزن؛ سپس نیمه‌ی دیگر را با توجه به خط تقارن کامل کن.



۳ برای هر شکل یک عبارت تقریبی بنویس.



- دانش آموز بتواند الگوی عددی را ادامه دهد.
- دانش آموز بتواند یک شکل نظریتی رسم و فرمندی آن را کامل کند.
- دانش آموز بتواند تقریب‌های مضرب ۱۰ را با کمک شکل انجام دهد.



Blank lines for student response or drawing.



علوی

۵ عدد هر دسته را بنویس.



۶ آیا می‌دانی یک هفته چند روز است؟ تقویم زیر را کامل کن و تاریخ روزهای جمعه را رنگ بزن.

شنبه	یکشنبه	دوشنبه	سه‌شنبه	چهارشنبه	پنجشنبه	جمعه
۱	۲	۳	۴	۵	۶	۷
۸						
۲۲						
۳۰						

۷ جاهای خالی را با اعداد و حروف مناسب کامل کن.

یکی ده‌تایی | ده‌تایی
۲ | ۰
عدد:
حروف:

یکی ده‌تایی | ده‌تایی
..... |
عدد: ۴۳
حروف:

یکی ده‌تایی | ده‌تایی
..... |
حروف: پنجاه و هشت

یکی ده‌تایی | ده‌تایی
۹ | ۷
عدد:
حروف:

یکی ده‌تایی | ده‌تایی
..... |
عدد: ۶۲
حروف:

یکی ده‌تایی | ده‌تایی
..... |
حروف: هفتاد و یک

- دانش‌آموز بتواند اعدادی را رنگ کند.
- دانش‌آموز بتواند اعداد را در جدول ارزش مکانی وارد و شرح کند.

