



با چوب خط جمع یا تفریق کن.
مسئله‌ها را با رسم چوب خط حل کن.

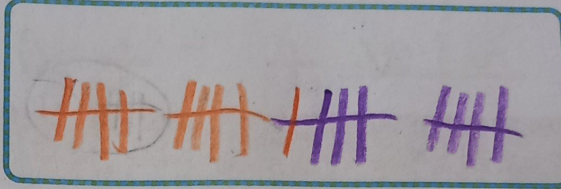
مسئله
حل کن





$$7 + 8 = 15$$



$$11 + 4 + 5 = 20$$



$$15 - 5 = 10$$



۴ اردک در آب بودند. ۵ اردک دیگر به آنها اضافه شدند. ۳ اردک دیگر هم آمدند. چند اردک در آب است؟

$$4 + 5 + 3 = 12$$

۱۲ اردک در آب است.

$$1 + 4 + 5 = 10$$



۸ دانش آموز در کلاس بودند. ۴ دانش آموز دیگر به کلاس آمدند. ۵ دانش آموز دیگر هم به کلاس آمدند. چند دانش آموز در کلاس هستند؟

۱۷ دانش آموز در کلاس است.