
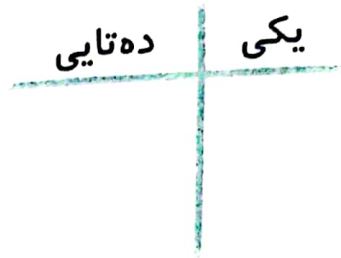
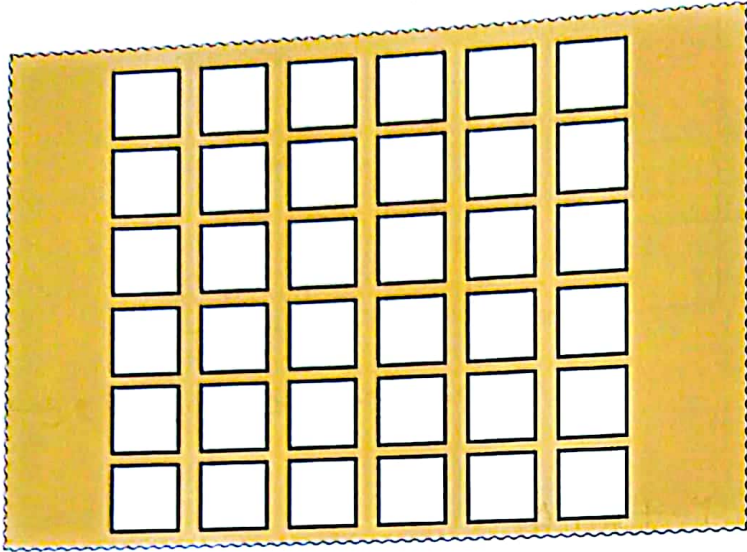


دسته‌های ده‌تایی درست کن سپس جدول را کامل و عدد مربوط را بنویس.



الگوهای شمارش را کامل کن.


۴۴ - ۴۵ - ۴۶ - - ۵۲

۱۳ - ۲۳ - ۳۳ - - ۹۳
 +۱۰ +۱۰

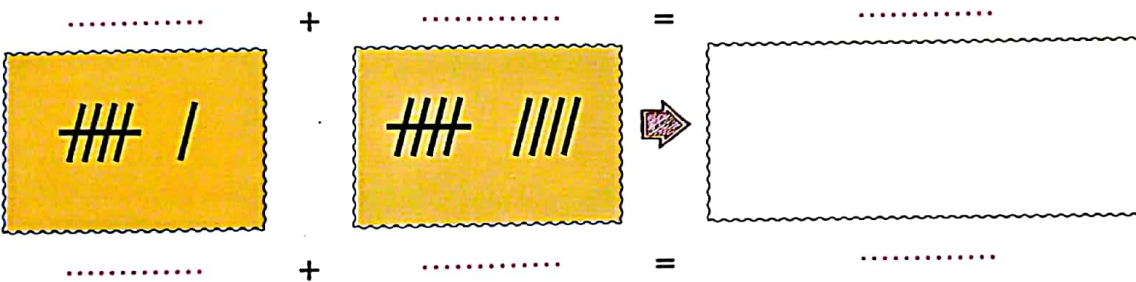

۵ - ۱۰ - ۱۵ - - ۴۵
 +۵



در جاهای خالی عدد مناسب بنویس.



حاصل جمع‌ها را با چوب‌خط پیدا کن و عبارت جمع را بنویس.



به الگوی شمارش توجه کن و در هر ردیف ۳ عدد بعد را بنویس.


○ - ۲ - ۴ -
+۲ +۲

○ - ۴ - ۸ -
+۴ +۴

با استفاده از ۲ رنگ جواب جمع‌ها را پیدا کن.



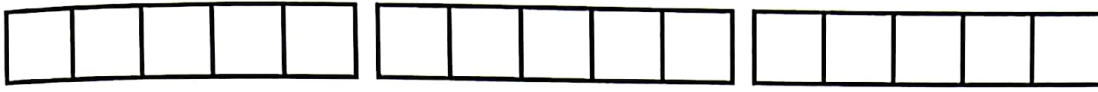
۹ + ۸ =



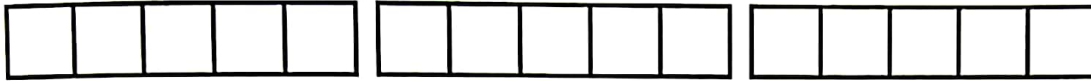
۵ + ۱۰ =



با توجه به جمع نوشته شده مربع‌ها را با رنگ‌های مختلف رنگ کن سپس حاصل را پیدا کن.





$$5 + 2 + 4 =$$





$$2 + 3 + 2 + 6 =$$

پاسخ هر قسمت را به دست بیاور و علامت مناسب $< = >$ را انتخاب کن.



$$\dots - \dots = \dots$$

$$\dots - \dots = \dots$$

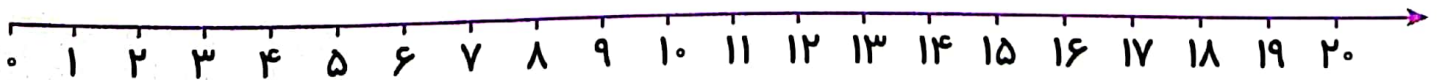


$$\dots + \dots = \dots$$

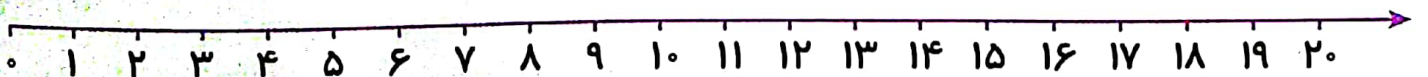
$$\dots + \dots = \dots$$

جمع و تفریق‌های زیر را با محور انجام بده.

$$5 + 8 =$$



$$10 - 6 =$$





با توجه به اعداد جاهای خالی را کامل کن.

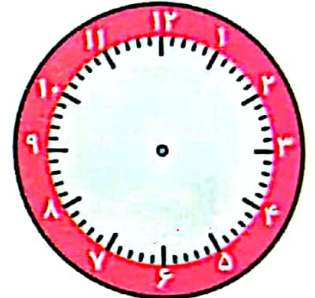
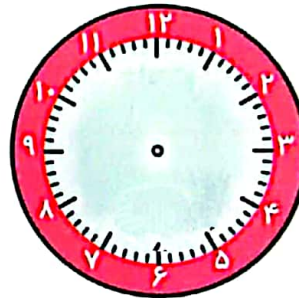
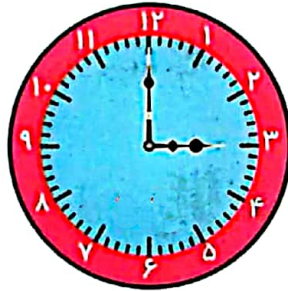
۳۵ ده تایی و یکی است.

۴۸ یکی و ده تایی است.

۵ ده تایی و ۳ یکی می شود

۶ یکی و ۹ ده تایی می شود

با توجه به الگو عقربه‌ی ساعت‌ها را بکش و زمان هر کدام را بنویس.



.....

.....

.....

.....

از عدد ۹۰ تا ۱۰۰ را ۲ تا ۲ تا بنویس.

۱۰۰ - - - - ۹۰

از عدد ۷۵ تا ۱۰۰ را ۵ تا ۵ تا بنویس.

۱۰۰ - - - - ۷۵

در هر قسمت عدد بنویس یا چوب‌خط رسم کن.

--	--	--

۹

۲۷


--	--

.....

.....



با توجه به شکل جدول را کامل کن و تعداد شکل را هم به عدد و هم به حروف و هم با چوب خط نمایش بده.



به عدد:

به حروف:

نمایش با چوب خط



علامت مناسب بگذار.

۱۷ ○ ۷۱

۴۵ ○ ۳۵

۶۱ ○ ۶۱

۱۰+۵ ○ ۱۵

۲۵-۵ ○ ۱۰

۹۵ ○ ۱۰۰

با عدد و حروف بنویس.

.....	نود	هفده	چهل و شش
۱۳	۷۸	۱۰۰

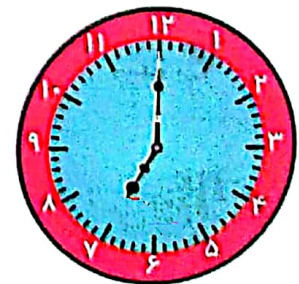
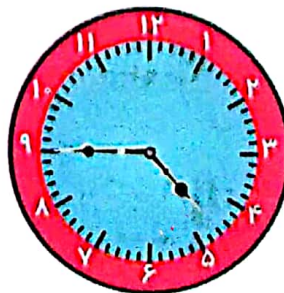

جای خالی را پر کن.

۲-۴-۶ - - - - -

۶۶-۶۷ - - - - -

۳-۱۳-۲۳ - - - - -

جمله‌ها را کامل کن.



کمی از ساعت گذشته است.

کمی به ساعت مانده است.

ساعت است.




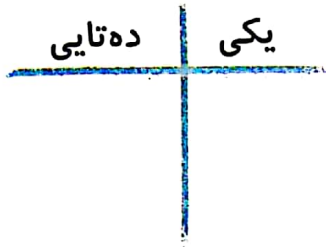
برای عدد زیر شکل بگش و به دسته‌های ده‌تایی تبدیل کن و در جدول قرار بده و به حروف بنویس و برایش چوب خط بکش.

عدد: ۲۸

به حروف:



نمایش با چوب خط



به حروف و به عدد بنویس.

۸۷	۱۳	۶۰
.....	نود و دو	سی و یک

الگوها را ادامه بده.

۴ - ۱۴ - ۲۴ -
 $+10$

۵۰ - ۵۵ - ۶۰ -
 $+5$ $+5$

۷۵ - ۷۶ - ۷۷ -

حاصل را به دست بیاور.

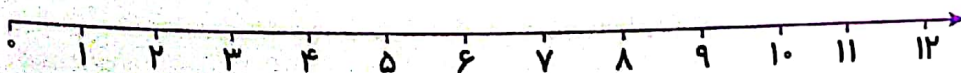
$۲۵ + ۲ + ۳ + ۱۰ = \dots\dots\dots$

$۸۰ - ۲۰ - ۱۰ = \dots\dots\dots$

$۸ + ۷ + ۵ + ۲۰ = \dots\dots\dots$

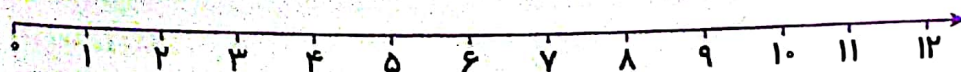
$۷۵ - ۵ + ۱۰ = \dots\dots\dots$

عبارت جمع و تفریق زیر را روی محور نشان بده و حاصل را به دست بیاور.



$۱۱ - ۳ - ۴ = \dots\dots\dots$

$۴ + ۲ - ۲ = \dots\dots\dots$





جاهای خالی را با اعداد مناسب کامل کن.

$$۲۰ + ۵ + ۱۰ + ۵ = \dots\dots\dots$$

$$۵ + ۱۰ + ۲۰ + ۲۰ = \dots\dots\dots$$

$$۲۰ + ۱۰ - ۵ = \dots\dots\dots$$

خانه‌ی هر عدد و حروفش را یک رنگ کن.

۱۵	۱۳	۴۵	۵۷	۱۸	۶۳
پنجاه و هفت	هجده	سیزده	پانزده	شصت و سه	چهل و پنج

جواب جمع و تفریق را بنویس، مقایسه کن و علامت مناسب را انتخاب کن.

$$۳۰ + ۴۰ =$$

< = >

$$۶۰ - ۲۰ =$$

$$۳۵ - ۱۰ =$$

< = >

$$۴۵ - ۲۰ =$$

$$۷ + ۸ =$$

< = >

$$۹ + ۴ =$$

رضا ۱۵ شکلات و سعید ۷ شکلات دارد. آن‌ها روی هم چند شکلات دارند؟ (به روش دلخواه)

.....

.....

آرش روی هم ۲۷ گل دارد، ۹ تایی آن زرد و ۹ تایی آن سفید است و بقیه گل‌ها به رنگ قرمز است. او

چند گل قرمز دارد؟

.....

.....

الف) از ۰ شروع کن و ۹ تا ۹ تا بشمار تا به ۳۶ برسی و در جاهای خالی بنویس.

- - - -

ب) از ۶۸ تا ۷۶ را بنویس.

.....